

**МИНИСТЕРСТВО ПРОСВЕЩЕНИЯ РОССИЙСКОЙ ФЕДЕРАЦИИ
АДМИНИСТРАЦИЯ ГОРОДА ТОМСКА
ДЕПАРТАМЕНТ ОБРАЗОВАНИЯ
МУНИЦИПАЛЬНО АВТОНОМНОЕ ОБЩЕОБРАЗОВАТЕЛЬНОЕ
УЧРЕЖДЕНИЕ
СРЕДНЯЯ ОБЩЕОБРАЗОВАТЕЛЬНАЯ ШКОЛА № 65 г. ТОМСКА**

СОГЛАСОВАНО

на Методическом совете

№ 4 от 28.06.2024 г.

УТВЕРЖДЕНО

Директор школы
Мальшева О.В.

№ 258 от 28.06.2024 г.

РАБОЧАЯ ПРОГРАММА

учебного предмета «Физика. Базовый уровень»

для обучающихся 7-9 классов

Томск 2024

ПОЯСНИТЕЛЬНАЯ ЗАПИСКА

Программа по физике на уровне основного общего образования составлена на основе положений и требований к результатам освоения на базовом уровне основной образовательной программы, представленных в ФГОС ООО, а также с учётом федеральной рабочей программы воспитания и Концепции преподавания учебного предмета «Физика».

Содержание программы по физике направлено на формирование естественнонаучной грамотности обучающихся и организацию изучения физики на деятельностной основе. В программе по физике учитываются возможности учебного предмета в реализации требований ФГОС ООО к планируемым личностным и метапредметным результатам обучения, а также межпредметные связи естественнонаучных учебных предметов на уровне основного общего образования.

Программа по физике устанавливает распределение учебного материала по годам обучения (по классам), предлагает примерную последовательность изучения тем, основанную на логике развития предметного содержания и учёте возрастных особенностей обучающихся.

Программа по физике разработана с целью оказания методической помощи учителю в создании рабочей программы по учебному предмету.

Физика является системообразующим для естественнонаучных учебных предметов, поскольку физические законы лежат в основе процессов и явлений, изучаемых химией, биологией, астрономией и физической географией, вносит вклад в естественнонаучную картину мира, предоставляет наиболее ясные образцы применения научного метода познания, то есть способа получения достоверных знаний о мире.

Одна из главных задач физического образования в структуре общего образования состоит в формировании естественнонаучной грамотности и интереса к науке у обучающихся.

Изучение физики на базовом уровне предполагает овладение следующими компетентностями, характеризующими естественнонаучную грамотность:

- научно объяснять явления;
- оценивать и понимать особенности научного исследования;
- интерпретировать данные и использовать научные доказательства для получения выводов.

Цели изучения физики на уровне основного общего образования определены в Концепции преподавания учебного предмета «Физика» в образовательных организациях Российской Федерации, реализующих основные общеобразовательные программы, утверждённой решением

Коллегии Министерства просвещения Российской Федерации (протокол от 3 декабря 2019 г. № ПК4вн).

Цели изучения физики:

- приобретение интереса и стремления обучающихся к научному изучению природы, развитие их интеллектуальных и творческих способностей;
- развитие представлений о научном методе познания и формирование исследовательского отношения к окружающим явлениям;
- формирование научного мировоззрения как результата изучения основ строения материи и фундаментальных законов физики;
- формирование представлений о роли физики для развития других естественных наук, техники и технологий;
- развитие представлений о возможных сферах будущей профессиональной деятельности, связанной с физикой, подготовка к дальнейшему обучению в этом направлении.

Достижение этих целей программы по физике на уровне основного общего образования обеспечивается решением следующих **задач**:

- приобретение знаний о дискретном строении вещества, о механических, тепловых, электрических, магнитных и квантовых явлениях;
- приобретение умений описывать и объяснять физические явления с использованием полученных знаний;
- освоение методов решения простейших расчётных задач с использованием физических моделей, творческих и практикоориентированных задач;
- развитие умений наблюдать природные явления и выполнять опыты, лабораторные работы и экспериментальные исследования с использованием измерительных приборов;
- освоение приёмов работы с информацией физического содержания, включая информацию о современных достижениях физики, анализ и критическое оценивание информации;
- знакомство со сферами профессиональной деятельности, связанными с физикой, и современными технологиями, основанными на достижениях физической науки.

На изучение физики (базовый уровень) на уровне основного общего образования отводится 238 часов: в 7 классе – 68 часов (2 часа в неделю), в 8 классе – 68 часов (2 часа в неделю), в 9 классе – 102 часа (3 часа в неделю).

Предлагаемый в программе по физике перечень лабораторных работ и опытов носит рекомендательный характер, учитель делает выбор проведения

лабораторных работ и опытов с учётом индивидуальных особенностей обучающихся, списка экспериментальных заданий, предлагаемых в рамках основного государственного экзамена по физике.

СОДЕРЖАНИЕ ОБУЧЕНИЯ

7 КЛАСС

Раздел 1. Физика и её роль в познании окружающего мира.

Физика – наука о природе. Явления природы. Физические явления: механические, тепловые, электрические, магнитные, световые, звуковые.

Физические величины. Измерение физических величин. Физические приборы. Погрешность измерений. Международная система единиц.

Как физика и другие естественные науки изучают природу. Естественнаучный метод познания: наблюдение, постановка научного вопроса, выдвижение гипотез, эксперимент по проверке гипотез, объяснение наблюдаемого явления. Описание физических явлений с помощью моделей.

Демонстрации.

1. Механические, тепловые, электрические, магнитные, световые явления.
2. Физические приборы и процедура прямых измерений аналоговым и цифровым прибором.

Лабораторные работы и опыты.

1. Определение цены деления шкалы измерительного прибора.
2. Измерение расстояний.
3. Измерение объёма жидкости и твёрдого тела.
4. Определение размеров малых тел.
5. Измерение температуры при помощи жидкостного термометра и датчика температуры.
6. Проведение исследования по проверке гипотезы: дальность полёта шарика, пущенного горизонтально, тем больше, чем больше высота пуска.

Раздел 2. Первоначальные сведения о строении вещества.

Строение вещества: атомы и молекулы, их размеры. Опыты, доказывающие дискретное строение вещества.

Движение частиц вещества. Связь скорости движения частиц с температурой. Броуновское движение, диффузия. Взаимодействие частиц вещества: притяжение и отталкивание.

Агрегатные состояния вещества: строение газов, жидкостей и твёрдых (кристаллических) тел. Взаимосвязь между свойствами веществ в разных агрегатных состояниях и их атомномолекулярным строением. Особенности агрегатных состояний воды.

Демонстрации.

1. Наблюдение броуновского движения.

2. Наблюдение диффузии.
3. Наблюдение явлений, объясняющихся притяжением или отталкиванием частиц вещества.

Лабораторные работы и опыты.

1. Оценка диаметра атома методом рядов (с использованием фотографий).
2. Опыты по наблюдению теплового расширения газов.
3. Опыты по обнаружению действия сил молекулярного притяжения.

Раздел 3. Движение и взаимодействие тел.

Механическое движение. Равномерное и неравномерное движение. Скорость. Средняя скорость при неравномерном движении. Расчёт пути и времени движения.

Явление инерции. Закон инерции. Взаимодействие тел как причина изменения скорости движения тел. Масса как мера инертности тела. Плотность вещества. Связь плотности с количеством молекул в единице объёма вещества.

Сила как характеристика взаимодействия тел. Сила упругости и закон Гука. Измерение силы с помощью динамометра. Явление тяготения и сила тяжести. Сила тяжести на других планетах. Вес тела. Невесомость. Сложение сил, направленных по одной прямой. Равнодействующая сил. Сила трения. Трение скольжения и трение покоя. Трение в природе и технике.

Демонстрации.

1. Наблюдение механического движения тела.
2. Измерение скорости прямолинейного движения.
3. Наблюдение явления инерции.
4. Наблюдение изменения скорости при взаимодействии тел.
5. Сравнение масс по взаимодействию тел.
6. Сложение сил, направленных по одной прямой.

Лабораторные работы и опыты.

1. Определение скорости равномерного движения (шарика в жидкости, модели электрического автомобиля и так далее).
2. Определение средней скорости скольжения бруска или шарика по наклонной плоскости.
3. Определение плотности твёрдого тела.
4. Опыты, демонстрирующие зависимость растяжения (деформации) пружины от приложенной силы.
5. Опыты, демонстрирующие зависимость силы трения скольжения от веса тела и характера соприкасающихся поверхностей.

Раздел 4. Давление твёрдых тел, жидкостей и газов.

Давление. Способы уменьшения и увеличения давления. Давление газа. Зависимость давления газа от объёма, температуры. Передача давления твёрдыми телами, жидкостями и газами. Закон Паскаля. Пневматические машины. Зависимость давления жидкости от глубины. Гидростатический парадокс. Сообщающиеся сосуды. Гидравлические механизмы.

Атмосфера Земли и атмосферное давление. Причины существования воздушной оболочки Земли. Опыт Торричелли. Измерение атмосферного давления. Зависимость атмосферного давления от высоты над уровнем моря. Приборы для измерения атмосферного давления.

Действие жидкости и газа на погружённое в них тело. Выталкивающая (архимедова) сила. Закон Архимеда. Плавание тел. Воздухоплавание.

Демонстрации.

1. Зависимость давления газа от температуры.
2. Передача давления жидкостью и газом.
3. Сообщающиеся сосуды.
4. Гидравлический пресс.
5. Проявление действия атмосферного давления.
6. Зависимость выталкивающей силы от объёма погружённой части тела и плотности жидкости.
7. Равенство выталкивающей силы весу вытесненной жидкости.
8. Условие плавания тел: плавание или погружение тел в зависимости от соотношения плотностей тела и жидкости.

Лабораторные работы и опыты.

1. Исследование зависимости веса тела в воде от объёма погружённой в жидкость части тела.
2. Определение выталкивающей силы, действующей на тело, погружённое в жидкость.
3. Проверка независимости выталкивающей силы, действующей на тело в жидкости, от массы тела.
4. Опыты, демонстрирующие зависимость выталкивающей силы, действующей на тело в жидкости, от объёма погружённой в жидкость части тела и от плотности жидкости.
5. Конструирование ареометра или конструирование лодки и определение её грузоподъёмности.

Раздел 5. Работа и мощность. Энергия.

Механическая работа. Мощность.

Простые механизмы: рычаг, блок, наклонная плоскость. Правило равновесия рычага. Применение правила равновесия рычага к блоку.

«Золотое правило» механики. КПД простых механизмов. Простые механизмы в быту и технике.

Механическая энергия. Кинетическая и потенциальная энергия. Превращение одного вида механической энергии в другой. Закон сохранения энергии в механике.

Демонстрации.

1. Примеры простых механизмов.

Лабораторные работы и опыты.

1. Определение работы силы трения при равномерном движении тела по горизонтальной поверхности.
2. Исследование условий равновесия рычага.
3. Измерение КПД наклонной плоскости.
4. Изучение закона сохранения механической энергии.

8 КЛАСС

Раздел 6. Тепловые явления.

Основные положения молекулярно-кинетической теории строения вещества. Масса и размеры атомов и молекул. Опыты, подтверждающие основные положения молекулярнокинетической теории.

Модели твёрдого, жидкого и газообразного состояний вещества. Кристаллические и аморфные тела. Объяснение свойств газов, жидкостей и твёрдых тел на основе положений молекулярно-кинетической теории. Смачивание и капиллярные явления. Тепловое расширение и сжатие.

Температура. Связь температуры со скоростью теплового движения частиц. Внутренняя энергия. Способы изменения внутренней энергии: теплопередача и совершение работы. Виды теплопередачи: теплопроводность, конвекция, излучение.

Количество теплоты. Удельная теплоёмкость вещества. Теплообмен и тепловое равновесие. Уравнение теплового баланса. Плавление и отвердевание кристаллических веществ. Удельная теплота плавления. Парообразование и конденсация. Испарение. Кипение. Удельная теплота парообразования. Зависимость температуры кипения от атмосферного давления.

Влажность воздуха.

Энергия топлива. Удельная теплота сгорания.

Принципы работы тепловых двигателей КПД теплового двигателя. Тепловые двигатели и защита окружающей среды.

Закон сохранения и превращения энергии в тепловых процессах.

Демонстрации.

1. Наблюдение броуновского движения.

2. Наблюдение диффузии.
3. Наблюдение явлений смачивания и капиллярных явлений.
4. Наблюдение теплового расширения тел.
5. Изменение давления газа при изменении объёма и нагревании или охлаждении.
6. Правила измерения температуры.
7. Виды теплопередачи.
8. Охлаждение при совершении работы.
9. Нагревание при совершении работы внешними силами.
10. Сравнение теплоёмкостей различных веществ.
11. Наблюдение кипения.
12. Наблюдение постоянства температуры при плавлении.
13. Модели тепловых двигателей.

Лабораторные работы и опыты.

1. Опыты по обнаружению действия сил молекулярного притяжения.
2. Опыты по выращиванию кристаллов поваренной соли или сахара.
3. Опыты по наблюдению теплового расширения газов, жидкостей и твёрдых тел.
4. Определение давления воздуха в баллоне шприца.
5. Опыты, демонстрирующие зависимость давления воздуха от его объёма и нагревания или охлаждения.
6. Проверка гипотезы линейной зависимости длины столбика жидкости в термометрической трубке от температуры.
7. Наблюдение изменения внутренней энергии тела в результате теплопередачи и работы внешних сил.
8. Исследование явления теплообмена при смешивании холодной и горячей воды.
9. Определение количества теплоты, полученного водой при теплообмене с нагретым металлическим цилиндром.
10. Определение удельной теплоёмкости вещества.
11. Исследование процесса испарения.
12. Определение относительной влажности воздуха.
13. Определение удельной теплоты плавления льда.

Раздел 7. Электрические и магнитные явления.

Электризация тел. Два рода электрических зарядов. Взаимодействие заряженных тел. Закон Кулона (зависимость силы взаимодействия заряженных тел от величины зарядов и расстояния между телами).

Электрическое поле. Напряжённость электрического поля. Принцип суперпозиции электрических полей (на качественном уровне).

Носители электрических зарядов. Элементарный электрический заряд. Строение атома. Проводники и диэлектрики. Закон сохранения электрического заряда.

Электрический ток. Условия существования электрического тока. Источники постоянного тока. Действия электрического тока (тепловое, химическое, магнитное). Электрический ток в жидкостях и газах.

Электрическая цепь. Сила тока. Электрическое напряжение. Сопротивление проводника. Удельное сопротивление вещества. Закон Ома для участка цепи. Последовательное и параллельное соединение проводников.

Работа и мощность электрического тока. Закон Джоуля–Ленца. Электрические цепи и потребители электрической энергии в быту. Короткое замыкание.

Постоянные магниты. Взаимодействие постоянных магнитов. Магнитное поле. Магнитное поле Земли и его значение для жизни на Земле. Опыт Эрстеда. Магнитное поле электрического тока. Применение электромагнитов в технике. Действие магнитного поля на проводник с током. Электродвигатель постоянного тока. Использование электродвигателей в технических устройствах и на транспорте.

Опыты Фарадея. Явление электромагнитной индукции. Правило Ленца. Электрогенератор. Способы получения электрической энергии. Электростанции на возобновляемых источниках энергии.

Демонстрации.

1. Электризация тел.
2. Два рода электрических зарядов и взаимодействие заряженных тел.
3. Устройство и действие электроскопа.
4. Электростатическая индукция.
5. Закон сохранения электрических зарядов.
6. Проводники и диэлектрики.
7. Моделирование силовых линий электрического поля.
8. Источники постоянного тока.
9. Действия электрического тока.
10. Электрический ток в жидкости.
11. Газовый разряд.
12. Измерение силы тока амперметром.
13. Измерение электрического напряжения вольтметром.
14. Реостат и магазин сопротивлений.
15. Взаимодействие постоянных магнитов.
16. Моделирование невозможности разделения полюсов магнита.

17. Моделирование магнитных полей постоянных магнитов.
18. Опыт Эрстеда.
19. Магнитное поле тока. Электромагнит.
20. Действие магнитного поля на проводник с током.
21. Электродвигатель постоянного тока.
22. Исследование явления электромагнитной индукции.
23. Опыты Фарадея.
24. Зависимость направления индукционного тока от условий его возникновения.
25. Электрогенератор постоянного тока.

Лабораторные работы и опыты.

1. Опыты по наблюдению электризации тел индукцией и при соприкосновении.
2. Исследование действия электрического поля на проводники и диэлектрики.
3. Сборка и проверка работы электрической цепи постоянного тока.
4. Измерение и регулирование силы тока.
5. Измерение и регулирование напряжения.
6. Исследование зависимости силы тока, идущего через резистор, от сопротивления резистора и напряжения на резисторе.
7. Опыты, демонстрирующие зависимость электрического сопротивления проводника от его длины, площади поперечного сечения и материала.
8. Проверка правила сложения напряжений при последовательном соединении двух резисторов.
9. Проверка правила для силы тока при параллельном соединении резисторов.
10. Определение работы электрического тока, идущего через резистор.
11. Определение мощности электрического тока, выделяемой на резисторе.
12. Исследование зависимости силы тока, идущего через лампочку, от напряжения на ней.
13. Определение КПД нагревателя.
14. Исследование магнитного взаимодействия постоянных магнитов.
15. Изучение магнитного поля постоянных магнитов при их объединении и разделении.
16. Исследование действия электрического тока на магнитную стрелку.

17. Опыты, демонстрирующие зависимость силы взаимодействия катушки с током и магнита от силы тока и направления тока в катушке.
18. Изучение действия магнитного поля на проводник с током.
19. Конструирование и изучение работы электродвигателя.
20. Измерение КПД электродвигательной установки.
21. Опыты по исследованию явления электромагнитной индукции: исследование изменений значения и направления индукционного тока.

9 КЛАСС

Раздел 8. Механические явления.

Механическое движение. Материальная точка. Система отсчёта. Относительность механического движения. Равномерное прямолинейное движение. Неравномерное прямолинейное движение. Средняя и мгновенная скорость тела при неравномерном движении.

Ускорение. Равноускоренное прямолинейное движение. Свободное падение. Опыты Галилея.

Равномерное движение по окружности. Период и частота обращения. Линейная и угловая скорости. Центробежное ускорение.

Первый закон Ньютона. Второй закон Ньютона. Третий закон Ньютона. Принцип суперпозиции сил.

Сила упругости. Закон Гука. Сила трения: сила трения скольжения, сила трения покоя, другие виды трения.

Сила тяжести и закон всемирного тяготения. Ускорение свободного падения. Движение планет вокруг Солнца. Первая космическая скорость. Невесомость и перегрузки.

Равновесие материальной точки. Абсолютно твёрдое тело. Равновесие твёрдого тела с закреплённой осью вращения. Момент силы. Центр тяжести.

Импульс тела. Изменение импульса. Импульс силы. Закон сохранения импульса. Реактивное движение.

Механическая работа и мощность. Работа сил тяжести, упругости, трения. Связь энергии и работы. Потенциальная энергия тела, поднятого над поверхностью земли. Потенциальная энергия сжатой пружины. Кинетическая энергия. Теорема о кинетической энергии. Закон сохранения механической энергии.

Демонстрации.

1. Наблюдение механического движения тела относительно разных тел отсчёта.

2. Сравнение путей и траекторий движения одного и того же тела относительно разных тел отсчёта.
3. Измерение скорости и ускорения прямолинейного движения.
4. Исследование признаков равноускоренного движения.
5. Наблюдение движения тела по окружности.
6. Наблюдение механических явлений, происходящих в системе отсчёта «Тележка» при её равномерном и ускоренном движении относительно кабинета физики.
7. Зависимость ускорения тела от массы тела и действующей на него силы.
8. Наблюдение равенства сил при взаимодействии тел.
9. Изменение веса тела при ускоренном движении.
10. Передача импульса при взаимодействии тел.
11. Преобразования энергии при взаимодействии тел.
12. Сохранение импульса при неупругом взаимодействии.
13. Сохранение импульса при абсолютно упругом взаимодействии.
14. Наблюдение реактивного движения.
15. Сохранение механической энергии при свободном падении.
16. Сохранение механической энергии при движении тела под действием пружины.

Лабораторные работы и опыты.

1. Конструирование тракта для разгона и дальнейшего равномерного движения шарика или тележки.
2. Определение средней скорости скольжения бруска или движения шарика по наклонной плоскости.
3. Определение ускорения тела при равноускоренном движении по наклонной плоскости.
4. Исследование зависимости пути от времени при равноускоренном движении без начальной скорости.
5. Проверка гипотезы: если при равноускоренном движении без начальной скорости пути относятся как ряд нечётных чисел, то соответствующие промежутки времени одинаковы.
6. Исследование зависимости силы трения скольжения от силы нормального давления.
7. Определение коэффициента трения скольжения.
8. Определение жёсткости пружины.
9. Определение работы силы трения при равномерном движении тела по горизонтальной поверхности.

10. Определение работы силы упругости при подъёме груза с использованием неподвижного и подвижного блоков.
11. Изучение закона сохранения энергии.

Раздел 9. Механические колебания и волны.

Колебательное движение. Основные характеристики колебаний: период, частота, амплитуда. Математический и пружинный маятники. Превращение энергии при колебательном движении.

Затухающие колебания. Вынужденные колебания. Резонанс. Механические волны. Свойства механических волн. Продольные и поперечные волны. Длина волны и скорость её распространения. Механические волны в твёрдом теле, сейсмические волны.

Звук. Громкость звука и высота тона. Отражение звука. Инфразвук и ультразвук.

Демонстрации.

1. Наблюдение колебаний тел под действием силы тяжести и силы упругости.
2. Наблюдение колебаний груза на нити и на пружине.
3. Наблюдение вынужденных колебаний и резонанса.
4. Распространение продольных и поперечных волн (на модели).
5. Наблюдение зависимости высоты звука от частоты.
6. Акустический резонанс.

Лабораторные работы и опыты.

1. Определение частоты и периода колебаний математического маятника.
2. Определение частоты и периода колебаний пружинного маятника.
3. Исследование зависимости периода колебаний подвешенного к нити груза от длины нити.
4. Исследование зависимости периода колебаний пружинного маятника от массы груза.
5. Проверка независимости периода колебаний груза, подвешенного к нити, от массы груза.
6. Опыты, демонстрирующие зависимость периода колебаний пружинного маятника от массы груза и жёсткости пружины.
7. Измерение ускорения свободного падения.

Раздел 10. Электромагнитное поле и электромагнитные волны.

Электромагнитное поле. Электромагнитные волны. Свойства электромагнитных волн. Шкала электромагнитных волн. Использование электромагнитных волн для сотовой связи.

Электромагнитная природа света. Скорость света. Волновые свойства света.

Демонстрации.

1. Свойства электромагнитных волн.
2. Волновые свойства света.

Лабораторные работы и опыты.

1. Изучение свойств электромагнитных волн с помощью мобильного телефона.

Раздел 11. Световые явления.

Лучевая модель света. Источники света. Прямолинейное распространение света. Затмения Солнца и Луны. Отражение света. Плоское зеркало. Закон отражения света.

Преломление света. Закон преломления света. Полное внутреннее отражение света. Использование полного внутреннего отражения в оптических световодах.

Линза. Ход лучей в линзе. Оптическая система фотоаппарата, микроскопа и телескопа. Глаз как оптическая система. Близорукость и дальнозоркость.

Разложение белого света в спектр. Опыты Ньютона. Сложение спектральных цветов. Дисперсия света.

Демонстрации.

1. Прямолинейное распространение света.
2. Отражение света.
3. Получение изображений в плоском, вогнутом и выпуклом зеркалах.
4. Преломление света.
5. Оптический световод.
6. Ход лучей в собирающей линзе.
7. Ход лучей в рассеивающей линзе.
8. Получение изображений с помощью линз.
9. Принцип действия фотоаппарата, микроскопа и телескопа.
10. Модель глаза.
11. Разложение белого света в спектр.
12. Получение белого света при сложении света разных цветов.

Лабораторные работы и опыты.

1. Исследование зависимости угла отражения светового луча от угла падения.
2. Изучение характеристик изображения предмета в плоском зеркале.
3. Исследование зависимости угла преломления светового луча от угла падения на границе «воздух–стекло».

4. Получение изображений с помощью собирающей линзы.
5. Определение фокусного расстояния и оптической силы собирающей линзы.
6. Опыты по разложению белого света в спектр.
7. Опыты по восприятию цвета предметов при их наблюдении через цветные фильтры.

Раздел 12. Квантовые явления.

Опыты Резерфорда и планетарная модель атома. Модель атома Бора. Испускание и поглощение света атомом. Кванты. Линейчатые спектры.

Радиоактивность. Альфа, бета- и гамма-излучения. Строение атомного ядра. Нуклонная модель атомного ядра. Изотопы. Радиоактивные превращения. Период полураспада атомных ядер.

Ядерные реакции. Законы сохранения зарядового и массового чисел. Энергия связи атомных ядер. Связь массы и энергии. Реакции синтеза и деления ядер. Источники энергии Солнца и звёзд.

Ядерная энергетика. Действия радиоактивных излучений на живые организмы.

Демонстрации.

1. Спектры излучения и поглощения.
2. Спектры различных газов.
3. Спектр водорода.
4. Наблюдение треков в камере Вильсона.
5. Работа счётчика ионизирующих излучений.
6. Регистрация излучения природных минералов и продуктов.

Лабораторные работы и опыты.

1. Наблюдение сплошных и линейчатых спектров излучения.
2. Исследование треков: измерение энергии частицы по тормозному пути (по фотографиям).
3. Измерение радиоактивного фона.

Повторительно-обобщающий модуль.

Повторительно-обобщающий модуль предназначен для систематизации и обобщения предметного содержания и опыта деятельности, приобретённого при изучении всего курса физики, а также для подготовки к основному государственному экзамену по физике для обучающихся, выбравших этот учебный предмет.

При изучении данного модуля реализуются и систематизируются виды деятельности, на основе которых обеспечивается достижение предметных и метапредметных планируемых результатов обучения, формируется естественнонаучная грамотность: освоение научных методов исследования

явлений природы и техники, овладение умениями объяснять физические явления, применяя полученные знания, решать задачи, в том числе качественные и экспериментальные.

Принципиально деятельностный характер данного раздела реализуется за счёт того, что обучающиеся выполняют задания, в которых им предлагается:

на основе полученных знаний распознавать и научно объяснять физические явления в окружающей природе и повседневной жизни;

использовать научные методы исследования физических явлений, в том числе для проверки гипотез и получения теоретических выводов;

объяснять научные основы наиболее важных достижений современных технологий, например, практического использования различных источников энергии на основе закона превращения и сохранения всех известных видов энергии.

ПЛАНИРУЕМЫЕ РЕЗУЛЬТАТЫ ОСВОЕНИЯ ПРОГРАММЫ ПО ФИЗИКЕ НА УРОВНЕ ОСНОВНОГО ОБЩЕГО ОБРАЗОВАНИЯ

Изучение физики на уровне основного общего образования направлено на достижение личностных, метапредметных и предметных образовательных результатов.

В результате изучения физики на уровне основного общего образования у обучающегося будут сформированы следующие личностные результаты в части:

- **1) патриотического воспитания:**

- – проявление интереса к истории и современному состоянию российской физической науки;
- – ценностное отношение к достижениям российских учёных-физиков;

- **2) гражданского и духовно-нравственного воспитания:**

- – готовность к активному участию в обсуждении общественно значимых и этических проблем, связанных с практическим применением достижений физики;
- – осознание важности морально-этических принципов в деятельности учёного;

- **3) эстетического воспитания:**

- – восприятие эстетических качеств физической науки: её гармоничного построения, строгости, точности, лаконичности;

- **4) ценности научного познания:**

- – осознание ценности физической науки как мощного инструмента познания мира, основы развития технологий, важнейшей составляющей культуры;
- – развитие научной любознательности, интереса к исследовательской деятельности;

- **5) формирования культуры здоровья и эмоционального благополучия:**

- – осознание ценности безопасного образа жизни в современном технологическом мире, важности правил безопасного поведения на транспорте, на дорогах, с электрическим и тепловым оборудованием в домашних условиях;
- – сформированность навыка рефлексии, признание своего права на ошибку и такого же права у другого человека;

- **б) трудового воспитания:**

- – активное участие в решении практических задач (в рамках семьи, образовательной организации, города, края) технологической и

социальной направленности, требующих в том числе и физических знаний;

- – интерес к практическому изучению профессий, связанных с физикой;
- **7) экологического воспитания:**
- – ориентация на применение физических знаний для решения задач в области окружающей среды, планирования поступков и оценки их возможных последствий для окружающей среды;
- – осознание глобального характера экологических проблем и путей их решения;
- **8) адаптации к изменяющимся условиям социальной и природной среды:**
- – потребность во взаимодействии при выполнении исследований и проектов физической направленности, открытость опыту и знаниям других;
- – повышение уровня своей компетентности через практическую деятельность;
- – потребность в формировании новых знаний, в том числе формулировать идеи, понятия, гипотезы о физических объектах и явлениях;
- – осознание дефицитов собственных знаний и компетентностей в области физики;
- – планирование своего развития в приобретении новых физических знаний;
- – стремление анализировать и выявлять взаимосвязи природы, общества и экономики, в том числе с использованием физических знаний;
- – оценка своих действий с учётом влияния на окружающую среду, возможных глобальных последствий.

МЕТАПРЕДМЕТНЫЕ РЕЗУЛЬТАТЫ

В результате освоения программы по физике на уровне основного общего образования у обучающегося будут сформированы **метапредметные результаты**, включающие познавательные универсальные учебные действия, коммуникативные универсальные учебные действия, регулятивные универсальные учебные действия.

Познавательные универсальные учебные действия

Базовые логические действия:

- выявлять и характеризовать существенные признаки объектов (явлений);
- устанавливать существенный признак классификации, основания для обобщения и сравнения;
- выявлять закономерности и противоречия в рассматриваемых фактах, данных и наблюдениях, относящихся к физическим явлениям;
- выявлять причинно-следственные связи при изучении физических явлений и процессов, делать выводы с использованием дедуктивных и индуктивных умозаключений, выдвигать гипотезы о взаимосвязях физических величин;
- самостоятельно выбирать способ решения учебной физической задачи (сравнение нескольких вариантов решения, выбор наиболее подходящего с учётом самостоятельно выделенных критериев).

Базовые исследовательские действия:

- использовать вопросы как исследовательский инструмент познания;
- проводить по самостоятельно составленному плану опыт, несложный физический эксперимент, небольшое исследование физического явления;
- оценивать на применимость и достоверность информацию, полученную в ходе исследования или эксперимента;
- самостоятельно формулировать обобщения и выводы по результатам проведённого наблюдения, опыта, исследования;
- прогнозировать возможное дальнейшее развитие физических процессов, а также выдвигать предположения об их развитии в новых условиях и контекстах.

Работа с информацией:

- применять различные методы, инструменты и запросы при поиске и отборе информации или данных с учётом предложенной учебной физической задачи;
- анализировать, систематизировать и интерпретировать информацию различных видов и форм представления;
- самостоятельно выбирать оптимальную форму представления информации и иллюстрировать решаемые задачи несложными схемами, диаграммами, иной графикой и их комбинациями.

Коммуникативные универсальные учебные действия:

- в ходе обсуждения учебного материала, результатов лабораторных работ и проектов задавать вопросы по существу обсуждаемой темы и высказывать идеи, нацеленные на решение задачи и поддержание благожелательности общения;

- сопоставлять свои суждения с суждениями других участников диалога, обнаруживать различие и сходство позиций;
- выражать свою точку зрения в устных и письменных текстах;
- публично представлять результаты выполненного физического опыта (эксперимента, исследования, проекта);
- понимать и использовать преимущества командной и индивидуальной работы при решении конкретной физической проблемы;
- принимать цели совместной деятельности, организовывать действия по её достижению: распределять роли, обсуждать процессы и результаты совместной работы, обобщать мнения нескольких людей;
- выполнять свою часть работы, достигая качественного результата по своему направлению и координируя свои действия с другими членами команды;
- оценивать качество своего вклада в общий продукт по критериям, самостоятельно сформулированным участниками взаимодействия.

Регулятивные универсальные учебные действия

Самоорганизация:

- выявлять проблемы в жизненных и учебных ситуациях, требующих для решения физических знаний;
- ориентироваться в различных подходах принятия решений (индивидуальное, принятие решения в группе, принятие решений группой);
- самостоятельно составлять алгоритм решения физической задачи или плана исследования с учётом имеющихся ресурсов и собственных возможностей, аргументировать предлагаемые варианты решений;
- делать выбор и брать ответственность за решение.

Самоконтроль, эмоциональный интеллект:

- давать адекватную оценку ситуации и предлагать план её изменения;
- объяснять причины достижения (недостижения) результатов деятельности, давать оценку приобретённому опыту;
- вносить коррективы в деятельность (в том числе в ход выполнения физического исследования или проекта) на основе новых обстоятельств, изменившихся ситуаций, установленных ошибок, возникших трудностей;
- оценивать соответствие результата цели и условиям;
- ставить себя на место другого человека в ходе спора или дискуссии на научную тему, понимать мотивы, намерения и логику другого;

- признавать своё право на ошибку при решении физических задач или в утверждениях на научные темы и такое же право другого.

ПРЕДМЕТНЫЕ РЕЗУЛЬТАТЫ

К концу обучения **в 7 классе** предметные результаты на базовом уровне должны отражать сформированность у обучающихся умений:

- использовать понятия: физические и химические явления, наблюдение, эксперимент, модель, гипотеза, единицы физических величин, атом, молекула, агрегатные состояния вещества (твёрдое, жидкое, газообразное), механическое движение (равномерное, неравномерное, прямолинейное), траектория, равнодействующая сила, деформация (упругая, пластическая), невесомость, сообщающиеся сосуды;
- различать явления (диффузия, тепловое движение частиц вещества, равномерное движение, неравномерное движение, инерция, взаимодействие тел, равновесие твёрдых тел с закреплённой осью вращения, передача давления твёрдыми телами, жидкостями и газами, атмосферное давление, плавание тел, превращения механической энергии) по описанию их характерных свойств и на основе опытов, демонстрирующих данное физическое явление;
- распознавать проявление изученных физических явлений в окружающем мире, в том числе физические явления в природе: примеры движения с различными скоростями в живой и неживой природе, действие силы трения в природе и технике, влияние атмосферного давления на живой организм, плавание рыб, рычаги в теле человека, при этом переводить практическую задачу в учебную, выделять существенные свойства (признаки) физических явлений;
- описывать изученные свойства тел и физические явления, используя физические величины (масса, объём, плотность вещества, время, путь, скорость, средняя скорость, сила упругости, сила тяжести, вес тела, сила трения, давление (твёрдого тела, жидкости, газа), выталкивающая сила, механическая работа, мощность, плечо силы, момент силы, коэффициент полезного действия механизмов, кинетическая и потенциальная энергия), при описании правильно трактовать физический смысл используемых величин, их обозначения и единицы физических величин, находить формулы, связывающие данную физическую величину с другими величинами, строить графики изученных зависимостей физических величин;

- характеризовать свойства тел, физические явления и процессы, используя правила сложения сил (вдоль одной прямой), закон Гука, закон Паскаля, закон Архимеда, правило равновесия рычага (блока), «золотое правило» механики, закон сохранения механической энергии, при этом давать словесную формулировку закона и записывать его математическое выражение;
- объяснять физические явления, процессы и свойства тел, в том числе и в контексте ситуаций практикоориентированного характера: выявлять причинно-следственные связи, строить объяснение из 1–2 логических шагов с опорой на 1–2 изученных свойства физических явлений, физических закона или закономерности;
- решать расчётные задачи в 1–2 действия, используя законы и формулы, связывающие физические величины: на основе анализа условия задачи записывать краткое условие, подставлять физические величины в формулы и проводить расчёты, находить справочные данные, необходимые для решения задач, оценивать реалистичность полученной физической величины;
- распознавать проблемы, которые можно решить при помощи физических методов, в описании исследования выделять проверяемое предположение (гипотезу), различать и интерпретировать полученный результат, находить ошибки в ходе опыта, делать выводы по его результатам;
- проводить опыты по наблюдению физических явлений или физических свойств тел: формулировать проверяемые предположения, собирать установку из предложенного оборудования, записывать ход опыта и формулировать выводы;
- выполнять прямые измерения расстояния, времени, массы тела, объёма, силы и температуры с использованием аналоговых и цифровых приборов, записывать показания приборов с учётом заданной абсолютной погрешности измерений;
- проводить исследование зависимости одной физической величины от другой с использованием прямых измерений (зависимости пути равномерно движущегося тела от времени движения тела, силы трения скольжения от веса тела, качества обработки поверхностей тел и независимости силы трения от площади соприкосновения тел, силы упругости от удлинения пружины, выталкивающей силы от объёма погружённой части тела и от плотности жидкости, её независимости от плотности тела, от глубины, на которую погружено тело, условий плавания тел, условий равновесия рычага и блоков), участвовать в

планировании учебного исследования, собирать установку и выполнять измерения, следуя предложенному плану, фиксировать результаты полученной зависимости физических величин в виде предложенных таблиц и графиков, делать выводы по результатам исследования;

- проводить косвенные измерения физических величин (плотность вещества жидкости и твёрдого тела, сила трения скольжения, давление воздуха, выталкивающая сила, действующая на погружённое в жидкость тело, коэффициент полезного действия простых механизмов), следуя предложенной инструкции: при выполнении измерений собирать экспериментальную установку и вычислять значение искомой величины;
- соблюдать правила техники безопасности при работе с лабораторным оборудованием;
- указывать принципы действия приборов и технических устройств: весы, термометр, динамометр, сообщающиеся сосуды, барометр, рычаг, подвижный и неподвижный блок, наклонная плоскость;
- характеризовать принципы действия изученных приборов и технических устройств с опорой на их описания (в том числе: подшипники, устройство водопровода, гидравлический пресс, манометр, высотомер, поршневой насос, ареометр), используя знания о свойствах физических явлений и необходимые физические законы и закономерности;
- приводить примеры (находить информацию о примерах) практического использования физических знаний в повседневной жизни для обеспечения безопасности при обращении с приборами и техническими устройствами, сохранения здоровья и соблюдения норм экологического поведения в окружающей среде;
- осуществлять отбор источников информации в Интернете в соответствии с заданным поисковым запросом, на основе имеющихся знаний и путём сравнения различных источников выделять информацию, которая является противоречивой или может быть недостоверной;
- использовать при выполнении учебных заданий научно-популярную литературу физического содержания, справочные материалы, ресурсы сети Интернет, владеть приёмами конспектирования текста, преобразования информации из одной знаковой системы в другую;
- создавать собственные краткие письменные и устные сообщения на основе 2–3 источников информации физического содержания, в том

числе публично делать краткие сообщения о результатах проектов или учебных исследований, при этом грамотно использовать изученный понятийный аппарат курса физики, сопровождать выступление презентацией;

- при выполнении учебных проектов и исследований распределять обязанности в группе в соответствии с поставленными задачами, следить за выполнением плана действий, адекватно оценивать собственный вклад в деятельность группы, выстраивать коммуникативное взаимодействие, учитывая мнение окружающих.

К концу обучения в 8 классе предметные результаты на базовом уровне должны отражать сформированность у обучающихся умений:

- использовать понятия: масса и размеры молекул, тепловое движение атомов и молекул, агрегатные состояния вещества, кристаллические и аморфные тела, насыщенный и ненасыщенный пар, влажность воздуха, температура, внутренняя энергия, тепловой двигатель, элементарный электрический заряд, электрическое поле, проводники и диэлектрики, постоянный электрический ток, магнитное поле;
- различать явления (тепловое расширение и сжатие, теплопередача, тепловое равновесие, смачивание, капиллярные явления, испарение, конденсация, плавление, кристаллизация (отвердевание), кипение, теплопередача (теплопроводность, конвекция, излучение), электризация тел, взаимодействие зарядов, действия электрического тока, короткое замыкание, взаимодействие магнитов, действие магнитного поля на проводник с током, электромагнитная индукция) по описанию их характерных свойств и на основе опытов, демонстрирующих данное физическое явление;
- распознавать проявление изученных физических явлений в окружающем мире, в том числе физические явления в природе: поверхностное натяжение и капиллярные явления в природе, кристаллы в природе, излучение Солнца, замерзание водоёмов, морские бризы, образование росы, тумана, инея, снега, электрические явления в атмосфере, электричество живых организмов, магнитное поле Земли, дрейф полюсов, роль магнитного поля для жизни на Земле, полярное сияние, при этом переводить практическую задачу в учебную, выделять существенные свойства (признаки) физических явлений;
- описывать изученные свойства тел и физические явления, используя физические величины (температура, внутренняя энергия, количество теплоты, удельная теплоёмкость вещества, удельная теплота

плавления, удельная теплота парообразования, удельная теплота сгорания топлива, коэффициент полезного действия тепловой машины, относительная влажность воздуха, электрический заряд, сила тока, электрическое напряжение, сопротивление проводника, удельное сопротивление вещества, работа и мощность электрического тока), при описании правильно трактовать физический смысл используемых величин, обозначения и единицы физических величин, находить формулы, связывающие данную физическую величину с другими величинами, строить графики изученных зависимостей физических величин;

- характеризовать свойства тел, физические явления и процессы, используя основные положения молекулярно-кинетической теории строения вещества, принцип суперпозиции полей (на качественном уровне), закон сохранения заряда, закон Ома для участка цепи, закон Джоуля–Ленца, закон сохранения энергии, при этом давать словесную формулировку закона и записывать его математическое выражение;
- объяснять физические процессы и свойства тел, в том числе и в контексте ситуаций практикоориентированного характера: выявлять причинноследственные связи, строить объяснение из 1–2 логических шагов с опорой на 1–2 изученных свойства физических явлений, физических законов или закономерностей;
- решать расчётные задачи в 2–3 действия, используя законы и формулы, связывающие физические величины: на основе анализа условия задачи записывать краткое условие, выявлять недостаток данных для решения задачи, выбирать законы и формулы, необходимые для её решения, проводить расчёты и сравнивать полученное значение физической величины с известными данными;
- распознавать проблемы, которые можно решить при помощи физических методов, используя описание исследования, выделять проверяемое предположение, оценивать правильность порядка проведения исследования, делать выводы;
- проводить опыты по наблюдению физических явлений или физических свойств тел (капиллярные явления, зависимость давления воздуха от его объёма, температуры, скорости процесса остывания и нагревания при излучении от цвета излучающей (поглощающей) поверхности, скорость испарения воды от температуры жидкости и площади её поверхности, электризация тел и взаимодействие электрических зарядов, взаимодействие постоянных магнитов,

визуализация магнитных полей постоянных магнитов, действия магнитного поля на проводник с током, свойства электромагнита, свойства электродвигателя постоянного тока): формулировать проверяемые предположения, собирать установку из предложенного оборудования, описывать ход опыта и формулировать выводы;

- выполнять прямые измерения температуры, относительной влажности воздуха, силы тока, напряжения с использованием аналоговых приборов и датчиков физических величин, сравнивать результаты измерений с учётом заданной абсолютной погрешности;
- проводить исследование зависимости одной физической величины от другой с использованием прямых измерений (зависимость сопротивления проводника от его длины, площади поперечного сечения и удельного сопротивления вещества проводника, силы тока, идущего через проводник, от напряжения на проводнике, исследование последовательного и параллельного соединений проводников): планировать исследование, собирать установку и выполнять измерения, следуя предложенному плану, фиксировать результаты полученной зависимости в виде таблиц и графиков, делать выводы по результатам исследования;
- проводить косвенные измерения физических величин (удельная теплоёмкость вещества, сопротивление проводника, работа и мощность электрического тока): планировать измерения, собирать экспериментальную установку, следуя предложенной инструкции, и вычислять значение величины;
- соблюдать правила техники безопасности при работе с лабораторным оборудованием;
- характеризовать принципы действия изученных приборов и технических устройств с опорой на их описания (в том числе: система отопления домов, гигрометр, паровая турбина, амперметр, вольтметр, счётчик электрической энергии, электроосветительные приборы, нагревательные электроприборы (примеры), электрические предохранители, электромагнит, электродвигатель постоянного тока), используя знания о свойствах физических явлений и необходимые физические закономерности;
- распознавать простые технические устройства и измерительные приборы по схемам и схематичным рисункам (жидкостный термометр, термос, психрометр, гигрометр, двигатель внутреннего сгорания, электроскоп, реостат), составлять схемы электрических

цепей с последовательным и параллельным соединением элементов, различая условные обозначения элементов электрических цепей;

- приводить примеры (находить информацию о примерах) практического использования физических знаний в повседневной жизни для обеспечения безопасности при обращении с приборами и техническими устройствами, сохранения здоровья и соблюдения норм экологического поведения в окружающей среде;
- осуществлять поиск информации физического содержания в Интернете, на основе имеющихся знаний и путём сравнения дополнительных источников выделять информацию, которая является противоречивой или может быть недостоверной;
- использовать при выполнении учебных заданий научно-популярную литературу физического содержания, справочные материалы, ресурсы сети Интернет, владеть приёмами конспектирования текста, преобразования информации из одной знаковой системы в другую;
- создавать собственные письменные и краткие устные сообщения, обобщая информацию из нескольких источников физического содержания, в том числе публично представлять результаты проектной или исследовательской деятельности, при этом грамотно использовать изученный понятийный аппарат курса физики, сопровождать выступление презентацией;
- при выполнении учебных проектов и исследований физических процессов распределять обязанности в группе в соответствии с поставленными задачами, следить за выполнением плана действий и корректировать его, адекватно оценивать собственный вклад в деятельность группы, выстраивать коммуникативное взаимодействие, проявляя готовность разрешать конфликты.

К концу обучения в 9 классе предметные результаты на базовом уровне должны отражать сформированность у обучающихся умений:

- использовать понятия: система отсчёта, материальная точка, траектория, относительность механического движения, деформация (упругая, пластическая), трение, центростремительное ускорение, невесомость и перегрузки, центр тяжести, абсолютно твёрдое тело, центр тяжести твёрдого тела, равновесие, механические колебания и волны, звук, инфразвук и ультразвук, электромагнитные волны, шкала электромагнитных волн, свет, близорукость и дальновидность, спектры испускания и поглощения, альфа, бета- и гамма-излучения, изотопы, ядерная энергетика;

- различать явления (равномерное и неравномерное прямолинейное движение, равноускоренное прямолинейное движение, свободное падение тел, равномерное движение по окружности, взаимодействие тел, реактивное движение, колебательное движение (затухающие и вынужденные колебания), резонанс, волновое движение, отражение звука, прямолинейное распространение, отражение и преломление света, полное внутреннее отражение света, разложение белого света в спектр и сложение спектральных цветов, дисперсия света, естественная радиоактивность, возникновение линейчатого спектра излучения) по описанию их характерных свойств и на основе опытов, демонстрирующих данное физическое явление;
- распознавать проявление изученных физических явлений в окружающем мире (в том числе физические явления в природе: приливы и отливы, движение планет Солнечной системы, реактивное движение живых организмов, восприятие звуков животными, землетрясение, сейсмические волны, цунами, эхо, цвета тел, оптические явления в природе, биологическое действие видимого, ультрафиолетового и рентгеновского излучений, естественный радиоактивный фон, космические лучи, радиоактивное излучение природных минералов, действие радиоактивных излучений на организм человека), при этом переводить практическую задачу в учебную, выделять существенные свойства (признаки) физических явлений;
- описывать изученные свойства тел и физические явления, используя физические величины (средняя и мгновенная скорость тела при неравномерном движении, ускорение, перемещение, путь, угловая скорость, сила трения, сила упругости, сила тяжести, ускорение свободного падения, вес тела, импульс тела, импульс силы, механическая работа и мощность, потенциальная энергия тела, поднятого над поверхностью земли, потенциальная энергия сжатой пружины, кинетическая энергия, полная механическая энергия, период и частота колебаний, длина волны, громкость звука и высота тона, скорость света, показатель преломления среды), при описании правильно трактовать физический смысл используемых величин, обозначения и единицы физических величин, находить формулы, связывающие данную физическую величину с другими величинами, строить графики изученных зависимостей физических величин;
- характеризовать свойства тел, физические явления и процессы, используя закон сохранения энергии, закон всемирного тяготения,

принцип суперпозиции сил, принцип относительности Галилея, законы Ньютона, закон сохранения импульса, законы отражения и преломления света, законы сохранения зарядового и массового чисел при ядерных реакциях, при этом давать словесную формулировку закона и записывать его математическое выражение;

- объяснять физические процессы и свойства тел, в том числе и в контексте ситуаций практикоориентированного характера: выявлять причинно-следственные связи, строить объяснение из 2–3 логических шагов с опорой на 2–3 изученных свойства физических явлений, физических законов или закономерностей;
- решать расчётные задачи (опирающиеся на систему из 2–3 уравнений), используя законы и формулы, связывающие физические величины: на основе анализа условия задачи записывать краткое условие, выявлять недостающие или избыточные данные, выбирать законы и формулы, необходимые для решения, проводить расчёты и оценивать реалистичность полученного значения физической величины;
- распознавать проблемы, которые можно решить при помощи физических методов, используя описание исследования, выделять проверяемое предположение, оценивать правильность порядка проведения исследования, делать выводы, интерпретировать результаты наблюдений и опытов;
- проводить опыты по наблюдению физических явлений или физических свойств тел (изучение второго закона Ньютона, закона сохранения энергии, зависимость периода колебаний пружинного маятника от массы груза и жёсткости пружины и независимость от амплитуды малых колебаний, прямолинейное распространение света, разложение белого света в спектр, изучение свойств изображения в плоском зеркале и свойств изображения предмета в собирающей линзе, наблюдение сплошных и линейчатых спектров излучения): самостоятельно собирать установку из избыточного набора оборудования, описывать ход опыта и его результаты, формулировать выводы;
- проводить при необходимости серию прямых измерений, определяя среднее значение измеряемой величины (фокусное расстояние собирающей линзы), обосновывать выбор способа измерения (измерительного прибора);
- проводить исследование зависимостей физических величин с использованием прямых измерений (зависимость пути от времени

при равноускоренном движении без начальной скорости, периода колебаний математического маятника от длины нити, зависимости угла отражения света от угла падения и угла преломления от угла падения): планировать исследование, самостоятельно собирать установку, фиксировать результаты полученной зависимости физических величин в виде таблиц и графиков, делать выводы по результатам исследования;

- проводить косвенные измерения физических величин (средняя скорость и ускорение тела при равноускоренном движении, ускорение свободного падения, жёсткость пружины, коэффициент трения скольжения, механическая работа и мощность, частота и период колебаний математического и пружинного маятников, оптическая сила собирающей линзы, радиоактивный фон): планировать измерения, собирать экспериментальную установку и выполнять измерения, следуя предложенной инструкции, вычислять значение величины и анализировать полученные результаты с учётом заданной погрешности измерений;
- соблюдать правила техники безопасности при работе с лабораторным оборудованием;
- различать основные признаки изученных физических моделей: материальная точка, абсолютно твёрдое тело, точечный источник света, луч, тонкая линза, планетарная модель атома, нуклонная модель атомного ядра;
- характеризовать принципы действия изученных приборов и технических устройств с опорой на их описания (в том числе: спидометр, датчики положения, расстояния и ускорения, ракета, эхолот, очки, перископ, фотоаппарат, оптические световоды, спектроскоп, дозиметр, камера Вильсона), используя знания о свойствах физических явлений и необходимые физические закономерности;
- использовать схемы и схематичные рисунки изученных технических устройств, измерительных приборов и технологических процессов при решении учебно-практических задач, оптические схемы для построения изображений в плоском зеркале и собирающей линзе;
- приводить примеры (находить информацию о примерах) практического использования физических знаний в повседневной жизни для обеспечения безопасности при обращении с приборами и техническими устройствами, сохранения здоровья и соблюдения норм экологического поведения в окружающей среде;

- осуществлять поиск информации физического содержания в Интернете, самостоятельно формулируя поисковый запрос, находить пути определения достоверности полученной информации на основе имеющихся знаний и дополнительных источников;
- использовать при выполнении учебных заданий научно-популярную литературу физического содержания, справочные материалы, ресурсы сети Интернет, владеть приёмами конспектирования текста, преобразования информации из одной знаковой системы в другую;
- создавать собственные письменные и устные сообщения на основе информации из нескольких источников физического содержания, публично представлять результаты проектной или исследовательской деятельности, при этом грамотно использовать изученный понятийный аппарат изучаемого раздела физики и сопровождать выступление презентацией с учётом особенностей аудитории сверстников.

ТЕМАТИЧЕСКОЕ ПЛАНИРОВАНИЕ 7 КЛАСС

№ п/п	Наименование разделов и тем программы	Количество часов			Электронные (цифровые) образовательные ресурсы
		Всего	Контрольные работы	Практические работы	
Раздел 1. Физика и её роль в познании окружающего мира					
1.1	Физика - наука о природе	2			Библиотека ЦОК https://m.edsoo.ru/7f416194
1.2	Физические величины	2		1	Библиотека ЦОК https://m.edsoo.ru/7f416194
1.3	Естественнонаучный метод познания	2		1	Библиотека ЦОК https://m.edsoo.ru/7f416194
Итого по разделу		6			
Раздел 2. Первоначальные сведения о строении вещества					
2.1	Строение вещества	1			Библиотека ЦОК https://m.edsoo.ru/7f416194
2.2	Движение и взаимодействие частиц вещества	2		1	Библиотека ЦОК https://m.edsoo.ru/7f416194
2.3	Агрегатные состояния вещества	2			Библиотека ЦОК https://m.edsoo.ru/7f416194
Итого по разделу		5			
Раздел 3. Движение и взаимодействие тел					
3.1	Механическое движение	3			Библиотека ЦОК https://m.edsoo.ru/7f416194
3.2	Инерция, масса, плотность	4		1	Библиотека ЦОК

					https://m.edsoo.ru/7f416194
3.3	Сила. Виды сил	14	1	2	Библиотека ЦОК https://m.edsoo.ru/7f416194
Итого по разделу		21			
Раздел 4. Давление твёрдых тел, жидкостей и газов					
4.1	Давление. Передача давления твёрдыми телами, жидкостями и газами	3			Библиотека ЦОК https://m.edsoo.ru/7f416194
4.2	Давление жидкости	5			Библиотека ЦОК https://m.edsoo.ru/7f416194
4.3	Атмосферное давление	6			Библиотека ЦОК https://m.edsoo.ru/7f416194
4.4	Действие жидкости и газа на погружённое в них тело	7	1	3	Библиотека ЦОК https://m.edsoo.ru/7f416194
Итого по разделу		21			
Раздел 5. Работа и мощность. Энергия					
5.1	Работа и мощность	3		1	Библиотека ЦОК https://m.edsoo.ru/7f416194
5.2	Простые механизмы	5		1	Библиотека ЦОК https://m.edsoo.ru/7f416194
5.3	Механическая энергия	4	1	1	Библиотека ЦОК https://m.edsoo.ru/7f416194
Итого по разделу		12			
Резервное время		3			
ОБЩЕЕ КОЛИЧЕСТВО ЧАСОВ ПО ПРОГРАММЕ		68	3	12	

8 КЛАСС

№ п/п	Наименование разделов и тем программы	Количество часов			Электронные (цифровые) образовательные ресурсы
		Всего	Контрольные работы	Практические работы	
Раздел 1. Тепловые явления					
1.1	Строение и свойства вещества	7			Библиотека ЦОК https://m.edsoo.ru/7f4181ce
1.2	Тепловые процессы	21	1	5	Библиотека ЦОК https://m.edsoo.ru/7f4181ce
Итого по разделу		28			
Раздел 2. Электрические и магнитные явления					
2.1	Электрические заряды. Заряженные тела и их взаимодействие	7		1	Библиотека ЦОК https://m.edsoo.ru/7f4181ce
2.2	Постоянный электрический ток	20	1	7	Библиотека ЦОК https://m.edsoo.ru/7f4181ce
2.3	Магнитные явления	6	1	1.5	Библиотека ЦОК https://m.edsoo.ru/7f4181ce
2.4	Электромагнитная индукция	4			Библиотека ЦОК https://m.edsoo.ru/7f4181ce
Итого по разделу		37			
Резервное время		3			
ОБЩЕЕ КОЛИЧЕСТВО ЧАСОВ ПО ПРОГРАММЕ		68	3	14.5	

9 КЛАСС

№ п/п	Наименование разделов и тем программы	Количество часов			Электронные (цифровые) образовательные ресурсы
		Всего	Контрольные работы	Практические работы	
Раздел 1. Механические явления					
1.1	Механическое движение и способы его описания	10		1	Библиотека ЦОК https://m.edsoo.ru/7f41a4a6
1.2	Взаимодействие тел	20	1	3	Библиотека ЦОК https://m.edsoo.ru/7f41a4a6
1.3	Законы сохранения	10		3	Библиотека ЦОК https://m.edsoo.ru/7f41a4a6
Итого по разделу		40			
Раздел 2. Механические колебания и волны					
2.1	Механические колебания	7		3	Библиотека ЦОК https://m.edsoo.ru/7f41a4a6
2.2	Механические волны. Звук	8	1	3	Библиотека ЦОК https://m.edsoo.ru/7f41a4a6
Итого по разделу		15			
Раздел 3. Электромагнитное поле и электромагнитные волны					
3.1	Электромагнитное поле и электромагнитные волны	6		2	Библиотека ЦОК https://m.edsoo.ru/7f41a4a6
Итого по разделу		6			
Раздел 4. Световые явления					
4.1	Законы распространения света	6		2	Библиотека ЦОК

					https://m.edsoo.ru/7f41a4a6
4.2	Линзы и оптические приборы	6		3	Библиотека ЦОК https://m.edsoo.ru/7f41a4a6
4.3	Разложение белого света в спектр	3		2	Библиотека ЦОК https://m.edsoo.ru/7f41a4a6
Итого по разделу		15			
Раздел 5. Квантовые явления					
5.1	Испускание и поглощение света атомом	4		1	Библиотека ЦОК https://m.edsoo.ru/7f41a4a6
5.2	Строение атомного ядра	6		1	Библиотека ЦОК https://m.edsoo.ru/7f41a4a6
5.3	Ядерные реакции	7	1	1	Библиотека ЦОК https://m.edsoo.ru/7f41a4a6
Итого по разделу		17			
Раздел 6. Повторительно-обобщающий модуль					
6.1	Повторение и обобщение содержания курса физики за 7-9 класс	9		2	Библиотека ЦОК https://m.edsoo.ru/7f41a4a6
Итого по разделу		9			
ОБЩЕЕ КОЛИЧЕСТВО ЧАСОВ ПО ПРОГРАММЕ		102	3	27	

**УЧЕБНО-МЕТОДИЧЕСКОЕ ОБЕСПЕЧЕНИЕ
ОБРАЗОВАТЕЛЬНОГО ПРОЦЕССА
ОБЯЗАТЕЛЬНЫЕ УЧЕБНЫЕ МАТЕРИАЛЫ ДЛЯ УЧЕНИКА**

- Физика: 7-й класс: базовый уровень: учебник, 7 класс/ Перышкин И.М., Иванов А.И., Акционерное общество «Издательство «Просвещение»
- Физика: 8-й класс: базовый уровень: учебник, 8 класс/ Перышкин И. М., Иванов А. И., Акционерное общество «Издательство «Просвещение»
- Физика: 9-й класс: базовый уровень: учебник, 9 класс/ Перышкин И. М., Гутник Е. М., Иванов А. И., Петрова М. А., Акционерное общество «Издательство «Просвещение»

**ЦИФРОВЫЕ ОБРАЗОВАТЕЛЬНЫЕ РЕСУРСЫ И РЕСУРСЫ СЕТИ
ИНТЕРНЕТ**

<https://oge.sdangia.ru/?ysclid=lxsgoa1562499285362>

ПРИЛОЖЕНИЕ 1

КОНТРОЛЬНЫЕ ИЗМЕРИТЕЛЬНЫЕ МАТЕРИАЛЫ (ДЕМО ВЕРСИЯ)

1 контрольная работа

В а р и а н т 1

1. Какие тела движутся прямолинейно: а) выпущенный из рук камень; б) Луна по своей орбите; в) поезд метро вдоль платформы станции?
2. Поезд проехал 120 км за 2 ч. Какова средняя скорость поезда?
3. Определите массу стальной детали объемом $0,2 \text{ м}^3$.

В а р и а н т 2

1. Пассажир летит на самолете. Относительно каких тел пассажир находится в состоянии покоя? Приведите два-три примера.
2. Человек шел 0,5 ч со скоростью 6 км/ч. Какой путь он прошел?
3. Определите объем алюминиевого чайника массой 0,27 кг.

Вариант 1

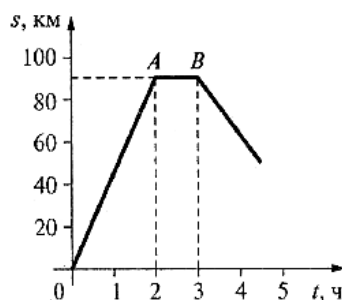
1. Какие части велосипеда при его движении описывают прямолинейные, а какие — криволинейные траектории относительно дороги?
2. Шарик скатывается с наклонного желоба за 3 с. Является ли движение шарика равномерным? Какова средняя скорость движения по желобу, если его длина 45 см?
3. 15 м^3 некоторого вещества имеют массу 105 т. Какова масса 10 м^3 этого вещества?

Вариант 2

1. Одинаковые ли пути проходят правые и левые колеса автомобиля при повороте?
2. Мотоциклист за первые 10 мин движения проехал путь 5 км, а за следующие 8 мин — 9,6 км. Какова средняя скорость мотоциклиста на всем пути? Ответ дайте в километрах в час.
3. Брусok металла имеет массу 26,7 кг, а объем — 3 дм^3 . Из какого металла он изготовлен?

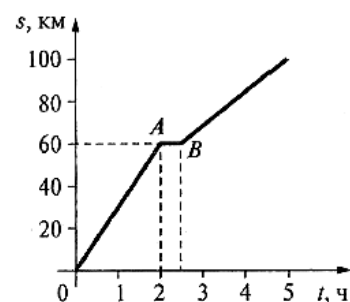
Вариант 1

1. На рисунке изображен график пути движения автомобиля. Какой путь прошел автомобиль за первые 2 ч? На протяжении какого времени двигался автомобиль до стоянки? Сколько простоял автомобиль? С какой скоростью двигался автомобиль на отрезке пути OA ? Ответ дайте в метрах в секунду.
2. Из двух тел одинаковой массы первое имеет вдвое больший объем, чем второе. У которого из них плотность больше и во сколько раз?
3. За 4 ч моторная лодка проходит против течения расстояние 48 км. За какое время она пройдет обратный путь, если скорость течения 3 км/ч?
4. Какова плотность сплава из 300 г олова и 100 г свинца?



Вариант 2

1. На рисунке изображен график пути движения автомобиля. На каком расстоянии от начального пункта был автомобиль через 2,5 ч? За какое время автомобиль прошел путь 80 км? Сколько времени простоял автомобиль? С какой скоростью двигался автомобиль на отрезке пути OA ? Ответ дайте в метрах в секунду.
2. Два сплошных однородных цилиндра одинаковы по высоте и массе. Один из них изготовлен из алюминия, другой — из стали. Какой из них «толще»?
3. За 1,5 ч моторная лодка проходит против течения расстояние 18 км. За какое время она пройдет обратный путь, если скорость течения 3 км/ч?
4. Какова плотность сплава, изготовленного из 2 см^3 золота и 5 см^3 серебра?



Вариант 1

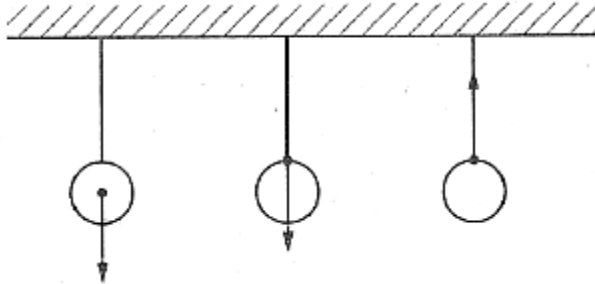
1. На тело вдоль одной прямой действуют силы 20 Н и 80 Н. Может ли равнодействующая этих сил быть равной 120 Н, 100 Н, 60 Н, 10 Н?
2. Какая сила удерживает груз, подвешенный на пружине, от падения?
3. Определите вес ящика с песком, масса которого 75 кг.

Вариант 2

1. На тело вдоль вертикали действуют силы 10 Н и 15 Н. Изобразите эти силы. Сколько вариантов рисунка вы можете сделать?
2. Изменится ли сила трения колес вагона о рельсы, если вагон разгрузить?
3. Найдите вес 20 л керосина. К чему приложена эта сила?

Вариант 1

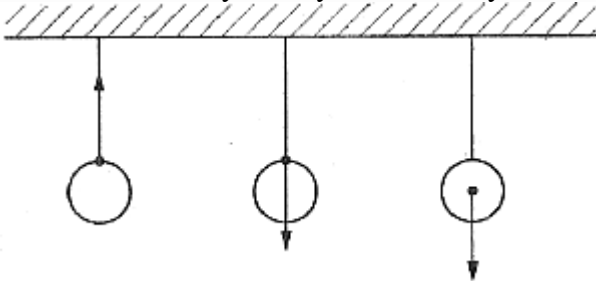
1. Изобразите схематически все силы, действующие на автомобиль, разгоняющийся на горизонтальной дороге. Укажите физическую природу каждой силы.
2. Назовите, какие силы изображены на рисунке. Перерисуйте его в тетрадь и обозначьте каждую силу соответствующей буквой.



3. На экваторе или на полюсе Земли сила тяжести, действующая на одну и ту же гирию, больше? Где больше ее вес? Почему?
4. На медный шар объемом 120 см^3 действует сила тяжести, равная 8,5 Н. Сплошной этот шар или имеет полость внутри?

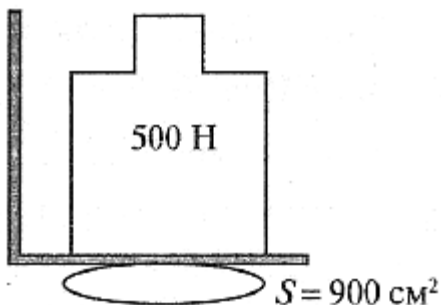
Вариант 2

1. Один мальчик толкает санки сзади с силой 20 Н, а другой тянет их за веревку с силой 15 Н. Изобразите эти силы графически, считая, что они направлены горизонтально, и найдите их равнодействующую.
2. Назовите, какие силы изображены на рисунке. Перерисуйте его в тетрадь и обозначьте каждую силу соответствующей буквой.

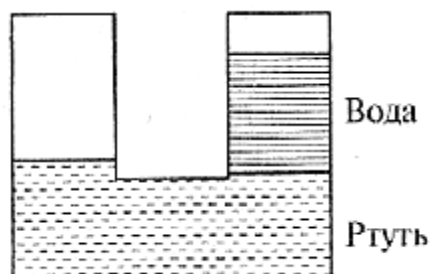


3. Стальной и пробковый шары имеют одинаковые массы. Сравните силы тяжести, действующие на них.
4. Длина нерастянутой пружины 2,5 см. Под действием силы 5 Н пружина удлинилась на 3 см. Какова будет длина этой пружины при нагрузке в 15 Н?

1. Плоскодонная баржа на глубине 1,8 м от уровня воды в реке получила пробойину площадью сечения 200 см^2 . С какой силой нужно давить на доску, которой закрыли отверстие, чтобы сдержать напор воды?
2. Малый поршень гидростатического прессы имеет площадь 2 см^2 , а большой – 150 см^2 . Определить силу давления, действующую на большой поршень, если к малому поршню приложена сила 30 Н.
3. Манометр, установленный на высоте 1,2 м от дна резервуара с нефтью, показывает давление 2 Н/см^2 . Какова общая высота нефти в резервуаре?
4. С какой силой давит атмосферный воздух на обложку книги размером $12 \times 20 \text{ (см}^2\text{)}$, если атмосферное давление 750 мм рт. ст. ?
5. Столб воды в сообщающихся сосудах высотой $17,2 \text{ см}$ уравнивает столб дизельного топлива высотой 20 см . Определить плотность дизельного топлива.
6. * На рисунке изображен старинный опыт. Груз вытесняет воду из меха и заставляет ее подниматься по трубке. Определить высоту столба воды в трубке, если вес груза 500 Н , а площадь доски, на которой он стоит, 900 см^2 .



1. Определить силу, которой действует керосин на пробку площадью сечения 16 см^2 , если расстояние от пробки до уровня керосина в сосуде равно 400 мм .
2. Большой поршень гидравлического прессы площадью 180 см^2 действует с силой 18 кН . Площадь малого поршня 4 см^2 . С какой силой действует малый поршень на масло в прессы?
3. Какая жидкость налита в цилиндрический сосуд (определить по плотности), если она производит давление 2840 Па , а высота ее столба 40 см ?
4. С какой силой давит воздух на поверхность стола, длина которого $1,2 \text{ м}$, ширина 60 см , если атмосферное давление 760 мм рт. ст. ?
5. В сообщающихся сосудах находится ртуть и вода (см. рис.). Высота столба воды 68 см . Какой высоты столб керосина следует налить в левое колено, чтобы ртуть установилась на одинаковых уровнях?



установилась на одинаковых уровнях?

6. * В цилиндрических сосудах находится вода. Площадь поперечного сечения широкого сосуда в 4 раза больше поперечного сечения узкого сосуда. В узкий сосуд наливают керосин, который образует столб высотой 20 см . На сколько повысится уровень воды в широком сосуде и опустится в узком?

№ 1. Плоскодонная баржа на глубине 1,8 м от уровня воды в реке получила пробоину площадью сечения 200 см^2 . С какой силой нужно давить на доску, которой закрыли отверстие, чтобы сдержать напор воды?

Ответ: 360 Н.

№ 2. Малый поршень гидростатического пресса имеет площадь 2 см^2 , а большой – 150 см^2 . Определить силу давления, действующую на большой поршень, если к малому поршню приложена сила 30 Н.

Ответ: 2250 Н.

№ 3. Манометр, установленный на высоте 1,2 м от дна резервуара с нефтью, показывает давление 2 Н/см^2 . Какова общая высота нефти в резервуаре?

Ответ: 3,7 м.

№ 4. С какой силой давит атмосферный воздух на обложку книги размером $12 \times 20 \text{ (см}^2\text{)}$, если атмосферное давление 750 мм рт. ст. ?

Ответ: $\approx 2400 \text{ Н}$.

№ 5. Столб воды в сообщающихся сосудах высотой $17,2 \text{ см}$ уравнивает столб дизельного топлива высотой 20 см . Определить плотность дизельного топлива.

Ответ: 860 кг/м^3 .

№ 6. * На рисунке изображен старинный опыт. Груз вытесняет воду из меха и заставляет ее подниматься по трубке. Определить высоту столба воды в трубке, если вес груза 500 Н , а площадь доски, на которой он стоит, 900 см^2 .

Ответ: $\approx 0,556 \text{ м}$.

№ 1. Определить силу, которой действует керосин на пробку площадью сечения 16 см^2 , если расстояние от пробки до уровня керосина в сосуде равно 400 мм .

Ответ: $5,12 \text{ Н}$.

№ 2. Большой поршень гидравлического пресса площадью 180 см^2 действует с силой 18 кН . Площадь малого поршня 4 см^2 . С какой силой действует малый поршень на масло в прессе?

Ответ: 400 Н .

№ 3. Какая жидкость налита в цилиндрический сосуд (определить по плотности), если она производит давление 2840 Па , а высота ее столба 40 см ?

Ответ: 710 кг/м^3 — бензин или эфир.

№ 4. С какой силой давит воздух на поверхность стола, длина которого $1,2 \text{ м}$, ширина 60 см , если атмосферное давление 760 мм рт. ст. ?

Ответ: $\approx 73 \text{ кН}$.

№ 5. В сообщающихся сосудах находится ртуть и вода (см. рис.). Высота столба воды 68 см . Какой высоты столб керосина следует налить в левое колено, чтобы ртуть установилась на одинаковых уровнях?

Ответ: $0,85 \text{ м}$.

№ 6. * В цилиндрических сосудах находится вода. Площадь поперечного сечения широкого сосуда в 4 раза больше поперечного сечения узкого сосуда. В узкий сосуд наливают керосин, который образует столб высотой 20 см . На сколько повысится уровень воды в широком сосуде и опустится в узком?

Ответ: повысится в широком сосуде на $3,2 \text{ см}$; опустится в узком сосуде на $12,8 \text{ см}$.

4 контрольная работа

Вариант 1

1. Почему режущие и колющие инструменты оказывают на тела очень большое давление?

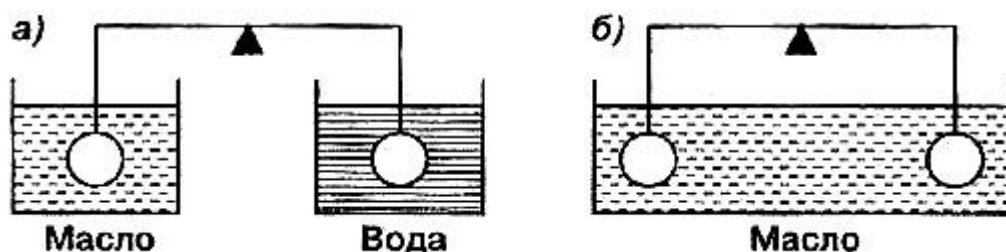
2. Почему камень в воде легче поднимать, чем в воздухе?
3. Будет ли кирпич плавать в серной кислоте?

Вариант 2

1. Какая физическая величина характеризует действие силы на опору? В каких единицах ее измеряют?
2. Молоко вылили из бутылки в широкую кастрюлю. Какие из следующих физических величин изменились и какие остались неизменными: 1) масса молока; 2) объем молока; 3) давление?
3. Будет ли свинцовый брусок плавать в ртути?

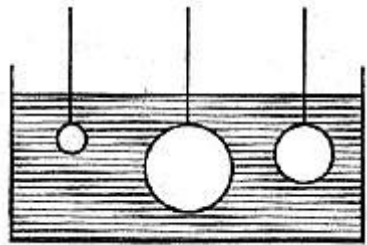
Вариант 1

1. Какая глубина в море соответствует давлению воды, равному 412 кПа?
2. Можно ли добиться того, чтобы тело, изготовленное из вещества с плотностью, большей плотности воды (например, из пластилина), плавало в ней? Как?
3. Подвешенные к коромыслу весов одинаковые шары погрузили в жидкость сначала так, как показано на рисунке а), а затем так, как показано на рисунке б). В каком случае равновесие весов нарушится? Почему?
4. Длина прямоугольной баржи 4 м, ширина 2 м. Определите вес помещенного на баржу груза, если после нагрузки она осела на 0,5 м.



Вариант 2

1. С какой силой давит атмосфера на поверхность страницы тетради, размер которой 16 x 20 см, при атмосферном давлении 0,1 МПа?
2. Одинаковы ли причины давления газа на стенки сосуда, в котором он находится, и давления твердого тела на опору? Укажите эти причины.
3. На какой из опущенных в воду стальных шаров действует наибольшая выталкивающая сила (см. рис.)? Почему?
4. После разгрузки баржи ее осадка в реке уменьшилась на 60 см. Определите массу снятого с нее груза, если площадь сечения баржи на уровне воды 240 м².



5 контрольная работа

Вариант I

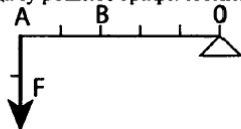
1. Совершает ли ученик механическую работу, опускаясь на лифте с верхнего этажа здания на первый?
2. Первый раз мальчик вбежал по лестнице на третий этаж школы за 30с, а второй раз – за 20с. Одинаковую ли мощность он развивал при этом?
3. Какой из блоков (подвижный или неподвижный) дает выигрыш в силе? Во сколько раз?

Вариант II

1. Телеграфный столб, лежащий на земле, установили вертикально. Совершена ли при этом работа?
2. Турист в одном случае прошел 500м, а в другом – проехал на велосипеде такое же расстояние. Одинаковые ли мощности он развивал?
3. Перечислите известные вам простые механизмы. Приведите примеры их использования.

Вариант I

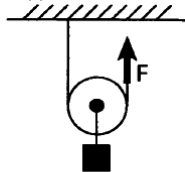
1. Совершает ли лошадь механическую работу, когда она увеличивает скорость движения телеги?
2. Какую силу надо приложить к рычагу в точке В, чтобы он остался в равновесии? Задачу решите графически.



3. Какую работу надо совершить для того, чтобы поднять груз весом 2Н на высоту 50см?

Вариант II

1. Трактор имеет три скорости: 3,1км/ч, 4,2км/ч и 6км/ч. На какой скорости он будет развивать при той же мощности большую силу тяги?
2. Какую силу F нужно приложить к свободному концу каната, чтобы поднять груз весом 10Н?



3. Двигатель комнатного вентилятора за 10мин совершил работу 21кДж. Чему равна мощность двигателя?

Вариант I

1. Мальчик, сев на один конец доски, положенной на бревно, качается на ней. Чем уравнивается сила тяжести мальчика?
2. Трактор равномерно тянет плуг, прилагая силу 10кН . За 10мин он проходит путь, равный 1200м . Определите мощность, развиваемую при этом двигателем трактора.
3. Выполняется ли работа во время движения по инерции. Ответ поясните.
4. Рабочий поднимает груз массой 100кг на высоту $0,3\text{м}$, пользуясь рычагом. К большому плечу рычага приложена сила 700Н , под действием которой конец рычага опускается на $0,6\text{м}$. Определите КПД рычага.

Вариант II

1. В школьной мастерской мальчик, чтобы сильно зажать в тиски обрабатываемую деталь, берется не за середину, а за край ручки тисков. Почему?
2. При равномерном подъеме из шахты бадьи, нагруженной углем, была совершена работа 4800кДж . Какова глубина шахты, если масса бадьи с углем 8т ?
3. Мальчик сидит на санках, движущихся равномерно и горизонтально, и держит за веревку вторые санки. Совершает ли мальчик механическую работу по перемещению вторых санок?
4. Автокраном поднимают груз массой 3т с помощью подвижного блока на высоту 6м . Определите КПД блока, если трос при этом натягивается с постоянной силой 16кН .

Вариант 1

1. Почему батареи отопления ставят обычно внизу под окнами, а не вверху?
2. Продукты положили в холодильник. Как изменилась их внутренняя энергия?
3. Сколько энергии выделилось при охлаждении куска меди массой 600 г на $250\text{ }^{\circ}\text{C}$?
4. Какое количество теплоты выделится при сжигании 3,5 кг торфа?
5. Какое количество теплоты потребуется для того, чтобы в алюминиевом чайнике массой 700 г вскипятить 2 кг воды? Начальная температура воды $20\text{ }^{\circ}\text{C}$.
6. На сколько градусов нагреется 4 кг воды при сжигании 30 г каменного угля, если считать, что вся энергия, выделенная при сгорании угля, пойдет на нагревание воды?

Вариант 2

1. Почему кондиционеры обычно располагают под потолком, а не вблизи пола?
2. Как изменяется внутренняя энергия чашки с горячим чаем с течением времени?
3. Сколько энергии выделится при охлаждении на $80\text{ }^{\circ}\text{C}$ свинцовой детали массой 400 г?
4. Какое количество теплоты выделится при полном сгорании 0,02 кг водорода?
5. Алюминиевая кастрюля массой 250 г вмещает 2 кг молока. Какое количество теплоты требуется для нагревания в этой кастрюле молока от $15\text{ }^{\circ}\text{C}$ до $100\text{ }^{\circ}\text{C}$? Удельная теплоемкость молока $3900\text{ Дж/(кг}\cdot^{\circ}\text{C)}$.
6. Рассчитайте массу керосина, который потребуется сжечь для того, чтобы нагреть 10 кг воды от 10 до $80\text{ }^{\circ}\text{C}$, если считать, что вся энергия, выделенная при сгорании керосина, пойдет на нагрев воды.

2 контрольная работа

Вариант 1

1. В прогнозе погоды сообщили, что влажность воздуха составляет 50%. Что это означает? Считается ли такое значение влажности воздуха нормальным для человека?
2. Серебро массой 10 г находится при температуре, равной его температуре плавления. Сколько энергии выделится при его кристаллизации и охлаждении до $60\text{ }^{\circ}\text{C}$?
3. Постройте примерный график зависимости температуры от времени для процессов, описанных в задаче № 2. Укажите, в каком агрегатном состоянии будет находиться серебро.
4. Какое количество теплоты необходимо сообщить воде массой 200 г, взятой при температуре $20\text{ }^{\circ}\text{C}$, чтобы нагреть ее до температуры кипения и полностью испарить?
5. Что такое двигатель внутреннего сгорания? Приведите 3—4 примера использования таких двигателей в быту или на производстве.
6. Рассчитайте КПД трактора мощностью 30 кВт, если известно, что за 2 ч работы он израсходовал 15 кг дизельного топлива.

Вариант 2

1. Было установлено, что влажность воздуха в комнате составляет 30%. Что это означает? Можно ли считать такое значение влажности воздуха нормальным для человека?
2. Какое количество теплоты понадобится, чтобы расплавить олово массой 20 г, взятое при температуре $32\text{ }^{\circ}\text{C}$?
3. Постройте примерный график зависимости температуры от времени для процессов, описанных в задаче № 2. Укажите, в каком агрегатном состоянии будет находиться олово.
4. Какое количество теплоты выделится при остывании и полной конденсации 500 г водяного пара, нагретого до температуры $130\text{ }^{\circ}\text{C}$?
5. Что такое тепловая машина? Приведите 3—4 примера тепловых машин, используемых в быту или на производстве.
6. Рассчитайте КПД легкового автомобиля мощностью 40 кВт, если известно, что за 3 ч пути было израсходовано 40 кг бензина.

3 контрольная работа

№ 1. Какое напряжение нужно приложить к проводнику сопротивлением $0,25\text{ Ом}$, чтобы сила тока в проводнике была 30 А ?

ОТВЕТ: 7,5 В.

№ 2. Определите сопротивление нихромовой проволоки длиной 40 м и площадью поперечного сечения $0,5\text{ мм}^2$.

ОТВЕТ: 88 Ом.

№ 3. Определите общее сопротивление и силу тока в цепи (рис. 115).

ОТВЕТ: 10 Ом; 2,6 А.

№ 4. Определите сопротивление алюминиевой проволоки длиной 150 см, если площадь ее поперечного сечения 0,1 мм. Каково напряжение на концах этой проволоки при силе тока 0,5 А?

ОТВЕТ: 0,42 Ом; 0,21 В.

№ 5. Определите общее сопротивление цепи (рис. 116).

ОТВЕТ: 30 Ом.

№ 6. Определите сопротивление лампы и напряжение на каждом проводнике (рис. 117), если показания приборов 0,5 А и 30 В.

ОТВЕТ: 20 Ом; 12,5 В; 10 В; 7,5 В.

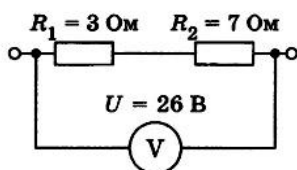


Рис. 115

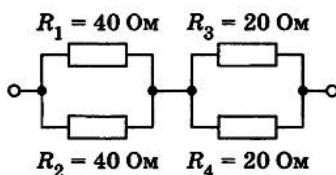


Рис. 116

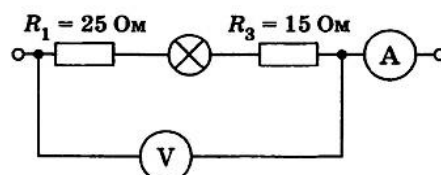


Рис. 117

№ 1. Определите напряжение на концах проводника сопротивлением 20 Ом, если сила тока в проводнике 0,4 А.

ОТВЕТ: 8 В.

№ 2. Сколько метров никелинового провода площадью поперечного сечения 0,1 мм² потребуется для изготовления реостата с максимальным сопротивлением 180 Ом?

ОТВЕТ: 45 м.

№ 3. Определите общее сопротивление и силу тока в цепи, если цепь находится под напряжением 2,4 В (рис. 121).

ОТВЕТ: 2 Ом; 1,2 А.

№ 4. Определите сопротивление никелиновой проволоки длиной 4 м и площадью поперечного сечения 2 мм. Какова сила тока в этой проволоке при напряжении на ее концах 2 В?

ОТВЕТ: 0,8 Ом; 2,5 А.

№ 5. Определите общее сопротивление цепи (рис. 122).

ОТВЕТ: 6 Ом.

№ 6. Вычислите напряжение на зажимах спиралей двух электрических печей сопротивлением 10 Ом и 20 Ом, соединенных параллельно, если сила тока в неразветвленной части цепи равна 33 А. Определите силу тока в спиралах каждой печи.

ОТВЕТ: 220 В; 22 А; 11 А.

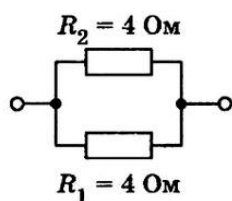


Рис. 121

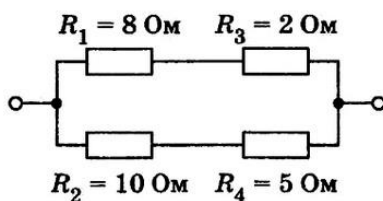


Рис. 122

4 контрольная работа

№ 1. Определите мощность тока в электрической лампе, включенной в сеть напряжением 220 В, если известно, что сопротивление нити накала лампы 1936 Ом. Какой силы ток течет по нити накала?

ОТВЕТ: 25 Вт; 0,1 А.

№ 2. Чему равна работа, совершенная электрическим током за 50 с в резисторе, рассчитанном на напряжение 24 В? Сила тока в резисторе 2 А.

ОТВЕТ: 2400 Дж.

№ 3. Какое количество теплоты выделится в проводнике сопротивлением 500 Ом за 10 с, если его включили в сеть с напряжением 220 В?

ОТВЕТ: 968 Дж.

№ 4. Рассчитайте сопротивление электрической плитки, если она при силе тока 4 А за 20 мин потребляет 800 кДж энергии.

ОТВЕТ: ≈ 42 Ом.

№ 5. Определите мощность, потребляемую первой лампой (рис. 125), если амперметр показывает 2 А.

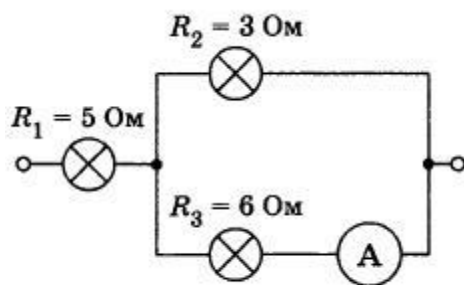


Рис. 125

ОТВЕТ: 180 Вт.

№ 6. За какое время на электроплитке можно нагреть до кипения 1 кг воды, взятой при температуре 20 °С, если при напряжении 220 В сила тока в ней 5 А? Потерями энергии пренебречь.

ОТВЕТ: 5 мин.

№ 1. Какую работу совершит ток в электродвигателе за 90 с, если при напряжении 220 В сила тока в обмотке двигателя равна 0,2 А?

ОТВЕТ: 3960 Дж.

№ 2. Определите мощность тока в электрической лампочке, если при напряжении 5 В сила тока в ней 100 мА.

ОТВЕТ: 0,5 Вт.

№ 3. Какое количество теплоты выделится в реостате сопротивлением 50 Ом за 2 мин при силе тока в цепи 2 А?

ОТВЕТ: 24 кДж.

№ 4. На сколько градусов за 5 мин можно нагреть на электроплитке 1,5 кг воды, если при напряжении 220 В сила тока в ней 5 А? Потерями энергии пренебречь.

ОТВЕТ: на 52 °С.

№ 5. Определите мощность, потребляемую первой лампой (рис. 127), если показания амперметра 2 А.

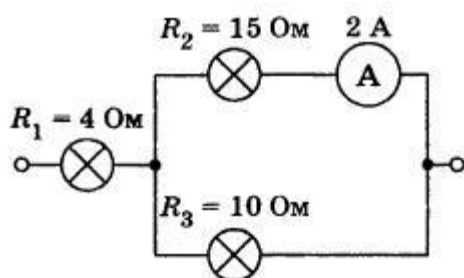


Рис. 127

ОТВЕТ: 100 Вт.

№ 6. За какое время можно с помощью электрического кипятильника мощностью 500 Вт нагреть 500 г воды в стакане от 20 °С до кипения?

ОТВЕТ: 336 с.

1 контрольная работа

1. С каким ускорением должен затормозить автомобиль, движущийся со скоростью 36 км/ч, чтобы через 10 с остановиться?
 2. За какое время велосипедист проедет 30 м, начиная движение с ускорением $0,75 \text{ м/с}^2$?
 3. Какую скорость приобретает троллейбус за 5 с, если он трогается с места с ускорением $1,2 \text{ м/с}^2$?
 4. Поезд через 10 с после начала движения приобретает скорость 0,6 м/с. Через какое время от начала движения скорость поезда станет равна 9 м/с? Какой путь пройдет поезд за это время?
 5. Автомобиль, двигаясь равномерно, проходит путь 20 м за 4 с, после чего он начинает тормозить и останавливается через 10 с. Определите ускорение и тормозной путь автомобиля.
 6. В момент падения на сетку акробат имел скорость 9 м/с. С каким ускорением происходило торможение, если до полной остановки акробата сетка прогнулась на 1,5 м?
 7. На железнодорожной станции во время маневров от равномерно движущегося поезда был отцеплен последний вагон, который стал двигаться равнозамедленно, пока не остановился. Докажите, что пройденный отцепленным вагоном путь в 2 раза меньше пути, пройденного поездом за то же время.
 8. Во время гонки преследования один велосипедист стартовал на 20 с позже другого. Через какое время после старта первого велосипедиста расстояние между ними будет 240 м, если они двигались с одинаковым ускорением $0,4 \text{ м/с}^2$?
 9. За какую секунду от начала равноускоренного движения путь, пройденный телом, втрое больше пути, пройденного в предыдущую секунду?
-
1. Поезд подходит к станции со скоростью 36 км/ч и останавливается через минуту после начала торможения. С каким ускорением двигался поезд?
 2. Определите, какую скорость развивает мотоциклист за 15 с, двигаясь из состояния покоя с ускорением $1,3 \text{ м/с}^2$.
 3. Какой должна быть длина взлетной полосы, если известно, что самолет для взлета должен приобрести скорость 240 км/ч, а время разгона самолета равно примерно 30 с?
 4. Спортсмен съехал на лыжах с горы длиной 40 м за 5 с. Определите ускорение движения и скорость спортсмена у подножия горы.
 5. Тормоз легкового автомобиля считается исправен, если при скорости движения 8 м/с его тормозной путь равен 7,2 м. Каково время торможения и ускорение автомобиля?
 6. Велосипедист и мотоциклист начинают одновременно движение из состояния покоя. Ускорение мотоциклиста в 2 раза больше, чем велосипедиста. Во сколько раз большую скорость разовьет мотоциклист: а) за одно и то же время; б) на одном и том же пути?
 7. Автомобиль движется равноускоренно с начальной скоростью 5 м/с и ускорением 2 м/с^2 . За какое время он проедет 150 м пути? Какова будет его скорость?
 8. Пассажирский поезд при торможении движется с ускорением $0,15 \text{ м/с}^2$. На каком расстоянии от места включения тормоза скорость поезда станет равной 3,87 м/с, если в момент начала торможения его скорость была 54 км/ч?
 9. При скорости 15 км/ч тормозной путь автомобиля равен 1,5 м. Каким будет тормозной путь автомобиля при скорости 60 км/ч? Ускорение в обоих случаях одно и то же.

1. За какое время от начала движения велосипедист проходит путь 20 м при ускорении $0,4 \text{ м/с}^2$?
2. Санки скатились с горы за 60 с. С каким ускорением двигались санки, если длина горы 36 м?
3. Определите тормозной путь автомобиля, если при аварийном торможении, двигаясь со скоростью 72 км/ч, он остановился через 5 с.
4. Определите, какую скорость развивает велосипедист за время, равное 10 с, двигаясь из состояния покоя с ускорением $0,3 \text{ м/с}^2$. Какое расстояние он пройдет за это время?
5. Тепловоз, двигаясь равноускоренно из состояния покоя с ускорением $0,1 \text{ м/с}^2$, увеличивает скорость до 18 км/ч. За какое время эта скорость достигнута? Какой путь за это время пройден?
6. Определите ускорение автомобиля, если при разгоне за 15 с он приобретает скорость 54 км/ч. Какой путь он за это время проходит?
7. Мотоциклист, начав движение из состояния покоя, едет с постоянным ускорением $0,8 \text{ м/с}^2$. Какой путь он пройдет за седьмую секунду своего движения?
8. Снаряд, летящий со скоростью 1000 м/с, пробивает стенку блиндажа за 0,001 с, после чего его скорость оказывается равной 200 м/с. Считая движение снаряда равноускоренным, определите толщину стенки.
9. Два мотоциклиста движутся навстречу друг другу — один с начальной скоростью 54 км/ч и ускорением $0,5 \text{ м/с}^2$, а второй с начальной скоростью 36 км/ч и ускорением $0,3 \text{ м/с}^2$. Через какое время встретятся мотоциклисты и какое расстояние до встречи пройдет каждый из них, если вначале расстояние между ними было 250 м?

2 контрольная работа

1. С каким ускорением двигался при разбеге реактивный самолет массой 50 т, если сила тяги двигателей 80 кН?
 2. Чему равна сила, сообщающая телу массой 3 кг ускорение $0,4 \text{ м/с}^2$?
 3. Лыжник массой 60 кг, имеющий в конце спуска скорость 36 км/ч, остановился через 40 с после окончания спуска. Определите силу сопротивления его движению.
 4. Пуля массой 7,9 г вылетает под действием пороховых газов из канала ствола длиной 45 см со скоростью 54 км/ч. Вычислите среднюю силу давления пороховых газов. Трением пули о стенки ствола пренебречь.
 5. Определите силу сопротивления движению, если вагонетка массой 1 т под действием силы тяги 700 Н приобрела ускорение $0,2 \text{ м/с}^2$.
 6. При трогании с места железнодорожного состава электровоз развивает силу тяги 700 кН. Какое ускорение он при этом сообщит составу массой 3000 т, если сила сопротивления движению 160 кН?
 7. Через блок перекинута нить, к концам которой подвешены две гири массами 2 и 6 кг. Найдите силу натяжения нити при движении гирь. Массой блока пренебречь.
 8. Груз массой 120 кг при помощи каната равноускоренно опускается вниз и проходит путь 72 м за 12 с. Определите вес груза.
 9. Тепловоз массой 100 т тянет два вагона массой по 50 т каждый с ускорением $0,5 \text{ м/с}^2$. Найдите силу тяги тепловоза, если коэффициент трения равен 0,006.
-
1. Вагонетка массой 200 кг движется с ускорением $0,2 \text{ м/с}^2$. Определите силу, сообщающую вагонетке это ускорение.
 2. Чему равно ускорение, с которым движется тело массой 3 кг, если на него действует сила 12 Н?

3. Порожний грузовой автомобиль массой 3 т начал движение с ускорением $0,2 \text{ м/с}^2$. Какова масса этого автомобиля вместе с грузом, если при той же силе тяги он трогается с места с ускорением $0,15 \text{ м/с}^2$?
4. Порожнему прицепу тягач сообщает ускорение $0,4 \text{ м/с}^2$, а груженому — $0,1 \text{ м/с}^2$. Какое ускорение сообщит тягач обоим прицепами, соединенным вместе? Силу тяги считать во всех случаях одинаковой.
5. Автомобиль массой 2 т, движущийся со скоростью 90 км/ч, останавливается через 3 с после нажатия водителем педали тормоза. Чему равен тормозной путь автомобиля? Каково его ускорение? Чему равна сила торможения?
6. Трос выдерживает максимальную нагрузку 2,4 кН. С каким наибольшим ускорением с помощью этого троса можно поднимать груз массой 200 кг?
7. Лифт телебашни разгоняется до скорости 7 м/с в течение 15 с. Столько же времени занимает и остановка лифта. Найдите изменение веса человека массой 80 кг в начале и в конце движения лифта.
8. Два тела массами 1 и 3 кг соединены нитью, перекинутой через невесомый блок. Определите ускорение при движении тел. Трением в блоке и его массой пренебречь.
9. Автомобиль массой 1,5 т через 20 с после начала движения развил скорость 90 км/ч. Определите силу тяги автомобиля, если коэффициент трения равен 0,02.

1. Мяч массой 0,5 кг после удара, длящегося 0,02 с, приобретает скорость 10 м/с. Определите среднюю силу удара.
2. Столкнулись две тележки. При этом тележка массой 0,5 кг получила ускорение 4 м/с^2 . Какое ускорение получила вторая тележка массой 0,8 кг?
3. Сравните ускорения легкового автомобиля массой 2 т и грузового массой 8 т, если сила тяги легкового автомобиля в 2 раза меньше, чем грузового.
4. Покоящееся тело массой 400 г под действием силы 8 Н приобрело скорость 36 км/ч. Какой путь при этом прошло тело?
5. Груз массой 5 кг, привязанный к невесомой нерастяжимой нити, поднимают вертикально вверх с ускорением 3 м/с^2 . Определите силу натяжения нити.
6. Мальчик массой 50 кг, скатившись на санках с горки, проехал по горизонтальной дороге до остановки путь 20 м за 10 с. Чему равна сила трения, действующая на санки?
7. Космическая ракета при старте с поверхности Земли движется вертикально вверх с ускорением 20 м/с^2 . Каков вес космонавта в кабине, если его масса 90 кг?
8. Два груза, соединенных нитью, движутся по гладкой поверхности. Когда сила 100 Н была приложена к правому грузу, сила натяжения нити была равна 30 Н. Какой будет сила натяжения нити, если эту силу приложить к левому грузу?
9. Трамвай массой 20 т, отходя от остановки, на расстоянии 50 м развивает скорость 8 м/с. Определите силу тяги двигателей трамвая, если коэффициент трения равен 0,036.

3 контрольная работа

1. Масса Юпитера $1,9 \cdot 10^{27} \text{ кг}$, его средний радиус $7,13 \cdot 10^7 \text{ м}$. Чему равно ускорение свободного падения для планеты Юпитер?
2. Определите скорость движения спутника вокруг Земли по круговой орбите на высоте, равной радиусу Земли, если первая космическая скорость у поверхности Земли равна 8 км/с.
3. Железнодорожный вагон движется по закруглению радиусом 50 м. Чему равна скорость вагона, если он движется с центростремительным ускорением 2 м/с^2 ?

4. Масса Луны примерно в 100 раз меньше массы Земли, а ее диаметр в 4 раза меньше диаметра Земли. Сравните силы тяжести, действующие на тела одинаковой массы на Земле и на Луне.
5. Масса и радиус планеты соответственно в 2 раза больше, чем у Земли. Чему равна первая космическая скорость для этой планеты?
6. Мяч брошен вертикально вверх со скоростью 10 м/с. На какую максимальную высоту он поднимется?
7. Какой путь пройдет свободно падающее тело на Марсе за 10 с падения, если масса планеты Марс равна $0,64 \cdot 10^{24}$ кг, а его радиус 3400 км?
8. Два тела, находящиеся соответственно на высоте 20 и 10 м над поверхностью земли, начинают одновременно падать и достигают земли одновременно. Определите, какова должна быть начальная скорость тела, падающего с большей высоты, если начальная скорость другого тела равна нулю.
9. Камень брошен вертикально вверх с высоты 28 м с начальной скоростью 8 м/с. Определите скорость камня в момент его падения на землю.

1. Два шара массами по 10 т находятся на расстоянии 1 м друг от друга. Чему равна сила притяжения между ними?
2. Какова первая космическая скорость у поверхности Солнца, если его масса равна $2 \cdot 10^{30}$ кг, а диаметр $1,4 \cdot 10^9$ м?
3. Велосипедист движется по дуге радиусом 64 м со скоростью 8 м/с. Чему равно центростремительное ускорение?
4. Чему равно ускорение свободного падения на высоте, равной четырем радиусам Земли?
5. Определите скорость космического корабля, движущегося по круговой орбите, удаленной на 220 км от поверхности Земли.
6. Одно тело свободно падает с высоты 20 м, другое — с высоты 80 м. Во сколько раз скорость падения на землю второго тела больше скорости падения первого тела?
7. Определите массу Солнца, если скорость обращения Земли по круговой орбите вокруг Солнца 30 км/с, а радиус земной орбиты 1,5 млн км.
8. На какую максимальную высоту поднялось бы тело, брошенное вертикально вверх на Марсе, если на Земле при той же скорости бросания оно поднялось на высоту 1 м? Радиус Марса равен 0,53 радиуса Земли. Масса Марса составляет 0,11 массы Земли.
9. Свободно падающее тело за последние 4 с падения прошло 196 м. Сколько времени падало тело?

1. Какова первая космическая скорость для Луны, если ее средний радиус равен 1760 км, а ускорение свободного падения на поверхности Луны $1,7 \text{ м/с}^2$?
2. С какой силой будут притягиваться друг к другу два искусственных спутника Земли массой 3,87 т каждый, если они сблизятся до расстояния 50 м?
3. При равномерном движении по окружности тело проходит 10 м за 2 с. Определите центростремительное ускорение тела, если радиус окружности равен 10 м.
4. Определите скорость, которую должен иметь искусственный спутник Земли, чтобы он обращался по круговой орбите на высоте, равной радиусу Земли. Радиус Земли 6400 км.
5. Определите, на каком расстоянии от поверхности Земли сила притяжения космического корабля к ней уменьшится в 121 раз.
6. Скорость тела в момент удара о землю равна 6 м/с. Определите высоту, с которой падало тело.

7. Какой массы груз может поднять человек на поверхности Луны, если на поверхности Земли он мог поднять груз массой 60 кг? Радиус Земли в 3,7 раза больше радиуса Луны, масса Земли в 81 раз больше массы Луны.
8. Определите время падения тела на землю, если за последние 2 с движения оно прошло 60 м. С какой высоты падало тело?
9. Подлетев к неизвестной планете, космонавты придали своему кораблю горизонтальную скорость 11 км/с. Эта скорость обеспечила полет корабля по круговой орбите радиусом 9100 км. Каково ускорение свободного падения у поверхности планеты, если ее радиус 8900 км?

4 контрольная работа

1. Двигаясь со скоростью 4 м/с, молоток массой 0,5 кг ударяет по гвоздю. Определите среднюю силу удара, если его продолжительность 0,1 с.
 2. Поезд массой 2000 т, двигаясь прямолинейно, уменьшил скорость от 54 до 36 км/ч. Чему равно изменение импульса поезда?
 3. Кинетическая энергия тела в момент бросания равна 200 Дж. Определите, на какую максимальную высоту над поверхностью земли может подняться тело, если его масса равна 500 г.
 4. Человек массой 70 кг, бегущий со скоростью 5 м/с, догоняет тележку массой 50 кг, движущуюся со скоростью 1 м/с, и вскакивает на нее. С какой скоростью они будут продолжать движение?
 5. Два тела массами 200 и 500 г, движущиеся навстречу друг другу, после столкновения остановились. Чему равна начальная скорость второго тела, если первое двигалось со скоростью 2 м/с?
 6. Мяч брошен вертикально вверх со скоростью 16 м/с. На какой высоте его кинетическая энергия будет равна потенциальной?
 7. Охотник стреляет из ружья с неподвижной резиновой лодки. Чему равна скорость лодки сразу после выстрела? Масса охотника и лодки 100 кг, масса дроби 35 г, дробь вылетает из ствола со скоростью 320 м/с. Ствол ружья во время выстрела направлен под углом 60° к горизонту.
 8. Стоящий на коньках человек массой 60 кг ловит мяч массой 500 г, летящий горизонтально со скоростью 72 км/ч. Определите расстояние, на которое откатится при этом человек, если коэффициент трения равен 0,05.
 9. Тело брошено со скоростью 15 м/с под углом к горизонту. Определите его скорость на высоте 10 м. Сопротивлением воздуха пренебречь.
1. Автомобиль массой 1 т движется со скоростью 72 км/ч. Определите, через какое время он остановится, если выключить двигатель. Средняя сила сопротивления движению 200 Н.
 2. Мяч массой 200 г падает на горизонтальную площадку. В момент удара скорость мяча равна 5 м/с. Определите изменение импульса при абсолютно упругом ударе.
 3. Книга, упавшая со стола на пол, обладала в момент касания пола кинетической энергией 2,4 Дж. Чему равна масса книги, если высота стола 1,2 м? Сопротивлением воздуха пренебречь.
 4. Два шара массами 2 и 8 кг движутся навстречу друг другу со скоростями 10 и 2 м/с соответственно. С какой скоростью они будут продолжать движение при абсолютно неупругом ударе?
 5. Тележка массой 80 кг движется со скоростью 4 м/с. На нее вертикально падает груз массой 20 кг. Определите скорость, с которой станет двигаться тележка.

6. Камень брошен с высоты 2 м под некоторым углом к горизонту с начальной скоростью 6 м/с. Найдите скорость камня в момент падения на землю.
7. Снаряд массой 50 кг, летящий вдоль рельсов со скоростью 600 м/с, попадает в платформу с песком массой 10 т и застревает в песке. Скорость снаряда в момент падения образует угол 45° с горизонтом. Чему равна скорость платформы после попадания снаряда, если платформа движется навстречу снаряду со скоростью 10 м/с?
8. Лодка стоит неподвижно в стоячей воде. Человек, находящийся в лодке, переходит с ее носа на корму. На какое расстояние переместится лодка, если масса человека 60 кг, масса лодки 120 кг, длина лодки 3 м? Сопротивление воды не учитывать.
9. С какой скоростью надо бросить мяч вниз с высоты 3 м, чтобы после удара о землю он подпрыгнул на высоту 8 м? Удар считать абсолютно упругим.
1. Двигаясь из состояния покоя по горизонтальному пути, автомобиль массой 1,5 т через 20 с после начала движения достигает скорости 30 м/с. Пренебрегая сопротивлением движению, определите силу тяги двигателя.
2. Тележка массой 100 г, движущаяся со скоростью 3 м/с, ударяется о стенку. Определите изменение импульса тележки, если после столкновения она стала двигаться в противоположную сторону со скоростью 2 м/с.
3. В момент бросания кинетическая энергия тела равна 100 Дж. На какую максимальную высоту над поверхностью земли может подняться тело, если его масса равна 400 г?
4. Вагон массой 10 т движется со скоростью 1 м/с и сталкивается с неподвижной платформой массой 5 т. Чему равна скорость их совместного движения после того, как сработала автосцепка?
5. Какова скорость отдачи винтовки, неподвижной при выстреле, если масса винтовки 4 кг, масса пули 8 г, скорость пули 600 м/с?
6. Камень массой 200 г падает с высоты 10 м. Какой кинетической энергией он будет обладать на высоте 1 м от земли? Потери энергии при движении камня не учитывать.
7. На неподвижной железнодорожной платформе установлено орудие. Масса платформы с орудием 15 т. Орудие стреляет под углом 60° к горизонту. С какой скоростью покатится платформа, если масса снаряда 20 кг и он вылетает со скоростью 600 м/с?
8. При взрыве камень разбивается на три части. Два осколка летят под прямым углом друг к другу: массой $m_1 = 1$ кг со скоростью 12 м/с и массой $m_2 = 2$ кг со скоростью 8 м/с. Третий кусок отлетает со скоростью 40 м/с. Какова масса третьего осколка и в каком направлении он летит?
9. На пути шайбы, скользящей по гладкой горизонтальной поверхности, оказалась пологая горка высотой 10 см. Найдите минимальную скорость шайбы, при которой она преодолеет подъем.

5 контрольная работа

№ 1. Груз, подвешенный на пружине, за 1 мин совершил 300 колебаний. Чему равна частота и период колебаний груза?

ОТВЕТ: 5 Гц; 0,2 с.

№ 2. Частота колебаний камертона 440 Гц. Какова длина звуковой волны от камертона в воздухе, если скорость распространения звука при 0°C в воздухе равна 330 м/с?

ОТВЕТ: 0,75 м.

№ 3. По графику гармонических колебаний (рис. 125) определите амплитуду, период и частоту колебаний.

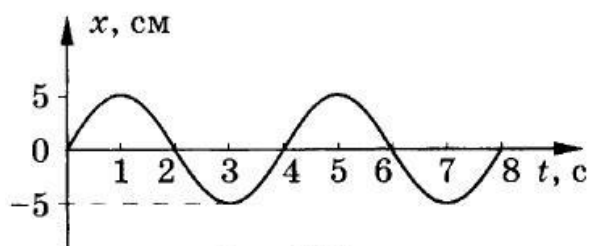


Рис. 125

ОТВЕТ: 5 см; 4 с; 0,25 Гц.

№ 4. Сколько колебаний совершил математический маятник за 30 с, если частота его колебаний равна 2 Гц? Чему равен период его колебаний?

ОТВЕТ: 60 колебаний; 0,5 с.

№ 5. Определите ускорение свободного падения на поверхности Марса при условии, что там математический маятник длиной 50 см совершил бы 40 колебаний за 80 с.

ОТВЕТ: $\approx 5 \text{ м/с}^2$.

№ 6. Чему равна скорость распространения морской волны, если человек, стоящий на берегу, определил, что расстояние между двумя соседними гребнями волн равно 8 м и за минуту мимо него проходит 45 волновых гребней?

ОТВЕТ: 6 м/с.

№ 7. Сколько времени идет звук от одной железнодорожной станции до другой по стальным рельсам, если расстояние между ними 5 км, а скорость распространения звука в стали равна 500 м/с?

ОТВЕТ: 10 с.

№ 8. Каково соотношение частот колебаний двух маятников, если их длины относятся как 1 : 4?

ОТВЕТ: 2 : 1.

№ 9. Как изменится период колебаний математического маятника, если его перенести с Земли на Луну ($g_{\text{З}} = 9,8 \text{ м/с}^2$; $g_{\text{Л}} = 1,6 \text{ м/с}^2$)?

ОТВЕТ: $T_{\text{З}}/T_{\text{Л}} = 0,4$.

№ 1. Нитяной маятник совершил 25 колебаний за 50 с. Определите период и частоту колебаний.

ОТВЕТ: 2 с; 0,5 Гц.

№ 2. Определите, на каком расстоянии от наблюдателя ударила молния, если он услышал гром через 3 с после того, как увидел молнию.

ОТВЕТ: $\approx 1 \text{ км}$.

№ 3. По графику (рис. 126) определите амплитуду, период и частоту колебаний.

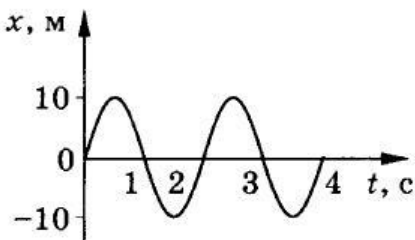


Рис. 126

ОТВЕТ: 10 см; 2 с; 0,5 Гц.

№ 4. Какова длина математического маятника, совершающего гармонические колебания с частотой 0,5 Гц на поверхности Луны? Ускорение свободного падения на поверхности Луны $1,6 \text{ м/с}^2$.

ОТВЕТ: 0,16 м.

№ 5. Длина морской волны равна 2 м. Какое количество колебаний за 10 с совершит на ней поплавок, если скорость распространения волны равна 6 м/с?

ОТВЕТ: 30 колебаний.

№ 6. Как нужно изменить длину математического маятника, чтобы период его колебаний уменьшить в 2 раза?

ОТВЕТ: уменьшить длину в 4 раза.

№ 7. Определите длину математического маятника, который за 10 с совершает на 4 полных колебания меньше, чем математический маятник длиной 60 см.

ОТВЕТ: 4 м.

№ 8. Один математический маятник имеет период колебаний 3 с, а другой — 4 с. Каков период колебаний математического маятника, длина которого равна сумме длин указанных маятников?

ОТВЕТ: 5 с.

№ 9. Чему равна длина волны на воде, если скорость распространения волн равна 2,4 м/с, а тело, плавающее на воде, совершает 30 колебаний за 25 с?

ОТВЕТ: 2 м.

№ 1. Маятник совершил 50 колебаний за 25 с. Определите период и частоту колебаний маятника.

ОТВЕТ: 0,5 с; 2 Гц.

№ 2. Радиобуй в море колеблется на волнах с периодом 2 с. Скорость морских волн 1 м/с. Чему равна длина волны?

ОТВЕТ: 2 м.

№ 3. По графику (рис. 127) определите амплитуду, период и частоту колебаний.

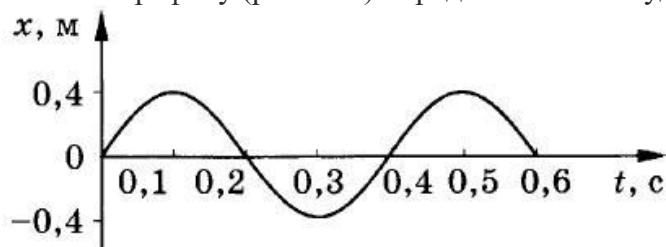


Рис. 127

ОТВЕТ: 0,4 м; 0,4 с; 25 Гц.

№ 4. На неизвестной планете маятник длиной 80 см совершил 36 полных колебаний за 1 мин. Чему равно ускорение свободного падения на этой планете?

ОТВЕТ: $11,4 \text{ м/с}^2$.

№ 5. Определите длину волны, распространяющейся со скоростью 2 м/с, в которой за 20 с происходит 10 колебаний.

ОТВЕТ: 4 м.

№ 6. Какова длина математического маятника, совершающего 4 полных колебания за 8 с?

ОТВЕТ: 1 м.

№ 7. Как изменится частота колебаний нитяного маятника длиной 0,5 м, если увеличить длину нити на 1,5 м?

ОТВЕТ: частота уменьшится в 2 раза.

№ 8. На озере в безветренную погоду с лодки сбросили тяжелый якорь. От места бросания пошли волны. Человек, стоящий на берегу, заметил, что волна дошла до него через 50 с, расстояние между соседними гребнями волн 50 см, а за 50 с было 20 всплесков о берег. Как далеко от берега находилась лодка?

ОТВЕТ: 100 м.

№ 9. К потолку подвешены два маятника. За одинаковое время один маятник совершил 5 колебаний, а другой — 3 колебания. Какова длина каждого маятника, если разность их длин 48 см?

ОТВЕТ: $\approx 0,27$ м; $\approx 0,75$ м.

№ 1. Каков период колебаний источника волны, если длина волны равна 2 м, а скорость ее распространения 5 м/с?

ОТВЕТ: 0,4 с.

№ 2. Определите период и частоту колебаний математического маятника, который за 1 мин 40 с совершил 50 колебаний.

ОТВЕТ: 2 с; 0,5 Гц.

№ 3. По графику (рис. 128) определите амплитуду, период и частоту колебаний.

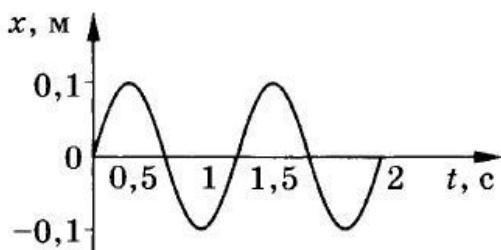


Рис. 128

ОТВЕТ: 0,1 м; 1 с; 1 Гц.

№ 4. Определите, сколько колебаний на морской волне совершит за 20 с надувная резиновая лодка, если скорость распространения волны 4 м/с, а ее длина равна 4 м.

ОТВЕТ: 20 колебаний.

№ 5. Определите, во сколько раз нужно увеличить длину математического маятника, чтобы частота его колебаний уменьшилась в 4 раза.

ОТВЕТ: в 16 раз.

№ 6. Изменится ли период колебаний груза на пружине, если железный груз заменить на алюминиевый такого же размера?

ОТВЕТ: уменьшится \approx в 1,7 раза.

№ 7. Периоды колебаний двух математических маятников относятся как 3 : 2.

Рассчитайте, во сколько раз первый маятник длиннее второго.

ОТВЕТ: в 2,25 раза.

№ 8. Маленький шарик подвешен на нити длиной 1 м к потолку вагона. При какой скорости вагона шарик будет особенно сильно колебаться под действием ударов колес о стыки рельсов? Длина рельса 12,5 м.

ОТВЕТ: $\approx 6,2$ м/с.

№ 9. Расстояние между гребнями волн в море 5 м. При встречном движении катера волна за 1 с ударяет о корпус катера 4 раза, а при попутном — 2 раза. Найдите скорости катера и волны, если известно, что скорость катера больше скорости волны.

ОТВЕТ: 15 м/с; 5 м/с.

№ 1. По графику (рис. 129) определите период, частоту и амплитуду колебаний силы

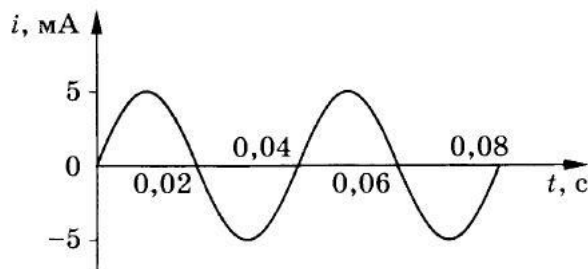


Рис. 129

тока.

ОТВЕТ: период 0,04с; частота 25 Гц; амплитуда колебаний силы тока 5 мА.

№ 2. На какой частоте работает радиостанция, передавая программу на волне длиной 250 м?

ОТВЕТ: 1,2 МГц.

№ 3. Определите силу тока, проходящего по прямолинейному проводнику, находящемуся в однородном магнитном поле с индукцией 10 Тл, если на активную часть проводника длиной 40 см действует сила 20 Н. Проводник расположен перпендикулярно линиям магнитной индукции.

ОТВЕТ: 5 А.

№ 4. Протон движется со скоростью 10^6 м/с перпендикулярно однородному магнитному полю с индукцией 1 Тл. Определите силу, действующую на протон.

ОТВЕТ: $1,6 \cdot 10^{-13}$ Н.

№ 5. Электрон описывает в однородном магнитном поле окружность радиусом 4 мм. Скорость движения электрона равна $3,5 \cdot 10^6$ м/с. Определите индукцию магнитного поля.

ОТВЕТ: 5 мТл.

№ 6. Какова сила тока в прямолинейном проводнике, помещенном в однородное магнитное поле перпендикулярно линиям индукции, если он не падает? 1 м его длины имеет массу 3 кг, а индукция магнитного поля равна 20 Тл.

ОТВЕТ: 1,5 А.

№ 1. По графику (рис. 130) определите период, частоту и амплитуду колебаний силы

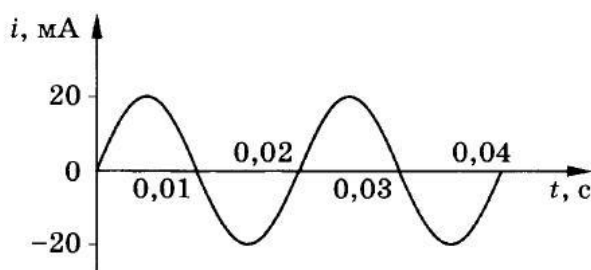


Рис. 130

тока.

ОТВЕТ: 0,02 с; 50 Гц; 20 мА.

№ 2. Чему равна длина волн, посылаемых радиостанцией, работающей на частоте 1400 кГц?

ОТВЕТ: 214,3 м.

№ 3. На прямолинейный проводник с током, помещенный в однородное магнитное поле с индукцией 0,34 Тл, действует сила 1,65 Н. Определите длину проводника, если он расположен перпендикулярно линиям индукции магнитного поля. Сила тока в проводнике 14,5 А.

ОТВЕТ: $\approx 0,33$ м.

№ 4. Электрон влетает в однородное магнитное поле с индукцией 0,5 Тл со скоростью 20 000 км/с перпендикулярно линиям магнитной индукции. Определите силу, с которой магнитное поле действует на электрон.

ОТВЕТ: $1,6 \cdot 10^{-12}$ Н.

№ 5. Электрон, двигаясь со скоростью $3,54 \cdot 10^5$ м/с, попадает в однородное магнитное поле с индукцией $2 \cdot 10^{-5}$ Тл перпендикулярно линиям магнитной индукции и продолжает двигаться по окружности радиусом 10 см. Определите отношение заряда электрона к его массе.

ОТВЕТ: $1,77 \cdot 10^{11}$ Кл/кг.

№ 6. Сила тока в горизонтально расположенном проводнике длиной 10 см и массой 2 г равна 10 А. Какова индукция магнитного поля, в которое нужно поместить проводник, чтобы сила тяжести уравнивалась силой, действующей на проводник со стороны магнитного поля?

ОТВЕТ: 0,02 Тл.

№ 1. По графику (рис. 131) определите период, частоту и амплитуду колебаний силы

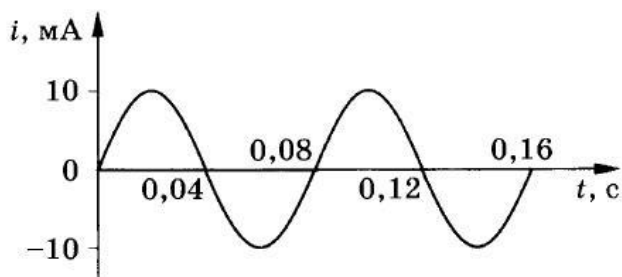


Рис. 131

тока.

ОТВЕТ: 0,08 с.

№ 2. Радиостанция ведет передачи на частоте 70 МГц (УКВ). Чему равна длина волны?

ОТВЕТ: $\approx 4,39$ м.

№ 3. В однородное магнитное поле, индукция которого 1,26 мТл, помещен прямой проводник длиной 20 см перпендикулярно линиям магнитной индукции. Определите силу, действующую на проводник, если сила тока в нем 50 А.

ОТВЕТ: 0,0126 Н.

№ 4. Электрон движется со скоростью $3 \cdot 10^6$ м/с в однородном магнитном поле с индукцией 0,1 Тл. Чему равна сила, действующая на электрон, если угол между направлением скорости электрона и линиями магнитной индукции равен 90° ?

ОТВЕТ: $\approx 5 \cdot 10^{-14}$ Н.

№ 5. Электрон и протон, двигаясь с одинаковыми скоростями, попадают в однородное магнитное поле перпендикулярно к линиям индукции. Сравните радиусы кривизны R_e и R_p траекторий движения электрона и протона.

ОТВЕТ: $R_e : R_p = 1 : 1835$.

№ 6. В однородном магнитном поле с индукцией 0,25 Тл горизонтально расположен проводник длиной 10 см и массой 40 г. Линии индукции магнитного поля перпендикулярны проводнику. Какой силы ток должен идти по проводнику, чтобы он находился в равновесии в магнитном поле?

ОТВЕТ: 16 А.