

**МИНИСТЕРСТВО ПРОСВЕЩЕНИЯ РОССИЙСКОЙ ФЕДЕРАЦИИ**  
**АДМИНИСТРАЦИЯ ГОРОДА ТОМСКА**  
**ДЕПАРТАМЕНТ ОБРАЗОВАНИЯ**  
**МУНИЦИПАЛЬНО АВТОНОМНОЕ ОБЩЕОБРАЗОВАТЕЛЬНОЕ УЧРЕЖДЕНИЕ**  
**СРЕДНЯЯ ОБЩЕОБРАЗОВАТЕЛЬНАЯ ШКОЛА № 65 г. Томск**

СОГЛАСОВАНО

Методическом            совете  
школы

пр. № 4 от 28.06.24

---

УТВЕРЖДЕНО

Директор школы

О.В. Малышева

пр. № 258 от 28.06.24

**РАБОЧАЯ ПРОГРАММА**

**учебного предмета «Физика. Базовый уровень»**

для обучающихся 10-11 классов

## ПОЯСНИТЕЛЬНАЯ ЗАПИСКА

Программа по физике базового уровня на уровне среднего общего образования разработана на основе положений и требований к результатам освоения основной образовательной программы, представленных в ФГОС СОО, а также с учётом федеральной рабочей программы воспитания и концепции преподавания учебного предмета «Физика» в образовательных организациях Российской Федерации, реализующих основные образовательные программы.

Содержание программы по физике направлено на формирование естественно-научной картины мира обучающихся 10–11 классов при обучении их физике на базовом уровне на основе системно-деятельностного подхода. Программа по физике соответствует требованиям ФГОС СОО к планируемым личностным, предметным и метапредметным результатам обучения, а также учитывает необходимость реализации межпредметных связей физики с естественно-научными учебными предметами. В ней определяются основные цели изучения физики на уровне среднего общего образования, планируемые результаты освоения курса физики: личностные, метапредметные, предметные (на базовом уровне).

Программа по физике включает:

- планируемые результаты освоения курса физики на базовом уровне, в том числе предметные результаты по годам обучения;
- содержание учебного предмета «Физика» по годам обучения.

Физика как наука о наиболее общих законах природы, выступая в качестве учебного предмета в школе, вносит существенный вклад в систему знаний об окружающем мире. Школьный курс физики – системообразующий для естественно-научных учебных предметов, поскольку физические законы лежат в основе процессов и явлений, изучаемых химией, биологией, физической географией и астрономией. Использование и активное применение физических знаний определяет характер и развитие разнообразных технологий в сфере энергетики, транспорта, освоения космоса, получения новых материалов с заданными свойствами и других. Изучение физики вносит основной вклад в формирование естественно-научной картины мира обучающихся, в формирование умений применять научный метод познания при выполнении ими учебных исследований.

В основу курса физики для уровня среднего общего образования положен ряд идей, которые можно рассматривать как принципы его построения.

*Идея целостности.* В соответствии с ней курс является логически завершённым, он содержит материал из всех разделов физики, включает как вопросы классической, так и современной физики.

*Идея генерализации.* В соответствии с ней материал курса физики объединён вокруг физических теорий. Ведущим в курсе является формирование представлений о структурных уровнях материи, веществе и поле.

*Идея гуманитаризации.* Её реализация предполагает использование гуманитарного потенциала физической науки, осмысление связи развития физики с развитием общества, а также с мировоззренческими, нравственными и экологическими проблемами.

*Идея прикладной направленности.* Курс физики предполагает знакомство с широким кругом технических и технологических приложений изученных теорий и законов.

*Идея экологизации* реализуется посредством введения элементов содержания, посвящённых экологическим проблемам современности, которые связаны с развитием техники и технологий, а также обсуждения проблем рационального природопользования и экологической безопасности.

Стержневыми элементами курса физики на уровне среднего общего образования являются физические теории (формирование представлений о структуре построения физической теории, роли фундаментальных законов и принципов в современных представлениях о природе, границах применимости теорий, для описания естественно-научных явлений и процессов).

Системно-деятельностный подход в курсе физики реализуется прежде всего за счёт организации экспериментальной деятельности обучающихся. Для базового уровня курса физики – это использование системы фронтальных кратковременных экспериментов и лабораторных работ, которые в программе по физике объединены в общий список ученических практических работ. Выделение в указанном перечне лабораторных работ, проводимых для контроля и оценки, осуществляется участниками образовательного процесса исходя из особенностей планирования и оснащения кабинета физики. При этом обеспечивается овладение обучающимися умениями проводить косвенные измерения, исследования зависимостей физических величин и постановку опытов по проверке предложенных гипотез.

Большое внимание уделяется решению расчётных и качественных задач. При этом для расчётных задач приоритетом являются задачи с явно заданной физической моделью, позволяющие применять изученные законы и

закономерности как из одного раздела курса, так и интегрируя знания из разных разделов. Для качественных задач приоритетом являются задания на объяснение протекания физических явлений и процессов в окружающей жизни, требующие выбора физической модели для ситуации практико-ориентированного характера.

В соответствии с требованиями ФГОС СОО к материально-техническому обеспечению учебного процесса базовый уровень курса физики на уровне среднего общего образования должен изучаться в условиях предметного кабинета физики или в условиях интегрированного кабинета предметов естественно-научного цикла. В кабинете физики должно быть необходимое лабораторное оборудование для выполнения указанных в программе по физике ученических практических работ и демонстрационное оборудование.

Демонстрационное оборудование формируется в соответствии с принципом минимальной достаточности и обеспечивает постановку перечисленных в программе по физике ключевых демонстраций для исследования изучаемых явлений и процессов, эмпирических и фундаментальных законов, их технических применений.

Лабораторное оборудование для ученических практических работ формируется в виде тематических комплектов и обеспечивается в расчёте одного комплекта на двух обучающихся. Тематические комплекты лабораторного оборудования должны быть построены на комплексном использовании аналоговых и цифровых приборов, а также компьютерных измерительных систем в виде цифровых лабораторий.

Основными целями изучения физики в общем образовании являются:

- формирование интереса и стремления обучающихся к научному изучению природы, развитие их интеллектуальных и творческих способностей;
- развитие представлений о научном методе познания и формирование исследовательского отношения к окружающим явлениям;
- формирование научного мировоззрения как результата изучения основ строения материи и фундаментальных законов физики;
- формирование умений объяснять явления с использованием физических знаний и научных доказательств;
- формирование представлений о роли физики для развития других естественных наук, техники и технологий.

Достижение этих целей обеспечивается решением следующих задач в процессе изучения курса физики на уровне среднего общего образования:

- приобретение системы знаний об общих физических закономерностях, законах, теориях, включая механику, молекулярную физику, электродинамику, квантовую физику и элементы астрофизики;
- формирование умений применять теоретические знания для объяснения физических явлений в природе и для принятия практических решений в повседневной жизни;
- освоение способов решения различных задач с явно заданной физической моделью, задач, подразумевающих самостоятельное создание физической модели, адекватной условиям задачи;
- понимание физических основ и принципов действия технических устройств и технологических процессов, их влияния на окружающую среду;
- овладение методами самостоятельного планирования и проведения физических экспериментов, анализа и интерпретации информации, определения достоверности полученного результата;
- создание условий для развития умений проектно-исследовательской, творческой деятельности.

На изучение физики (базовый уровень) на уровне среднего общего образования отводится 136 часов: в 10 классе – 68 часов (2 часа в неделю), в 11 классе – 68 часов (2 часа в неделю).

Предлагаемый в программе по физике перечень лабораторных и практических работ является рекомендованным, учитель делает выбор проведения лабораторных работ и опытов с учётом индивидуальных особенностей обучающихся.

# СОДЕРЖАНИЕ ОБУЧЕНИЯ

## 10 КЛАСС

### Раздел 1. Физика и методы научного познания

Физика – наука о природе. Научные методы познания окружающего мира. Роль эксперимента и теории в процессе познания природы. Эксперимент в физике.

Моделирование физических явлений и процессов. Научные гипотезы. Физические законы и теории. Границы применимости физических законов. Принцип соответствия.

Роль и место физики в формировании современной научной картины мира, в практической деятельности людей.

#### *Демонстрации*

Аналоговые и цифровые измерительные приборы, компьютерные датчики.

### Раздел 2. Механика

#### *Тема 1. Кинематика*

Механическое движение. Относительность механического движения. Система отсчёта. Траектория.

Перемещение, скорость (средняя скорость, мгновенная скорость) и ускорение материальной точки, их проекции на оси системы координат. Сложение перемещений и сложение скоростей.

Равномерное и равноускоренное прямолинейное движение. Графики зависимости координат, скорости, ускорения, пути и перемещения материальной точки от времени.

Свободное падение. Ускорение свободного падения.

Криволинейное движение. Движение материальной точки по окружности с постоянной по модулю скоростью. Угловая скорость, линейная скорость. Период и частота обращения. Центробежное ускорение.

Технические устройства и практическое применение: спидометр, движение снарядов, цепные и ремённые передачи.

#### *Демонстрации*

Модель системы отсчёта, иллюстрация кинематических характеристик движения.

Преобразование движений с использованием простых механизмов.

Падение тел в воздухе и в разреженном пространстве.

Наблюдение движения тела, брошенного под углом к горизонту и горизонтально.

Измерение ускорения свободного падения.

Направление скорости при движении по окружности.

*Ученический эксперимент, лабораторные работы*

Изучение неравномерного движения с целью определения мгновенной скорости.

Исследование соотношения между путями, пройденными телом за последовательные равные промежутки времени при равноускоренном движении с начальной скоростью, равной нулю.

Изучение движения шарика в вязкой жидкости.

Изучение движения тела, брошенного горизонтально.

## ***Тема 2. Динамика***

Принцип относительности Галилея. Первый закон Ньютона. Инерциальные системы отсчёта.

Масса тела. Сила. Принцип суперпозиции сил. Второй закон Ньютона для материальной точки. Третий закон Ньютона для материальных точек.

Закон всемирного тяготения. Сила тяжести. Первая космическая скорость.

Сила упругости. Закон Гука. Вес тела.

Трение. Виды трения (покоя, скольжения, качения). Сила трения. Сухое трение. Сила трения скольжения и сила трения покоя. Коэффициент трения. Сила сопротивления при движении тела в жидкости или газе.

Поступательное и вращательное движение абсолютно твёрдого тела.

Момент силы относительно оси вращения. Плечо силы. Условия равновесия твёрдого тела.

Технические устройства и практическое применение: подшипники, движение искусственных спутников.

### *Демонстрации*

Явление инерции.

Сравнение масс взаимодействующих тел.

Второй закон Ньютона.

Измерение сил.

Сложение сил.

Зависимость силы упругости от деформации.

Невесомость. Вес тела при ускоренном подъёме и падении.

Сравнение сил трения покоя, качения и скольжения.

Условия равновесия твёрдого тела. Виды равновесия.

*Ученический эксперимент, лабораторные работы*

Изучение движения бруска по наклонной плоскости.

Исследование зависимости сил упругости, возникающих в пружине и резиновом образце, от их деформации.

Исследование условий равновесия твёрдого тела, имеющего ось вращения.

### ***Тема 3. Законы сохранения в механике***

Импульс материальной точки (тела), системы материальных точек. Импульс силы и изменение импульса тела. Закон сохранения импульса. Реактивное движение.

Работа силы. Мощность силы.

Кинетическая энергия материальной точки. Теорема об изменении кинетической энергии.

Потенциальная энергия. Потенциальная энергия упруго деформированной пружины. Потенциальная энергия тела вблизи поверхности Земли.

Потенциальные и непотенциальные силы. Связь работы непотенциальных сил с изменением механической энергии системы тел. Закон сохранения механической энергии.

Упругие и неупругие столкновения.

Технические устройства и практическое применение: водомёт, копёр, пружинный пистолет, движение ракет.

#### *Демонстрации*

Закон сохранения импульса.

Реактивное движение.

Переход потенциальной энергии в кинетическую и обратно.

#### *Ученический эксперимент, лабораторные работы*

Изучение абсолютно неупругого удара с помощью двух одинаковых нитяных маятников.

Исследование связи работы силы с изменением механической энергии тела на примере растяжения резинового жгута.

## **Раздел 3. Молекулярная физика и термодинамика**

### ***Тема 1. Основы молекулярно-кинетической теории***

Основные положения молекулярно-кинетической теории и их опытное обоснование. Броуновское движение. Диффузия. Характер движения и взаимодействия частиц вещества. Модели строения газов, жидкостей и твёрдых тел и объяснение свойств вещества на основе этих моделей. Масса и размеры молекул. Количество вещества. Постоянная Авогадро.

Тепловое равновесие. Температура и её измерение. Шкала температур Цельсия.



Модель идеального газа. Основное уравнение молекулярно-кинетической теории идеального газа. Абсолютная температура как мера средней кинетической энергии теплового движения частиц газа. Шкала температур Кельвина. Газовые законы. Уравнение Менделеева–Клапейрона. Закон Дальтона. Изопроцессы в идеальном газе с постоянным количеством вещества. Графическое представление изопроцессов: изотерма, изохора, изобара.

Технические устройства и практическое применение: термометр, барометр.

#### *Демонстрации*

Опыты, доказывающие дискретное строение вещества, фотографии молекул органических соединений.

Опыты по диффузии жидкостей и газов.

Модель броуновского движения.

Модель опыта Штерна.

Опыты, доказывающие существование межмолекулярного взаимодействия.

Модель, иллюстрирующая природу давления газа на стенки сосуда.

Опыты, иллюстрирующие уравнение состояния идеального газа, изопроцессы.

#### *Ученический эксперимент, лабораторные работы*

Определение массы воздуха в классной комнате на основе измерений объёма комнаты, давления и температуры воздуха в ней.

Исследование зависимости между параметрами состояния разреженного газа.

### **Тема 2. Основы термодинамики**

Термодинамическая система. Внутренняя энергия термодинамической системы и способы её изменения. Количество теплоты и работа. Внутренняя энергия одноатомного идеального газа. Виды теплопередачи: теплопроводность, конвекция, излучение. Удельная теплоёмкость вещества. Количество теплоты при теплопередаче.

Понятие об адиабатном процессе. Первый закон термодинамики. Применение первого закона термодинамики к изопроцессам. Графическая интерпретация работы газа.

Второй закон термодинамики. Необратимость процессов в природе.

Тепловые машины. Принципы действия тепловых машин. Преобразования энергии в тепловых машинах. Коэффициент полезного действия тепловой машины. Цикл Карно и его коэффициент полезного действия. Экологические проблемы теплоэнергетики.

Технические устройства и практическое применение: двигатель внутреннего сгорания, бытовой холодильник, кондиционер.

#### *Демонстрации*

Изменение внутренней энергии тела при совершении работы: вылет пробки из бутылки под действием сжатого воздуха, нагревание эфира в латунной трубке путём трения (видеодемонстрация).

Изменение внутренней энергии (температуры) тела при теплопередаче.

Опыт по адиабатному расширению воздуха (опыт с воздушным огнём).

Модели паровой турбины, двигателя внутреннего сгорания, реактивного двигателя.

#### *Ученический эксперимент, лабораторные работы*

Измерение удельной теплоёмкости.

### **Тема 3. Агрегатные состояния вещества. Фазовые переходы**

Парообразование и конденсация. Испарение и кипение. Абсолютная и относительная влажность воздуха. Насыщенный пар. Удельная теплота парообразования. Зависимость температуры кипения от давления.

Твёрдое тело. Кристаллические и аморфные тела. Анизотропия свойств кристаллов. Жидкие кристаллы. Современные материалы. Плавление и кристаллизация. Удельная теплота плавления. Сублимация.

Уравнение теплового баланса.

Технические устройства и практическое применение: гигрометр и психрометр, калориметр, технологии получения современных материалов, в том числе наноматериалов, и нанотехнологии.

#### *Демонстрации*

Свойства насыщенных паров.

Кипение при пониженном давлении.

Способы измерения влажности.

Наблюдение нагревания и плавления кристаллического вещества.

Демонстрация кристаллов.

#### *Ученический эксперимент, лабораторные работы*

Измерение относительной влажности воздуха.

## **Раздел 4. Электродинамика**

### **Тема 1. Электростатика**

Электризация тел. Электрический заряд. Два вида электрических зарядов. Проводники, диэлектрики и полупроводники. Закон сохранения электрического заряда.

Взаимодействие зарядов. Закон Кулона. Точечный электрический заряд. Электрическое поле. Напряжённость электрического поля. Принцип

суперпозиции электрических полей. Линии напряжённости электрического поля.

Работа сил электростатического поля. Потенциал. Разность потенциалов. Проводники и диэлектрики в электростатическом поле. Диэлектрическая проницаемость.

Емкость. Конденсатор. Емкость плоского конденсатора. Энергия заряженного конденсатора.

Технические устройства и практическое применение: электроскоп, электрометр, электростатическая защита, заземление электроприборов, конденсатор, копировальный аппарат, струйный принтер.

### *Демонстрации*

Устройство и принцип действия электрометра.

Взаимодействие наэлектризованных тел.

Электрическое поле заряженных тел.

Проводники в электростатическом поле.

Электростатическая защита.

Диэлектрики в электростатическом поле.

Зависимость емкости плоского конденсатора от площади пластин, расстояния между ними и диэлектрической проницаемости.

Энергия заряженного конденсатора.

### *Ученический эксперимент, лабораторные работы*

Измерение емкости конденсатора.

## **Тема 2. Постоянный электрический ток. Токи в различных средах**

Электрический ток. Условия существования электрического тока. Источники тока. Сила тока. Постоянный ток.

Напряжение. Закон Ома для участка цепи.

Электрическое сопротивление. Удельное сопротивление вещества. Последовательное, параллельное, смешанное соединение проводников.

Работа электрического тока. Закон Джоуля–Ленца. Мощность электрического тока.

Электродвижущая сила и внутреннее сопротивление источника тока. Закон Ома для полной (замкнутой) электрической цепи. Короткое замыкание.

Электронная проводимость твердых металлов. Зависимость сопротивления металлов от температуры. Сверхпроводимость.

Электрический ток в вакууме. Свойства электронных пучков.

Полупроводники. Собственная и примесная проводимость полупроводников. Свойства p–n-перехода. Полупроводниковые приборы.

Электрический ток в растворах и расплавах электролитов. Электролитическая диссоциация. Электролиз.

Электрический ток в газах. Самостоятельный и несамостоятельный разряд. Молния. Плазма.

Технические устройства и практическое применение: амперметр, вольтметр, реостат, источники тока, электронагревательные приборы, электроосветительные приборы, термометр сопротивления, вакуумный диод, термисторы и фоторезисторы, полупроводниковый диод, гальваника.

#### *Демонстрации*

Измерение силы тока и напряжения.

Зависимость сопротивления цилиндрических проводников от длины, площади поперечного сечения и материала.

Смешанное соединение проводников.

Прямое измерение электродвижущей силы. Короткое замыкание гальванического элемента и оценка внутреннего сопротивления.

Зависимость сопротивления металлов от температуры.

Проводимость электролитов.

Искровой разряд и проводимость воздуха.

Односторонняя проводимость диода.

#### *Ученический эксперимент, лабораторные работы*

Изучение смешанного соединения резисторов.

Измерение электродвижущей силы источника тока и его внутреннего сопротивления.

Наблюдение электролиза.

#### **Межпредметные связи**

Изучение курса физики базового уровня в 10 классе осуществляется с учётом содержательных межпредметных связей с курсами математики, биологии, химии, географии и технологии.

*Межпредметные понятия*, связанные с изучением методов научного познания: явление, научный факт, гипотеза, физическая величина, закон, теория, наблюдение, эксперимент, моделирование, модель, измерение.

*Математика*: решение системы уравнений, линейная функция, парабола, гиперболола, их графики и свойства, тригонометрические функции: синус, косинус, тангенс, котангенс, основное тригонометрическое тождество, векторы и их проекции на оси координат, сложение векторов.

*Биология*: механическое движение в живой природе, диффузия, осмос, теплообмен живых организмов (виды теплопередачи, тепловое равновесие), электрические явления в живой природе.

*Химия*: дискретное строение вещества, строение атомов и молекул, моль вещества, молярная масса, тепловые свойства твёрдых тел, жидкостей и

газов, электрические свойства металлов, электролитическая диссоциация, гальваника.

*География:* влажность воздуха, ветры, барометр, термометр.

*Технология:* преобразование движений с использованием механизмов, учёт трения в технике, подшипники, использование закона сохранения импульса в технике (ракета, водомёт и другие), двигатель внутреннего сгорания, паровая турбина, бытовой холодильник, кондиционер, технологии получения современных материалов, в том числе наноматериалов, и нанотехнологии, электростатическая защита, заземление электроприборов, ксерокс, струйный принтер, электронагревательные приборы, электроосветительные приборы, гальваника.

## 11 КЛАСС

### Раздел 4. Электродинамика

#### *Тема 3. Магнитное поле. Электромагнитная индукция*

Постоянные магниты. Взаимодействие постоянных магнитов. Магнитное поле. Вектор магнитной индукции. Принцип суперпозиции магнитных полей. Линии магнитной индукции. Картина линий магнитной индукции поля постоянных магнитов.

Магнитное поле проводника с током. Картина линий индукции магнитного поля длинного прямого проводника и замкнутого кольцевого проводника, катушки с током. Опыт Эрстеда. Взаимодействие проводников с током.

Сила Ампера, её модуль и направление.

Сила Лоренца, её модуль и направление. Движение заряженной частицы в однородном магнитном поле. Работа силы Лоренца.

Явление электромагнитной индукции. Поток вектора магнитной индукции. Электродвижущая сила индукции. Закон электромагнитной индукции Фарадея.

Вихревое электрическое поле. Электродвижущая сила индукции в проводнике, движущемся поступательно в однородном магнитном поле.

Правило Ленца.

Индуктивность. Явление самоиндукции. Электродвижущая сила самоиндукции.

Энергия магнитного поля катушки с током.

Электромагнитное поле.

Технические устройства и практическое применение: постоянные магниты, электромагниты, электродвигатель, ускорители элементарных частиц, индукционная печь.

### *Демонстрации*

Опыт Эрстеда.

Отклонение электронного пучка магнитным полем.

Линии индукции магнитного поля.

Взаимодействие двух проводников с током.

Сила Ампера.

Действие силы Лоренца на ионы электролита.

Явление электромагнитной индукции.

Правило Ленца.

Зависимость электродвижущей силы индукции от скорости изменения магнитного потока.

Явление самоиндукции.

*Ученический эксперимент, лабораторные работы*

Изучение магнитного поля катушки с током.

Исследование действия постоянного магнита на рамку с током.

Исследование явления электромагнитной индукции.

## **Раздел 5. Колебания и волны**

### ***Тема 1. Механические и электромагнитные колебания***

Колебательная система. Свободные механические колебания. Гармонические колебания. Период, частота, амплитуда и фаза колебаний. Пружинный маятник. Математический маятник. Уравнение гармонических колебаний. Превращение энергии при гармонических колебаниях.

Колебательный контур. Свободные электромагнитные колебания в идеальном колебательном контуре. Аналогия между механическими и электромагнитными колебаниями. Формула Томсона. Закон сохранения энергии в идеальном колебательном контуре.

Представление о затухающих колебаниях. Вынужденные механические колебания. Резонанс. Вынужденные электромагнитные колебания.

Переменный ток. Синусоидальный переменный ток. Мощность переменного тока. Амплитудное и действующее значение силы тока и напряжения.

Трансформатор. Производство, передача и потребление электрической энергии. Экологические риски при производстве электроэнергии. Культура использования электроэнергии в повседневной жизни.

Технические устройства и практическое применение: электрический звонок, генератор переменного тока, линии электропередач.

### *Демонстрации*

Исследование параметров колебательной системы (пружинный или математический маятник).

Наблюдение затухающих колебаний.

Исследование свойств вынужденных колебаний.

Наблюдение резонанса.

Свободные электромагнитные колебания.

Осциллограммы (зависимости силы тока и напряжения от времени) для электромагнитных колебаний.

Резонанс при последовательном соединении резистора, катушки индуктивности и конденсатора.

Модель линии электропередачи.

*Ученический эксперимент, лабораторные работы*

Исследование зависимости периода малых колебаний груза на нити от длины нити и массы груза.

Исследование переменного тока в цепи из последовательно соединённых конденсатора, катушки и резистора.

## ***Тема 2. Механические и электромагнитные волны***

Механические волны, условия распространения. Период. Скорость распространения и длина волны. Поперечные и продольные волны. Интерференция и дифракция механических волн.

Звук. Скорость звука. Громкость звука. Высота тона. Тембр звука.

Электромагнитные волны. Условия излучения электромагнитных волн. Взаимная ориентация векторов  $E$ ,  $B$ ,  $V$  в электромагнитной волне. Свойства электромагнитных волн: отражение, преломление, поляризация, дифракция, интерференция. Скорость электромагнитных волн.

Шкала электромагнитных волн. Применение электромагнитных волн в технике и быту.

Принципы радиосвязи и телевидения. Радиолокация.

Электромагнитное загрязнение окружающей среды.

Технические устройства и практическое применение: музыкальные инструменты, ультразвуковая диагностика в технике и медицине, радар, радиоприёмник, телевизор, антенна, телефон, СВЧ-печь.

### *Демонстрации*

Образование и распространение поперечных и продольных волн.

Колеблющееся тело как источник звука.

Наблюдение отражения и преломления механических волн.

Наблюдение интерференции и дифракции механических волн.

Звуковой резонанс.

Наблюдение связи громкости звука и высоты тона с амплитудой и частотой колебаний.

Исследование свойств электромагнитных волн: отражение, преломление, поляризация, дифракция, интерференция.

### ***Тема 3. Оптика***

Геометрическая оптика. Прямолинейное распространение света в однородной среде. Луч света. Точечный источник света.

Отражение света. Законы отражения света. Построение изображений в плоском зеркале.

Преломление света. Законы преломления света. Абсолютный показатель преломления. Полное внутреннее отражение. Предельный угол полного внутреннего отражения.

Дисперсия света. Сложный состав белого света. Цвет.

Собирающие и рассеивающие линзы. Тонкая линза. Фокусное расстояние и оптическая сила тонкой линзы. Построение изображений в собирающих и рассеивающих линзах. Формула тонкой линзы. Увеличение, даваемое линзой.

Пределы применимости геометрической оптики.

Волновая оптика. Интерференция света. Когерентные источники. Условия наблюдения максимумов и минимумов в интерференционной картине от двух синфазных когерентных источников.

Дифракция света. Дифракционная решётка. Условие наблюдения главных максимумов при падении монохроматического света на дифракционную решётку.

Поляризация света.

Технические устройства и практическое применение: очки, лупа, фотоаппарат, проекционный аппарат, микроскоп, телескоп, волоконная оптика, дифракционная решётка, поляриод.

### ***Демонстрации***

Прямолинейное распространение, отражение и преломление света. Оптические приборы.

Полное внутреннее отражение. Модель световода.

Исследование свойств изображений в линзах.

Модели микроскопа, телескопа.

Наблюдение интерференции света.

Наблюдение дифракции света.

Наблюдение дисперсии света.

Получение спектра с помощью призмы.

Получение спектра с помощью дифракционной решётки.

Наблюдение поляризации света.

*Ученический эксперимент, лабораторные работы*



Измерение показателя преломления стекла.  
Исследование свойств изображений в линзах.  
Наблюдение дисперсии света.

## **Раздел 6. Основы специальной теории относительности**

Границы применимости классической механики. Постулаты специальной теории относительности: инвариантность модуля скорости света в вакууме, принцип относительности Эйнштейна.

Относительность одновременности. Замедление времени и сокращение длины.

Энергия и импульс релятивистской частицы.

Связь массы с энергией и импульсом релятивистской частицы. Энергия покоя.

## **Раздел 7. Квантовая физика**

### ***Тема 1. Элементы квантовой оптики***

Фотоны. Формула Планка связи энергии фотона с его частотой. Энергия и импульс фотона.

Открытие и исследование фотоэффекта. опыты А. Г. Столетова. Законы фотоэффекта. Уравнение Эйнштейна для фотоэффекта. «Красная граница» фотоэффекта.

Давление света. опыты П. Н. Лебедева.

Химическое действие света.

Технические устройства и практическое применение: фотоэлемент, фотодатчик, солнечная батарея, светодиод.

### ***Демонстрации***

Фотоэффект на установке с цинковой пластиной.

Исследование законов внешнего фотоэффекта.

Светодиод.

Солнечная батарея.

### ***Тема 2. Строение атома***

Модель атома Томсона. опыты Резерфорда по рассеянию  $\alpha$ -частиц. Планетарная модель атома. Постулаты Бора. Излучение и поглощение фотонов при переходе атома с одного уровня энергии на другой. Виды спектров. Спектр уровней энергии атома водорода.

Волновые свойства частиц. Волны де Бройля. Корпускулярно-волновой дуализм.

Спонтанное и вынужденное излучение.

Технические устройства и практическое применение: спектральный анализ (спектроскоп), лазер, квантовый компьютер.

### *Демонстрации*

Модель опыта Резерфорда.

Определение длины волны лазера.

Наблюдение линейчатых спектров излучения.

Лазер.

*Ученический эксперимент, лабораторные работы*

Наблюдение линейчатого спектра.

### **Тема 3. Атомное ядро**

Эксперименты, доказывающие сложность строения ядра. Открытие радиоактивности. Опыты Резерфорда по определению состава радиоактивного излучения. Свойства альфа-, бета-, гамма-излучения. Влияние радиоактивности на живые организмы.

Открытие протона и нейтрона. Нуклонная модель ядра Гейзенберга–Иваненко. Заряд ядра. Массовое число ядра. Изотопы.

Альфа-распад. Электронный и позитронный бета-распад. Гамма-излучение. Закон радиоактивного распада.

Энергия связи нуклонов в ядре. Ядерные силы. Дефект массы ядра.

Ядерные реакции. Деление и синтез ядер.

Ядерный реактор. Термоядерный синтез. Проблемы и перспективы ядерной энергетики. Экологические аспекты ядерной энергетики.

Элементарные частицы. Открытие позитрона.

Методы наблюдения и регистрации элементарных частиц.

Фундаментальные взаимодействия. Единство физической картины мира.

Технические устройства и практическое применение: дозиметр, камера Вильсона, ядерный реактор, атомная бомба.

### *Демонстрации*

Счётчик ионизирующих частиц.

*Ученический эксперимент, лабораторные работы*

Исследование треков частиц (по готовым фотографиям).

## **Раздел 8. Элементы астрономии и астрофизики**

Этапы развития астрономии. Прикладное и мировоззренческое значение астрономии.

Вид звёздного неба. Созвездия, яркие звёзды, планеты, их видимое движение.

Солнечная система.

Солнце. Солнечная активность. Источник энергии Солнца и звёзд. Звёзды, их основные характеристики. Диаграмма «спектральный класс – светимость». Звёзды главной последовательности. Зависимость «масса – светимость» для звёзд главной последовательности. Внутреннее строение

звёзд. Современные представления о происхождении и эволюции Солнца и звёзд. Этапы жизни звёзд.

Млечный Путь – наша Галактика. Положение и движение Солнца в Галактике. Типы галактик. Радиогалактики и квазары. Чёрные дыры в ядрах галактик.

Вселенная. Расширение Вселенной. Закон Хаббла. Разбегание галактик. Теория Большого взрыва. Реликтовое излучение.

Масштабная структура Вселенной. Метагалактика.

Нерешённые проблемы астрономии.

*Ученические наблюдения*

Наблюдения невооружённым глазом с использованием компьютерных приложений для определения положения небесных объектов на конкретную дату: основные созвездия Северного полушария и яркие звёзды.

Наблюдения в телескоп Луны, планет, Млечного Пути.

### **Обобщающее повторение**

Роль физики и астрономии в экономической, технологической, социальной и этической сферах деятельности человека, роль и место физики и астрономии в современной научной картине мира, роль физической теории в формировании представлений о физической картине мира, место физической картины мира в общем ряду современных естественно-научных представлений о природе.

### **Межпредметные связи**

Изучение курса физики базового уровня в 11 классе осуществляется с учётом содержательных межпредметных связей с курсами математики, биологии, химии, географии и технологии.

*Межпредметные понятия*, связанные с изучением методов научного познания: явление, научный факт, гипотеза, физическая величина, закон, теория, наблюдение, эксперимент, моделирование, модель, измерение.

*Математика*: решение системы уравнений, тригонометрические функции: синус, косинус, тангенс, котангенс, основное тригонометрическое тождество, векторы и их проекции на оси координат, сложение векторов, производные элементарных функций, признаки подобия треугольников, определение площади плоских фигур и объёма тел.

*Биология*: электрические явления в живой природе, колебательные движения в живой природе, оптические явления в живой природе, действие радиации на живые организмы.

*Химия*: строение атомов и молекул, кристаллическая структура твёрдых тел, механизмы образования кристаллической решётки, спектральный анализ.

*География:* магнитные полюса Земли, залежи магнитных руд, фотосъёмка земной поверхности, предсказание землетрясений.

*Технология:* линии электропередач, генератор переменного тока, электродвигатель, индукционная печь, радар, радиоприёмник, телевизор, антенна, телефон, СВЧ-печь, проекционный аппарат, волоконная оптика, солнечная батарея.

## **ПЛАНИРУЕМЫЕ РЕЗУЛЬТАТЫ ОСВОЕНИЯ ПРОГРАММЫ ПО ФИЗИКЕ НА УРОВНЕ СРЕДНЕГО ОБЩЕГО ОБРАЗОВАНИЯ**

Освоение учебного предмета «Физика» на уровне среднего общего образования (базовый уровень) должно обеспечить достижение следующих личностных, метапредметных и предметных образовательных результатов.

### **ЛИЧНОСТНЫЕ РЕЗУЛЬТАТЫ**

Личностные результаты освоения учебного предмета «Физика» должны отражать готовность и способность обучающихся руководствоваться сформированной внутренней позицией личности, системой ценностных ориентаций, позитивных внутренних убеждений, соответствующих традиционным ценностям российского общества, расширение жизненного опыта и опыта деятельности в процессе реализации основных направлений воспитательной деятельности, в том числе в части:

#### **1) гражданского воспитания:**

сформированность гражданской позиции обучающегося как активного и ответственного члена российского общества;

принятие традиционных общечеловеческих гуманистических и демократических ценностей;

готовность вести совместную деятельность в интересах гражданского общества, участвовать в самоуправлении в образовательной организации;

умение взаимодействовать с социальными институтами в соответствии с их функциями и назначением;

готовность к гуманитарной и волонтерской деятельности;

#### **2) патриотического воспитания:**

сформированность российской гражданской идентичности, патриотизма;

ценностное отношение к государственным символам, достижениям российских учёных в области физики и техники;

#### **3) духовно-нравственного воспитания:**

сформированность нравственного сознания, этического поведения;

способность оценивать ситуацию и принимать осознанные решения, ориентируясь на морально-нравственные нормы и ценности, в том числе в деятельности учёного;

осознание личного вклада в построение устойчивого будущего;

#### **4) эстетического воспитания:**

эстетическое отношение к миру, включая эстетику научного творчества, присущего физической науке;

### **5) трудового воспитания:**

интерес к различным сферам профессиональной деятельности, в том числе связанным с физикой и техникой, умение совершать осознанный выбор будущей профессии и реализовывать собственные жизненные планы;

готовность и способность к образованию и самообразованию в области физики на протяжении всей жизни;

### **6) экологического воспитания:**

сформированность экологической культуры, осознание глобального характера экологических проблем;

планирование и осуществление действий в окружающей среде на основе знания целей устойчивого развития человечества;

расширение опыта деятельности экологической направленности на основе имеющихся знаний по физике;

### **7) ценности научного познания:**

сформированность мировоззрения, соответствующего современному уровню развития физической науки;

осознание ценности научной деятельности, готовность в процессе изучения физики осуществлять проектную и исследовательскую деятельность индивидуально и в группе.

## **МЕТАПРЕДМЕТНЫЕ РЕЗУЛЬТАТЫ**

### **Познавательные универсальные учебные действия**

#### **Базовые логические действия:**

самостоятельно формулировать и актуализировать проблему, рассматривать её всесторонне;

определять цели деятельности, задавать параметры и критерии их достижения;

выявлять закономерности и противоречия в рассматриваемых физических явлениях;

разрабатывать план решения проблемы с учётом анализа имеющихся материальных и нематериальных ресурсов;

вносить коррективы в деятельность, оценивать соответствие результатов целям, оценивать риски последствий деятельности;

координировать и выполнять работу в условиях реального, виртуального и комбинированного взаимодействия;

развивать креативное мышление при решении жизненных проблем.

#### **Базовые исследовательские действия:**

владеть научной терминологией, ключевыми понятиями и методами физической науки;

владеть навыками учебно-исследовательской и проектной деятельности в области физики, способностью и готовностью к самостоятельному поиску методов решения задач физического содержания, применению различных методов познания;

владеть видами деятельности по получению нового знания, его интерпретации, преобразованию и применению в различных учебных ситуациях, в том числе при создании учебных проектов в области физики;

выявлять причинно-следственные связи и актуализировать задачу, выдвигать гипотезу её решения, находить аргументы для доказательства своих утверждений, задавать параметры и критерии решения;

анализировать полученные в ходе решения задачи результаты, критически оценивать их достоверность, прогнозировать изменение в новых условиях;

ставить и формулировать собственные задачи в образовательной деятельности, в том числе при изучении физики;

давать оценку новым ситуациям, оценивать приобретённый опыт;

уметь переносить знания по физике в практическую область жизнедеятельности;

уметь интегрировать знания из разных предметных областей;

выдвигать новые идеи, предлагать оригинальные подходы и решения;

ставить проблемы и задачи, допускающие альтернативные решения.

### **Работа с информацией:**

владеть навыками получения информации физического содержания из источников разных типов, самостоятельно осуществлять поиск, анализ, систематизацию и интерпретацию информации различных видов и форм представления;

оценивать достоверность информации;

использовать средства информационных и коммуникационных технологий в решении когнитивных, коммуникативных и организационных задач с соблюдением требований эргономики, техники безопасности, гигиены, ресурсосбережения, правовых и этических норм, норм информационной безопасности;

создавать тексты физического содержания в различных форматах с учётом назначения информации и целевой аудитории, выбирая оптимальную форму представления и визуализации.

### **Коммуникативные универсальные учебные действия:**

осуществлять общение на уроках физики и во внеурочной деятельности;

распознавать предпосылки конфликтных ситуаций и смягчать конфликты;

развёрнуто и логично излагать свою точку зрения с использованием языковых средств;

понимать и использовать преимущества командной и индивидуальной работы;

выбирать тематику и методы совместных действий с учётом общих интересов и возможностей каждого члена коллектива;

принимать цели совместной деятельности, организовывать и координировать действия по её достижению: составлять план действий, распределять роли с учётом мнений участников, обсуждать результаты совместной работы;

оценивать качество своего вклада и каждого участника команды в общий результат по разработанным критериям;

предлагать новые проекты, оценивать идеи с позиции новизны, оригинальности, практической значимости;

осуществлять позитивное стратегическое поведение в различных ситуациях, проявлять творчество и воображение, быть инициативным.

## **Регулятивные универсальные учебные действия**

### **Самоорганизация:**

самостоятельно осуществлять познавательную деятельность в области физики и астрономии, выявлять проблемы, ставить и формулировать собственные задачи;

самостоятельно составлять план решения расчётных и качественных задач, план выполнения практической работы с учётом имеющихся ресурсов, собственных возможностей и предпочтений;

давать оценку новым ситуациям;

расширять рамки учебного предмета на основе личных предпочтений;

делать осознанный выбор, аргументировать его, брать на себя ответственность за решение;

оценивать приобретённый опыт;

способствовать формированию и проявлению эрудиции в области физики, постоянно повышать свой образовательный и культурный уровень.

### **Самоконтроль, эмоциональный интеллект:**

давать оценку новым ситуациям, вносить коррективы в деятельность, оценивать соответствие результатов целям;

владеть навыками познавательной рефлексии как осознания совершаемых действий и мыслительных процессов, их результатов и оснований;

использовать приёмы рефлексии для оценки ситуации, выбора верного решения;



уметь оценивать риски и своевременно принимать решения по их снижению;

принимать мотивы и аргументы других при анализе результатов деятельности;

принимать себя, понимая свои недостатки и достоинства;

принимать мотивы и аргументы других при анализе результатов деятельности;

признавать своё право и право других на ошибки.

В процессе достижения личностных результатов освоения программы по физике для уровня среднего общего образования у обучающихся совершенствуется эмоциональный интеллект, предполагающий сформированность:

самосознания, включающего способность понимать своё эмоциональное состояние, видеть направления развития собственной эмоциональной сферы, быть уверенным в себе;

саморегулирования, включающего самоконтроль, умение принимать ответственность за своё поведение, способность адаптироваться к эмоциональным изменениям и проявлять гибкость, быть открытым новому;

внутренней мотивации, включающей стремление к достижению цели и успеху, оптимизм, инициативность, умение действовать исходя из своих возможностей;

эмпатии, включающей способность понимать эмоциональное состояние других, учитывать его при осуществлении общения, способность к сочувствию и сопереживанию;

социальных навыков, включающих способность выстраивать отношения с другими людьми, заботиться, проявлять интерес и разрешать конфликты.

## **ПРЕДМЕТНЫЕ РЕЗУЛЬТАТЫ**

К концу обучения в **10 классе** предметные результаты на базовом уровне должны отражать сформированность у обучающихся умений:

демонстрировать на примерах роль и место физики в формировании современной научной картины мира, в развитии современной техники и технологий, в практической деятельности людей;

учитывать границы применения изученных физических моделей: материальная точка, инерциальная система отсчёта, абсолютно твёрдое тело, идеальный газ, модели строения газов, жидкостей и твёрдых тел, точечный электрический заряд при решении физических задач;

распознавать физические явления (процессы) и объяснять их на основе законов механики, молекулярно-кинетической теории строения вещества и

электродинамики: равномерное и равноускоренное прямолинейное движение, свободное падение тел, движение по окружности, инерция, взаимодействие тел, диффузия, броуновское движение, строение жидкостей и твёрдых тел, изменение объёма тел при нагревании (охлаждении), тепловое равновесие, испарение, конденсация, плавление, кристаллизация, кипение, влажность воздуха, повышение давления газа при его нагревании в закрытом сосуде, связь между параметрами состояния газа в изопроцессах, электризация тел, взаимодействие зарядов;

описывать механическое движение, используя физические величины: координата, путь, перемещение, скорость, ускорение, масса тела, сила, импульс тела, кинетическая энергия, потенциальная энергия, механическая работа, механическая мощность; при описании правильно трактовать физический смысл используемых величин, их обозначения и единицы, находить формулы, связывающие данную физическую величину с другими величинами;

описывать изученные тепловые свойства тел и тепловые явления, используя физические величины: давление газа, температура, средняя кинетическая энергия хаотического движения молекул, среднеквадратичная скорость молекул, количество теплоты, внутренняя энергия, работа газа, коэффициент полезного действия теплового двигателя; при описании правильно трактовать физический смысл используемых величин, их обозначения и единицы, находить формулы, связывающие данную физическую величину с другими величинами;

описывать изученные электрические свойства вещества и электрические явления (процессы), используя физические величины: электрический заряд, электрическое поле, напряжённость поля, потенциал, разность потенциалов; при описании правильно трактовать физический смысл используемых величин, их обозначения и единицы; указывать формулы, связывающие данную физическую величину с другими величинами;

анализировать физические процессы и явления, используя физические законы и принципы: закон всемирного тяготения, I, II и III законы Ньютона, закон сохранения механической энергии, закон сохранения импульса, принцип суперпозиции сил, принцип равноправия инерциальных систем отсчёта, молекулярно-кинетическую теорию строения вещества, газовые законы, связь средней кинетической энергии теплового движения молекул с абсолютной температурой, первый закон термодинамики, закон сохранения электрического заряда, закон Кулона, при этом различать словесную формулировку закона, его математическое выражение и условия (границы, области) применимости;

объяснять основные принципы действия машин, приборов и технических устройств; различать условия их безопасного использования в повседневной жизни;

выполнять эксперименты по исследованию физических явлений и процессов с использованием прямых и косвенных измерений, при этом формулировать проблему/задачу и гипотезу учебного эксперимента, собирать установку из предложенного оборудования, проводить опыт и формулировать выводы;

осуществлять прямые и косвенные измерения физических величин, при этом выбирать оптимальный способ измерения и использовать известные методы оценки погрешностей измерений;

исследовать зависимости между физическими величинами с использованием прямых измерений, при этом конструировать установку, фиксировать результаты полученной зависимости физических величин в виде таблиц и графиков, делать выводы по результатам исследования;

соблюдать правила безопасного труда при проведении исследований в рамках учебного эксперимента, учебно-исследовательской и проектной деятельности с использованием измерительных устройств и лабораторного оборудования;

решать расчётные задачи с явно заданной физической моделью, используя физические законы и принципы, на основе анализа условия задачи выбирать физическую модель, выделять физические величины и формулы, необходимые для её решения, проводить расчёты и оценивать реальность полученного значения физической величины;

решать качественные задачи: выстраивать логически непротиворечивую цепочку рассуждений с опорой на изученные законы, закономерности и физические явления;

использовать при решении учебных задач современные информационные технологии для поиска, структурирования, интерпретации и представления учебной и научно-популярной информации, полученной из различных источников, критически анализировать получаемую информацию;

приводить примеры вклада российских и зарубежных учёных-физиков в развитие науки, объяснение процессов окружающего мира, в развитие техники и технологий;

использовать теоретические знания по физике в повседневной жизни для обеспечения безопасности при обращении с приборами и техническими устройствами, для сохранения здоровья и соблюдения норм экологического поведения в окружающей среде;

работать в группе с выполнением различных социальных ролей, планировать работу группы, рационально распределять обязанности и планировать деятельность в нестандартных ситуациях, адекватно оценивать вклад каждого из участников группы в решение рассматриваемой проблемы.

К концу обучения **в 11 классе** предметные результаты на базовом уровне должны отражать сформированность у обучающихся умений:

демонстрировать на примерах роль и место физики в формировании современной научной картины мира, в развитии современной техники и технологий, в практической деятельности людей, целостность и единство физической картины мира;

учитывать границы применения изученных физических моделей: точечный электрический заряд, луч света, точечный источник света, ядерная модель атома, нуклонная модель атомного ядра при решении физических задач;

распознавать физические явления (процессы) и объяснять их на основе законов электродинамики и квантовой физики: электрическая проводимость, тепловое, световое, химическое, магнитное действия тока, взаимодействие магнитов, электромагнитная индукция, действие магнитного поля на проводник с током и движущийся заряд, электромагнитные колебания и волны, прямолинейное распространение света, отражение, преломление, интерференция, дифракция и поляризация света, дисперсия света, фотоэлектрический эффект (фотоэффект), световое давление, возникновение линейчатого спектра атома водорода, естественная и искусственная радиоактивность;

описывать изученные свойства вещества (электрические, магнитные, оптические, электрическую проводимость различных сред) и электромагнитные явления (процессы), используя физические величины: электрический заряд, сила тока, электрическое напряжение, электрическое сопротивление, разность потенциалов, электродвижущая сила, работа тока, индукция магнитного поля, сила Ампера, сила Лоренца, индуктивность катушки, энергия электрического и магнитного полей, период и частота колебаний в колебательном контуре, заряд и сила тока в процессе гармонических электромагнитных колебаний, фокусное расстояние и оптическая сила линзы, при описании правильно трактовать физический смысл используемых величин, их обозначения и единицы, указывать формулы, связывающие данную физическую величину с другими величинами;

описывать изученные квантовые явления и процессы, используя физические величины: скорость электромагнитных волн, длина волны и

частота света, энергия и импульс фотона, период полураспада, энергия связи атомных ядер, при описании правильно трактовать физический смысл используемых величин, их обозначения и единицы, указывать формулы, связывающие данную физическую величину с другими величинами, вычислять значение физической величины;

анализировать физические процессы и явления, используя физические законы и принципы: закон Ома, законы последовательного и параллельного соединения проводников, закон Джоуля–Ленца, закон электромагнитной индукции, закон прямолинейного распространения света, законы отражения света, законы преломления света, уравнение Эйнштейна для фотоэффекта, закон сохранения энергии, закон сохранения импульса, закон сохранения электрического заряда, закон сохранения массового числа, постулаты Бора, закон радиоактивного распада, при этом различать словесную формулировку закона, его математическое выражение и условия (границы, области) применимости;

определять направление вектора индукции магнитного поля проводника с током, силы Ампера и силы Лоренца;

строить и описывать изображение, создаваемое плоским зеркалом, тонкой линзой;

выполнять эксперименты по исследованию физических явлений и процессов с использованием прямых и косвенных измерений: при этом формулировать проблему/задачу и гипотезу учебного эксперимента, собирать установку из предложенного оборудования, проводить опыт и формулировать выводы;

осуществлять прямые и косвенные измерения физических величин, при этом выбирать оптимальный способ измерения и использовать известные методы оценки погрешностей измерений;

исследовать зависимости физических величин с использованием прямых измерений: при этом конструировать установку, фиксировать результаты полученной зависимости физических величин в виде таблиц и графиков, делать выводы по результатам исследования;

соблюдать правила безопасного труда при проведении исследований в рамках учебного эксперимента, учебно-исследовательской и проектной деятельности с использованием измерительных устройств и лабораторного оборудования;

решать расчётные задачи с явно заданной физической моделью, используя физические законы и принципы, на основе анализа условия задачи выбирать физическую модель, выделять физические величины и формулы,

необходимые для её решения, проводить расчёты и оценивать реальность полученного значения физической величины;

решать качественные задачи: выстраивать логически непротиворечивую цепочку рассуждений с опорой на изученные законы, закономерности и физические явления;

использовать при решении учебных задач современные информационные технологии для поиска, структурирования, интерпретации и представления учебной и научно-популярной информации, полученной из различных источников, критически анализировать получаемую информацию;

объяснять принципы действия машин, приборов и технических устройств, различать условия их безопасного использования в повседневной жизни;

приводить примеры вклада российских и зарубежных учёных-физиков в развитие науки, в объяснение процессов окружающего мира, в развитие техники и технологий;

использовать теоретические знания по физике в повседневной жизни для обеспечения безопасности при обращении с приборами и техническими устройствами, для сохранения здоровья и соблюдения норм экологического поведения в окружающей среде;

работать в группе с выполнением различных социальных ролей, планировать работу группы, рационально распределять обязанности и планировать деятельность в нестандартных ситуациях, адекватно оценивать вклад каждого из участников группы в решение рассматриваемой проблемы.

## ТЕМАТИЧЕСКОЕ ПЛАНИРОВАНИЕ 10 КЛАСС

№ п/п	Наименование разделов и тем программы	Количество часов			Электронные (цифровые) образовательные ресурсы
		Всего	Контрольные работы	Практические работы	
<b>Раздел 1. ФИЗИКА И МЕТОДЫ НАУЧНОГО ПОЗНАНИЯ</b>					
1.1	Физика и методы научного познания	2			Библиотека ЦОК <a href="https://m.edsoo.ru/7f41bf72">https://m.edsoo.ru/7f41bf72</a>
Итого по разделу		2			
<b>Раздел 2. МЕХАНИКА</b>					
2.1	Кинематика	5			Библиотека ЦОК <a href="https://m.edsoo.ru/7f41bf72">https://m.edsoo.ru/7f41bf72</a>
2.2	Динамика	7			Библиотека ЦОК <a href="https://m.edsoo.ru/7f41bf72">https://m.edsoo.ru/7f41bf72</a>
2.3	Законы сохранения в механике	6	1	1	Библиотека ЦОК <a href="https://m.edsoo.ru/7f41bf72">https://m.edsoo.ru/7f41bf72</a>
Итого по разделу		18			
<b>Раздел 3. МОЛЕКУЛЯРНАЯ ФИЗИКА И ТЕРМОДИНАМИКА</b>					
3.1	Основы молекулярно-кинетической теории	9		1	Библиотека ЦОК <a href="https://m.edsoo.ru/7f41bf72">https://m.edsoo.ru/7f41bf72</a>
3.2	Основы термодинамики	10	1		Библиотека ЦОК <a href="https://m.edsoo.ru/7f41bf72">https://m.edsoo.ru/7f41bf72</a>
3.3	Агрегатные состояния вещества. Фазовые переходы	5			Библиотека ЦОК <a href="https://m.edsoo.ru/7f41bf72">https://m.edsoo.ru/7f41bf72</a>

Итого по разделу		24			
<b>Раздел 4. ЭЛЕКТРОДИНАМИКА</b>					
4.1	Электростатика	10		1	Библиотека ЦОК <a href="https://m.edsoo.ru/7f41bf72">https://m.edsoo.ru/7f41bf72</a>
4.2	Постоянный электрический ток. Токи в различных средах	12	1	1	Библиотека ЦОК <a href="https://m.edsoo.ru/7f41bf72">https://m.edsoo.ru/7f41bf72</a>
Итого по разделу		22			
Резервное время		2	1		
ОБЩЕЕ КОЛИЧЕСТВО ЧАСОВ ПО ПРОГРАММЕ		68	4	4	



## 11 КЛАСС

№ п/п	Наименование разделов и тем программы	Количество часов			Электронные (цифровые) образовательные ресурсы
		Всего	Контрольные работы	Практические работы	
<b>Раздел 1. ЭЛЕКТРОДИНАМИКА</b>					
1.1	Магнитное поле. Электромагнитная индукция	11	1	3	Библиотека ЦОК <a href="https://m.edsoo.ru/7f41c97c">https://m.edsoo.ru/7f41c97c</a>
Итого по разделу		11			
<b>Раздел 2. КОЛЕБАНИЯ И ВОЛНЫ</b>					
2.1	Механические и электромагнитные колебания	9		1	Библиотека ЦОК <a href="https://m.edsoo.ru/7f41c97c">https://m.edsoo.ru/7f41c97c</a>
2.2	Механические и электромагнитные волны	5	1		Библиотека ЦОК <a href="https://m.edsoo.ru/7f41c97c">https://m.edsoo.ru/7f41c97c</a>
2.3	Оптика	10		3	Библиотека ЦОК <a href="https://m.edsoo.ru/7f41c97c">https://m.edsoo.ru/7f41c97c</a>
Итого по разделу		24			
<b>Раздел 3. ОСНОВЫ СПЕЦИАЛЬНОЙ ТЕОРИИ ОТНОСИТЕЛЬНОСТИ</b>					
3.1	Основы специальной теории относительности	4	1		Библиотека ЦОК <a href="https://m.edsoo.ru/7f41c97c">https://m.edsoo.ru/7f41c97c</a>
Итого по разделу		4			
<b>Раздел 4. КВАНТОВАЯ ФИЗИКА</b>					
4.1	Элементы квантовой оптики	6			Библиотека ЦОК <a href="https://m.edsoo.ru/7f41c97c">https://m.edsoo.ru/7f41c97c</a>
4.2	Строение атома	4			Библиотека ЦОК

					<a href="https://m.edsoo.ru/7f41c97c">https://m.edsoo.ru/7f41c97c</a>
4.3	Атомное ядро	5			Библиотека ЦОК <a href="https://m.edsoo.ru/7f41c97c">https://m.edsoo.ru/7f41c97c</a>
Итого по разделу		15			
<b>Раздел 5. ЭЛЕМЕНТЫ АСТРОНОМИИ И АСТРОФИЗИКИ</b>					
5.1	Элементы астрономии и астрофизики	7	1		Библиотека ЦОК <a href="https://m.edsoo.ru/7f41c97c">https://m.edsoo.ru/7f41c97c</a>
Итого по разделу		7			
<b>Раздел 6. ОБОБЩАЮЩЕЕ ПОВТОРЕНИЕ</b>					
6.1	Обобщающее повторение	4			Библиотека ЦОК <a href="https://m.edsoo.ru/7f41c97c">https://m.edsoo.ru/7f41c97c</a>
Итого по разделу		4			
Резервное время		3			
<b>ОБЩЕЕ КОЛИЧЕСТВО ЧАСОВ ПО ПРОГРАММЕ</b>		68	4	7	

**УЧЕБНО-МЕТОДИЧЕСКОЕ ОБЕСПЕЧЕНИЕ  
ОБРАЗОВАТЕЛЬНОГО ПРОЦЕССА  
ОБЯЗАТЕЛЬНЫЕ УЧЕБНЫЕ МАТЕРИАЛЫ ДЛЯ УЧЕНИКА**

- Физика, 10 класс/ Мякишев Г.Я., Буховцев Б.Б., Сотский Н.Н. под редакцией Парфентьевой Н.А., Акционерное общество «Издательство «Просвещение»
- Физика, 11 класс/ Белага В.В., Ломаченков И.А., Панебратцев Ю.А., Акционерное общество «Издательство «Просвещение»
- Физика, 11 класс/ Генденштейн Л.Э., Булатова А.А., Корнильев И.Н., Кошкина А.В., Общество с ограниченной ответственностью «БИНОМ. Лаборатория знаний»; Акционерное общество «Издательство «Просвещение»
- Физика, 11 класс/ Изергин Э.Т., Общество с ограниченной ответственностью «Русское слово - учебник»
- Физика, 11 класс/ Касьянов В.А., Общество с ограниченной ответственностью «ДРОФА»; Акционерное общество «Издательство «Просвещение»
- Физика, 11 класс/ Мякишев Г.Л., Буховцев Б.Б., Чаругин В.М. под редакцией Парфентьевой Н.А., Акционерное общество «Издательство «Просвещение»

## ПРИЛОЖЕНИЕ 1

### КОНТРОЛЬНЫЕ ИЗМЕРИТЕЛЬНЫЕ МАТЕРИАЛЫ (ДЕМО ВЕРСИЯ)

1. Установите соответствие между параметрами движения и уравнениями, их описывающими, для равноускоренного движения без начальной скорости.

<b>А) Координата</b>	<b>1) <math>x_0 + vt</math></b>
<b>Б) Скорость</b>	<b>2) <math>v_0 + at</math></b>
	<b>3) <math>v \cdot t</math></b>
	<b>4) <math>x_0 + \frac{1}{2} at^2</math></b>
	<b>5) <math>a \cdot t</math></b>

2. В одном направлении из одной точки одновременно начали двигаться два тела: первое – с постоянной скоростью 5 м/с, второе – с постоянным ускорением 2 м/с<sup>2</sup>. Определите среднюю скорость второго тела до того момента, когда оно догонит первое тело.

3. Тело запускают вертикально вверх со скоростью 50 м/с. На какой высоте скорость тела будет равна 30 м/с и направлена вертикально вниз?

4. Как изменится дальность полёта тела, брошенного горизонтально с большой высоты, если его скорость увеличить в 2 раза?

1) уменьшится в 2 раза; 2) уменьшится в 4 раза; 3) не изменится; 4) увеличится в 2 раза; 5) увеличится в 4 раза.

#### Вариант 2

1. Установите соответствие между параметрами движения и формулами, их описывающими, для равнозамедленного движения с начальной скоростью  $v_0$ .

<b>А) Координата</b>	<b>1) <math>x_0 + vt</math></b>
<b>Б) Скорость</b>	<b>2) <math>v_0 - at</math></b>
	<b>3) <math>v \cdot t</math></b>
	<b>4) <math>x_0 + v_0 t - \frac{1}{2} at^2</math></b>
	<b>5) <math>v_0 + at</math></b>

2. Автомобиль начал движение с ускорением 0,5 м/с<sup>2</sup> в тот момент, когда мимо него проезжал трамвай со скоростью 5 м/с. Определите среднюю скорость автомобиля за промежуток времени, в течение которого автомобиль догонял трамвай.

3. Тело было брошено вертикально вверх, и через 0,8 с полёта его скорость уменьшилась в 2 раза. На какой высоте это произошло?

4. Как изменилась дальность полёта тела, брошенного горизонтально, если высота полёта увеличилась в 4 раза?

1) уменьшилась в 2 раза; 2) уменьшилась в 4 раза; 3) не изменилась; 4) увеличилась в 2 раза; 5) увеличилась в 4 раза.

1. Установите соответствие между параметрами движения и формулами, их описывающими, для равномерного движения по окружности.

<b>А) Ускорение</b>	<b>1) <math>(v - v_0)/t</math></b>
<b>Б) Скорость</b>	<b>2) <math>2\pi R/T</math></b>
	<b>3) <math>v \cdot t</math></b>
	<b>4) <math>x_0 + \frac{1}{2} at^2</math></b>
	<b>5) <math>v^2/R</math></b>

2. Два тела, находясь на расстоянии 187,5 м, одновременно начинают движение вдоль одной прямой навстречу друг другу. Начальная скорость первого тела 10 м/с, его ускорение 2 м/с<sup>2</sup>. Начальная скорость второго тела 20 м/с, его ускорение 1 м/с<sup>2</sup>. На сколько средняя скорость второго тела больше средней скорости первого тела за промежуток времени от начала движения до их встречи?
3. С балкона, находящегося на высоте 15 м, вертикально вверх бросают мяч со скоростью 10 м/с. Определите время полёта мяча и его скорость в момент падения на землю.
4. Как изменится центростремительное ускорение точек обода колеса, если период обращения колеса уменьшится в 5 раз?  
 1) уменьшится в 5 раз; 2) уменьшится в 25 раз; 3) не изменится; 4) увеличится в 5 раз; 5) увеличится в 25 раз.
1. Установите соответствие между параметрами движения и формулами, их описывающими, для равноускоренного прямолинейного движения без начальной скорости.

<b>А) Модуль перемещения</b>	<b>1) <math>x_0 + at^2/2</math></b>
<b>Б) Скорость</b>	<b>2) <math>v \cdot t</math></b>
	<b>3) <math>a \cdot t</math></b>
	<b>4) <math>x_0 + v_0t - \frac{1}{2} at^2</math></b>
	<b>5) <math>v_0 + at</math></b>

2. Два тела движутся вдоль одной прямой навстречу друг другу. Начальная скорость первого тела 2 м/с, начальная скорость второго тела 4 м/с. Ускорение первого тела 0,5 м/с<sup>2</sup>, ускорение второго тела 0,2 м/с<sup>2</sup>. Ускорения направлены противоположно начальным скоростям тел. Определите расстояние между телами в начальный момент времени, если они встретились в тот момент, когда остановились.
3. Камень брошен вертикально вниз со скоростью 4 м/с с большой высоты. Определите среднюю скорость камня за первые 3 с полёта.
4. Как изменится центростремительное ускорение точек обода колеса, если период обращения колеса увеличить в 3 раза?  
 1) уменьшится в 3 раза; 2) уменьшится в 9 раз; 3) не изменится; 4) увеличится в 3 раза; 5) увеличится в 9 раз.

## 2 контрольная работа

1. Мяч брошен вертикально вниз с небольшой высоты с некоторой начальной скоростью. Как изменяются за время полёта ускорение мяча и сила притяжения его к Земле? Для каждой величины определите соответствующий характер изменения и

запишите его номер.

1) увеличивается; 2) уменьшается; 3) не изменяется.

2. Трамвай движется со скоростью 28,8 км/ч. После того как будет выключен двигатель, какое расстояние проедет трамвай, пока его скорость уменьшится в 4 раза? Коэффициент сопротивления движению составляет 0,05.

3. На какой высоте над поверхностью Земли ускорение свободного падения равно  $5 \text{ м/с}^2$ ?

4. Шарик массой 500 г движется по выпуклой поверхности радиусом 10 м. Определите силу реакции поверхности в тот момент, когда шарик проходит точку, радиус к которой составляет с вертикалью угол  $60^\circ$ . Скорость шарика в этот момент равна 2 м/с.

1. Тело брошено с небольшой высоты под углом к горизонту вниз. Как изменяются за время полёта его скорость и сила притяжения к Земле? Для каждой величины определите соответствующий характер изменения и запишите его номер.

1) увеличивается; 2) уменьшается; 3) не изменяется.

2. Автомобиль движется по прямой горизонтальной дороге и после выключения двигателя уменьшает свою скорость от 8 до 5 м/с на пути 78 м. Определите коэффициент трения для этого случая.

3. Определите массу планеты, если её радиус в 2 раза больше земного, а сила тяжести совпадает с земной. (Ответ выразите в массах Земли.)

4. Маленький шарик, масса которого 200 г, движется равномерно со скоростью 5 м/с по вогнутой поверхности радиусом 2 м. Определите силу реакции, действующую на шарик в тот момент, когда шарик проходит точку, радиус к которой составляет с вертикалью угол  $60^\circ$ .

1. Брусок массой  $m$  соскальзывает по наклонной плоскости. Как изменятся его ускорение и сила нормального давления на плоскость при увеличении массы бруска в 2 раза? Для каждой величины определите соответствующий характер изменения и запишите его номер.

1) увеличится; 2) уменьшится; 3) не изменится.

2. На горизонтальной поверхности находится брусок массой 500 г. На брусок действует сила 2 Н, направленная вверх под углом  $60^\circ$  к горизонтали. Брусок движется прямолинейно и равномерно. Определите коэффициент трения.

3. Определите изменение силы гравитационного взаимодействия двух тел, если масса каждого тела и расстояние между телами увеличатся в 2 раза.

4. Два маленьких шарика массами 80 г и 60 г связаны нитью длиной 6 см и могут свободно без трения перемещаться по спице. Система вращается в горизонтальной плоскости, при этом шарики остаются неподвижными относительно спицы. На каких расстояниях от оси вращения располагаются шарики?

1. Брусок массой  $m$  соскальзывает по наклонной плоскости. Как изменятся ускорение бруска и сила реакции опоры при уменьшении массы бруска в 3 раза? Для каждой величины определите соответствующий характер изменения и запишите его номер.

1) увеличится; 2) уменьшится; 3) не изменится.

2. Автобус массой 10 т, отъезжая от остановки, за 2 с набирает скорость 18 км/ч. Определите силу тяги двигателя автобуса, если коэффициент сопротивления движению равен 0,02.

3. Масса планеты Марс  $6,4 \cdot 10^{20}$  т, его радиус 3400 км. Какой путь пройдёт на Марсе за 10 с отпущенное с большой высоты в свободное падение тело?
4. На краю вращающегося с постоянной скоростью диска радиусом 40 см лежит тело. Коэффициент трения между телом и диском составляет 0,4. При какой угловой скорости вращения тело может начать движение по диску?

### 3 контрольная работа

1. На горизонтальную поверхность положили деревянный шар, затем его заменили на стальной шар той же массы. Как при этом изменились сила тяжести и механическая энергия? Для каждой величины определите соответствующий характер её изменения: 1) увеличилась; 2) уменьшилась; 3) не изменилась.

Запишите выбранные цифры для каждой физической величины. Цифры в ответе могут повторяться.

2. Самолёт при посадке обладает скоростью 108 км/ч. До полной остановки он проходит 200 м. Определите коэффициент трения колёс самолёта о покрытие взлётно-посадочной полосы.
3. Тело свободно падает с высоты 20 м. На какой высоте кинетическая энергия этого тела будет равна  $1/3$  потенциальной?
4. На гладкой горизонтальной поверхности находится брусок массой 400 г. Брусок соединён с пружиной, жёсткость которой 5000 Н/м. Второй конец пружины прикреплен к вертикальной стенке. Пластилиновый шарик массой 100 г, летящий горизонтально со скоростью 1,5 м/с, попадает в брусок. Определите максимальное сжатие пружины.

1. На горизонтальную поверхность положили деревянный шар, затем его заменили на стальной шар такого же объёма. Как при этом изменились сила тяжести и механическая энергия? Для каждой величины определите соответствующий характер её изменения:

1) увеличилась; 2) уменьшилась; 3) не изменилась.

Запишите цифры выбранных вариантов для каждой физической величины. Цифры в ответе могут повторяться.

2. Тело свободно падает с высоты 20 м. На какой высоте кинетическая энергия тела будет в три раза больше потенциальной?
3. Пуля массой 2 г движется горизонтально со скоростью 400 м/с, попадает в бруствер и углубляется в него на 50 см. Определите среднюю силу сопротивления.
4. Два пластилиновых шарика одинаковой массы подвешены на нитях длиной 20 см, соприкасаясь друг с другом. Один из шариков отводят на угол  $90^\circ$  и отпускают. На какую высоту поднимутся шарики после столкновения?

1. По наклонной плоскости из состояния покоя соскальзывает деревянный брусок, затем этот брусок заменяют на другой, выполненный из того же материала, но большей массы. Как при этом изменяются механическая энергия бруска и сила трения? Для каждой величины определите соответствующий характер её изменения:

1) увеличивается; 2) уменьшается; 3) не изменяется.

Запишите цифры выбранных вариантов для каждой физической величины. Цифры в ответе могут повторяться.

2. Малое тело бросают вертикально вверх со скоростью 15 м/с. На какой высоте кинетическая энергия составит половину потенциальной энергии тела?

3. Мячик массой 100 г брошен вертикально вниз со скоростью 10 м/с с высоты 20 м. Определите среднюю силу сопротивления воздуха, если скорость мячика при соприкосновении с землёй равна 18 м/с.

4. На гладкой горизонтальной поверхности лежит брусок массой 10 кг, прикрепленный к вертикальной стене пружиной, жёсткость которой 1000 Н/м. Летящая горизонтально со скоростью 500 м/с пуля массой 10 г пробивает брусок и продолжает полёт со скоростью 400 м/с. Определите максимальное сжатие пружины.

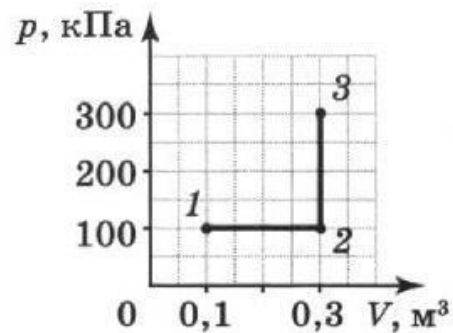
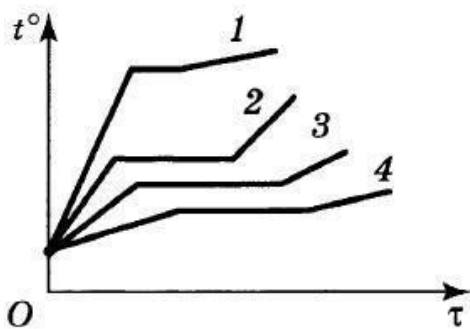
#### 4 контрольная работа

1. Одноатомный идеальный газ перевели из одного состояния в другое, при этом его абсолютная температура увеличилась в 4 раза. Как при этом изменилась средняя кинетическая энергия теплового движения молекул газа? Ответ поясните.

1) увеличилась в 4 раза; 2) увеличилась в 2 раза; 3) уменьшилась в 4 раза; 4) не изменилась.

2. На рисунке представлены зависимости температуры от времени нагревания нескольких тел. В начальный момент все тела находятся в жидком состоянии.

Определите, какое из веществ обладает большей температурой кипения.



3. На графике представлена зависимость давления  $p$  газа от объема  $V$  при переходе газа из состояния 1 в состояние 3. Определите работу, совершённую газом.

1) 10 кДж; 2) 20 кДж; 3) 30 кДж; 4) 40 кДж.

4. В баллоне ёмкостью 5 л под давлением 200 кПа и при температуре 27 °С находится разреженный гелий. При его изобарном расширении была совершена работа 200 Дж. Определите, на сколько нагрели газ.

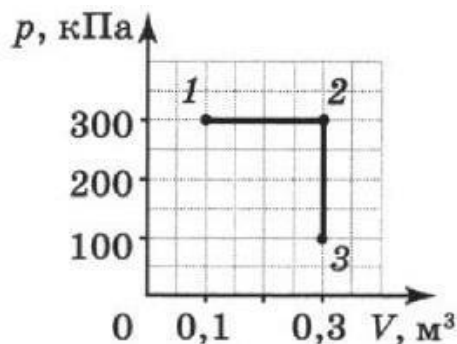
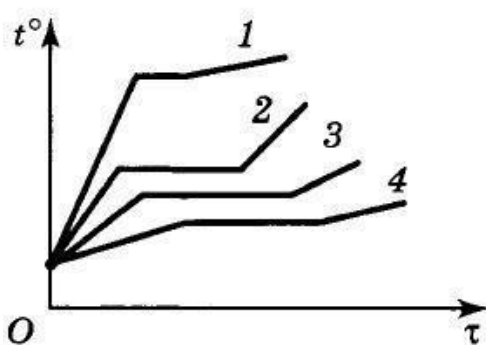
1. В результате некоторого процесса абсолютная температура идеального одноатомного газа понизилась в 1,5 раза. Как при этом изменилась средняя кинетическая энергия молекул этого газа? Ответ поясните.

1) увеличилась в 1,5 раза; 2) уменьшилась в 1,5 раза; 3) уменьшилась в 2,25 раза; 4) не изменилась.

2. На рисунке представлены зависимости температуры  $t$  от времени  $\tau$  нагревания нескольких тел. В начальный момент все тела находятся в жидком состоянии. Какое из веществ обладает наименьшей температурой



кипения?



3. На графике представлена зависимость давления  $p$  газа от объёма  $V$  при переходе газа из состояния 1 в состояние 3. Определите работу, совершённую газом.

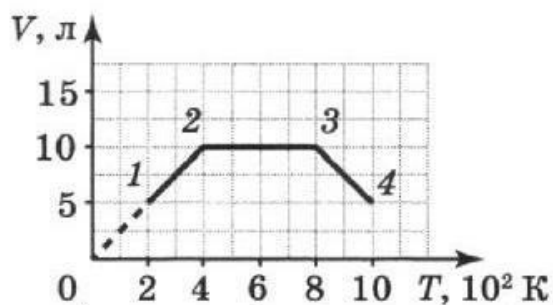
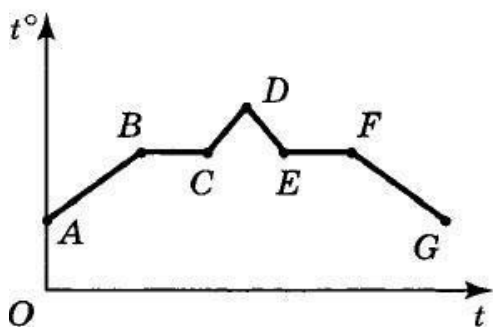
1) 30 кДж; 2) 40 кДж; 3) 50 кДж; 4) 60 кДж.

4. При изобарном расширении на 2 л идеальный газ получил количество теплоты, равное 16 Дж, при этом внутренняя энергия газа увеличилась на 8 Дж. Определите давление, при котором протекал этот процесс.

1. При постоянном давлении в некотором объёме количество молекул идеального газа увеличилось в 5 раз. Как при этом изменилась средняя кинетическая энергия молекул этого газа? Ответ поясните.

1) увеличилась в 5 раз; 2) уменьшилась в 5 раз; 3) уменьшилась в 2,25 раза; 4) не изменилась.

2. На рисунке представлен график зависимости температуры  $t^\circ$  тела от времени  $t$  нагревания. В начальный момент времени тело находилось в жидком состоянии. Какой участок графика соответствует процессу кипения? Ответ поясните.



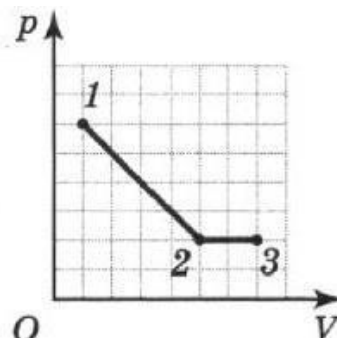
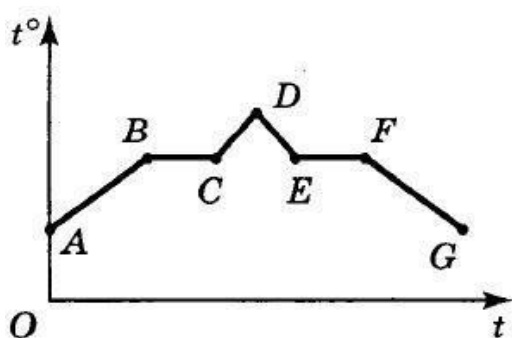
3. На рисунке представлен график зависимости объёма  $V$  от абсолютной температуры  $T$  для идеального газа при переходе газа из состояния 1 в состояние 4. Определите, на каком участке работа газа равна 0. Ответ поясните.

4. Идеальному одноатомному газу при изобарном процессе было передано количество теплоты, равное 200 Дж. Определите давление газа, если изменение объёма в ходе процесса составило 2 л.

1. В сосуде некоторого объёма количество частиц идеального газа уменьшилось в 4 раза, а абсолютная температура при этом повысилась в 4 раза. Как при этом изменилось давление газа? Ответ поясните.

1) увеличилось в 4 раза; 2) увеличилось в 8 раз; 3) уменьшилось в 4 раза; 4) не изменилось.

2. На рисунке представлен график зависимости температуры  $t^\circ$  тела от времени  $t$  нагревания. В начальный момент времени вещество находилось в жидком состоянии. Какой участок графика соответствует процессу конденсации? Ответ поясните.



3. На рисунке представлена зависимость давления  $p$  от объема  $V$  для идеального газа при переходе газа из состояния 1 в состояние 3. Определите отношение работ газа на участках 1–2 и 2–3.

4. На нагревание газа при постоянном давлении 100 кПа потребовалось количество теплоты, равное 700 Дж, при этом объем газа изменился от 1 до 2 л. Определите конечное значение внутренней энергии газа, если начальное значение было равно 400 Дж.

### 5 контрольная работа

1. Два одинаковых шарика обладают зарядами  $-8$  нКл и  $4$  нКл. Шарики были приведены в соприкосновение и затем разведены на прежние места. Как изменилась сила их взаимодействия?

1) увеличилась в 2 раза; 2) увеличилась в 8 раз; 3) уменьшилась в 4 раза; 4) уменьшилась в 8 раз.

2. Разность потенциалов между двумя протяжёнными горизонтальными пластинами 500 В. Расстояние между пластинами 20 см. Между пластинами в равновесии находится пылинка массой  $10^{-3}$  г. Определите модуль заряда этой пылинки.

3. Плоский конденсатор ёмкостью 200 мкФ подключили к источнику тока с ЭДС 500 В, а затем отключили. На сколько изменится энергия конденсатора, если его обкладки развести на расстояние, большее первоначального в 2 раза?

4. К источнику тока подключили резистор сопротивлением 4 Ом, при этом сила тока в цепи составила 2 А. Когда к тому же источнику подключили резистор сопротивлением 8 Ом, сила тока в цепи стала равна 1,2 А. Определите ток короткого замыкания.

1. Заряженный маленький шарик приводят на короткое время в соприкосновение с таким же незаряженным шариком. Определите первоначальный заряд первого шарика, если после соприкосновения сила взаимодействия между шариками на расстоянии 30 см равна 1 мН.

2. Два точечных разноимённых заряда расположены на расстоянии 6 см друг от друга в вакууме. Определите потенциал и напряжённость электрического поля в точке, находящейся на середине расстояния между зарядами, если модули обоих зарядов равны 2 нКл.

3. Плоский воздушный конденсатор состоит из двух пластин. Как изменится ёмкость этого конденсатора, если расстояние между его пластинами уменьшить в 2 раза, а пространство между пластинами заполнить диэлектриком с диэлектрической проницаемостью 3?

1) увеличится в 4 раза; 2) уменьшится в 4 раза; 3) увеличится в 6 раз; 4) уменьшится в 6 раз.

4. Два резистора сопротивлениями 1 Ом и 4 Ом соединили параллельно и подключили к источнику тока с ЭДС 20 В. Определите внутреннее сопротивление источника, если сила тока в первом резисторе равна 4 А.

1. Два одинаковых маленьких шарика расположены на расстоянии 1 м друг от друга. Заряд первого шарика по модулю в 4 раза больше заряда второго. Шарик привели в соприкосновение и затем развели на расстояние, при котором сила взаимодействия шариков равнялась первоначальной. Определите это расстояние.

2. Два точечных заряда 8,89 нКл и  $-12$  нКл расположены на расстоянии 5 см друг от друга. Определите напряжённость и потенциал электрического поля в точке, находящейся на расстоянии 4 см от первого заряда и на расстоянии 3 см от второго заряда.

3. Расстояние между пластинами заряженного плоского конденсатора равно 1 мм. Напряжённость электрического поля внутри конденсатора составляет 1000 В/м. Определите энергию конденсатора, если его ёмкость равна 4 мкФ.

4. При силе тока 3 А на нагрузке полной цепи выделяется мощность 18 Вт, а при силе тока 1 А – мощность 10 Вт. Определите ЭДС и внутреннее сопротивление источника тока.

1. Два точечных заряда  $q_0$  и  $4q_0$  находятся на некотором расстоянии друг от друга. Заряды привели в соприкосновение, а затем развели в стороны. Во сколько раз должно измениться расстояние между зарядами, чтобы сила их взаимодействия равнялась прежней?

2. Два точечных заряда 4 нКл и 1 нКл расположены на расстоянии 5 м. Определите напряжённость и потенциал электрического поля в точке, которая находится на расстоянии 2 м от первого заряда и на расстоянии 3 м от второго заряда.

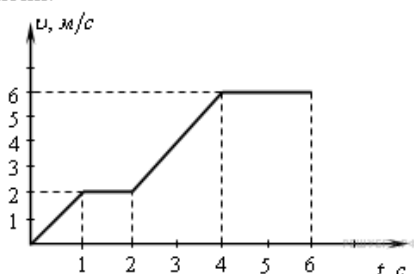
3. Конденсатор зарядили до разности потенциалов 600 В и отключили от источника напряжения. Чему будет равна разность потенциалов между пластинами этого конденсатора, если расстояние между ними уменьшить вдвое?

4. К источнику тока подключили нагревательный элемент, сопротивление которого 4 Ом. Когда к тому же источнику подключили электроприбор сопротивлением 9 Ом, выяснилось, что количество теплоты во внешней цепи выделяется такое же. Определите внутреннее сопротивление источника тока.

# 1 контрольная работа

## Вариант 1

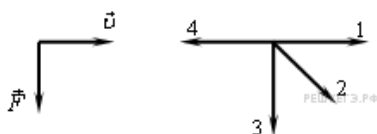
**А 1.** На рисунке представлен график зависимости модуля скорости тела от времени.



Какой путь пройден телом за вторую секунду?

- 1) 0 м 2) 1 м 3) 2 м 4) 3 м

**А 2.** На левом рисунке представлены вектор скорости тела и вектор равнодействующей всех сил, действующих на тело.



Какой из четырех векторов на правом рисунке указывает направление вектора ускорения этого тела в инерциальной системе отсчета?

- 1) 3 2) 2 3) 1 4) 4

**А 3.** Камень массой 1 кг брошен вертикально вверх. В начальный момент его энергия равна 200 Дж. На какую максимальную высоту поднимется камень? Сопротивлением воздуха пренебречь.

- 1) 10 м 2) 20 м 3) 200 м 4) 2 м

**А 4.** Какое из утверждений правильно?

- А. Диффузия наблюдается только в газах и жидкостях.  
 В. Диффузия наблюдается только в твердых телах.  
 С. Диффузия наблюдается в газах, жидкостях и твердых телах.  
 1) А 2) В 3) С 4) ни А, ни В, ни С

**А 5.** Идеальный газ получил количество теплоты 300 Дж и совершил работу 100 Дж. При этом внутренняя энергия газа

- 1) увеличилась на 400 Дж  
 2) увеличилась на 200 Дж  
 3) уменьшилась на 200 Дж  
 4) уменьшилась на 400 Дж

**А 6.** Расстояние между двумя точечными электрическими зарядами уменьшили в 2 раза, и один из зарядов уменьшили в 2 раза. Сила взаимодействия между зарядами

- 1) увеличилась в 2 раза  
 2) увеличилась в 4 раза  
 3) увеличилась в 8 раз  
 4) не изменилась

**А 7.** Сила тока в проводнике постоянна и равна 0,5 А. Заряд 60 Кл пройдет по проводнику за время

- 1) 2 с 2) 30 с 3) 1 мин 4) 2 мин

**В 1.** В закрытом сосуде находится идеальный газ. Как при охлаждении сосуда с газом изменятся величины: давление газа, его плотность и внутренняя энергия?

Для каждой величины определите соответствующий характер изменения:

- 1) увеличилась;  
 2) уменьшилась;  
 3) не изменилась.

Запишите в таблицу выбранные цифры для каждой физической величины.

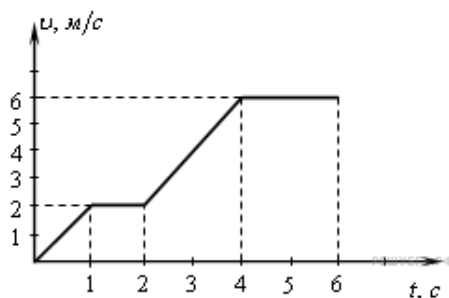
Цифры в ответе могут повторяться.

Давление газа	Плотность газа	Внутренняя энергия газа
?	?	?

**С 1.** Два свинцовых шара массами  $m_1 = 100$  г и  $m_2 = 200$  г движутся навстречу друг другу со скоростями  $v_1 = 4$  м/с и  $v_2 = 5$  м/с. Какую кинетическую энергию будет иметь второй шар после их неупругого соударения?

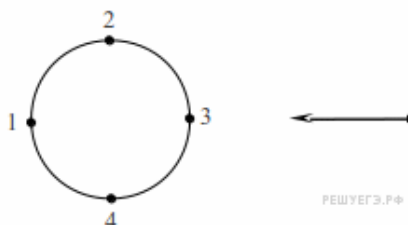
## Вариант 2

**А 1.** По графику зависимости модуля скорости тела от времени, представленного на рисунке, определите путь, пройденный телом от момента времени 0 с до момента времени 2 с.



- 1) 0 м 2) 3 м 3) 2 м 4) 1 м

**А 2.** Материальная точка движется по окружности с постоянной по модулю скоростью по часовой стрелке. В какой точке траектории ускорение тела направлено по стрелке?



- 1) 1 2) 2 3) 3 4) 4

**А 3.** Тележка движется со скоростью 3 м/с. Её кинетическая энергия равна 27 Дж. Какова масса тележки?

- 1) 6 кг 2) 9 кг 3) 18 кг 4) 81 кг

**А 4.** Броуновским движением называется

- 1) упорядоченное движение слоев жидкости (или газа)
- 2) упорядоченное движение твердых частиц вещества, взвешенных в жидкости (или газе)
- 3) конвекционное движение слоев жидкости при ее нагревании
- 4) хаотическое движение твердых частиц вещества, взвешенных в жидкости (или газе)

**А 5.** В процессе эксперимента газ отдал окружающей среде количество теплоты, равное 3 кДж. При этом внутренняя энергия газа уменьшилась на 13 кДж. Следовательно, газ расширился, совершив работу

- 1) 3 кДж 2) 10 кДж 3) 13 кДж 4) 16 кДж

**А 6.** Как изменится сила кулоновского взаимодействия двух точечных заряженных тел при увеличении расстояния между ними в 3 раза и увеличении заряда одного из тел в 3 раза?

- 1) увеличится в 27 раз
- 2) увеличится в 9 раз
- 3) не изменится
- 4) уменьшится в 3 раза

**А 7.** Сила тока в проводнике постоянна и равна 0,5 А. За 20 минут по проводнику пройдет заряд

- 1) 600 Кл 2) 40 Кл 3) 100 Кл 4) 10 Кл

**В 1.** В сосуде под поршнем находится идеальный газ. Если при нагревании газа его давление остается постоянным, то как изменятся величины: объем газа, его плотность и внутренняя энергия?

Для каждой величины определите соответствующий характер изменения:

- 1) увеличилась;
- 2) уменьшилась;
- 3) не изменилась.

Запишите в таблицу выбранные цифры для каждой физической величины.

Цифры в ответе могут повторяться.

Объем газа	Плотность газа	Внутренняя энергия газа
?	?	?

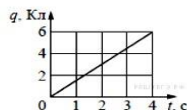
**С 1.** Шары массами 6 и 4 кг, движущиеся навстречу друг другу со скоростью 2 м/с каждый относительно Земли, соударяются, после чего движутся вместе. Определите, какое количество теплоты выделится в результате соударения.

## 2 контрольная работа

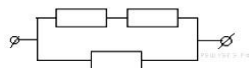
### Часть 1

При выполнении заданий части 1 запишите номер выполняемого задания, а затем номер выбранного ответа или ответ. Единицы физических величин писать не нужно.


1. По проводнику течёт постоянный электрический ток. Величина заряда, проходящего через проводник, возрастает с течением времени согласно графику. Чему равна сила тока в проводнике?



2. На участке цепи, изображенном на рисунке, сопротивление каждого из резисторов равно 21 Ом. Рассчитайте общее сопротивление электрической цепи.



3. На рисунке изображен проволочный виток, по которому течёт электрический ток в направлении, указанном стрелкой. Виток расположен в плоскости чертежа. В центре витка вектор индукции магнитного поля тока направлен



- 1) от нас перпендикулярно плоскости чертежа
- 2) к нам перпендикулярно плоскости чертежа
- 3) влево
- 4) вправо

4. Прямолинейный проводник длиной 0,2 м находится в однородном магнитном поле с индукцией 4 Тл и расположен под углом  $30^\circ$  к вектору индукции. Чему равен модуль силы, действующей на проводник со стороны магнитного поля при силе тока в нем 2 А?

5. Во сколько раз надо уменьшить индуктивность катушки, чтобы при неизменном значении силы тока в ней энергия магнитного поля катушки уменьшилась в 4 раза?

- 1) в 2 раза
- 2) в 4 раза
- 3) в 8 раз
- 4) в 16 раз

6. Чтобы увеличить период электромагнитных колебаний в идеальном колебательном контуре в 2 раза, достаточно ёмкость конденсатора в контуре

- 1) увеличить в 2 раза
- 2) уменьшить в 2 раза
- 3) увеличить в 4 раза
- 4) уменьшить в 4 раза

7. Частица массой  $m$ , несущая заряд  $q$ , движется в однородном магнитном поле с индукцией  $B$  по окружности радиусом  $R$  со скоростью  $V$ . Как изменятся радиус траектории, период обращения и кинетическая энергия частицы при увеличении скорости её движения?

Для каждой величины определите соответствующий характер изменения:

- 1) увеличится;
- 2) уменьшится;
- 3) не изменится.

Запишите в таблицу выбранные цифры для каждой физической величины. Цифры в ответе могут повторяться.

Радиус траектории	Период обращения	Кинетическая энергия
?	?	?

8. Установите соответствие между формулами для вычисления физических величин в схемах постоянного тока и названиями этих величин.

В формулах использованы обозначения:  $I$  — сила тока;  $U$  — напряжение;  $R$  — сопротивление резистора. К каждой позиции первого столбца подберите соответствующую позицию второго и запишите в таблицу выбранные цифры под соответствующими буквами.

ФОРМУЛЫ

А)  $\frac{U}{I}$

Б)  $\frac{U^2}{R}$

ФИЗИЧЕСКИЕ ВЕЛИЧИНЫ

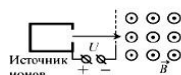
- 1) заряд, протекший через резистор
- 2) сила тока через резистор
- 3) мощность тока, выделяющаяся на резисторе
- 4) сопротивление резистора

А	Б
?	?

### Часть 2

При выполнении заданий части 2 запишите номер выполняемого задания, а затем полное обоснованное решение и ответ.

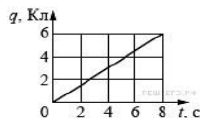
9. Ион ускоряется в электрическом поле с разностью потенциалов  $U=10$  кВ и попадает в однородное магнитное поле перпендикулярно к вектору его индукции  $B$  (см. рисунок). Радиус траектории движения иона в магнитном поле  $R=0,2$  м, модуль индукции магнитного поля равен  $0,5$  Тл. Определите отношение массы иона к его электрическому заряду  $\frac{m}{q}$ . Кинетической энергией иона при его вылете из источника пренебрегите.



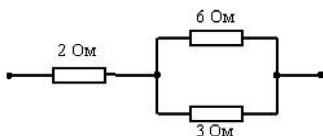
### Часть 1

При выполнении заданий части 1 запишите номер выполняемого задания, а затем номер выбранного ответа или ответ. Единицы физических величин писать не нужно.

1. По проводнику течёт постоянный электрический ток. Величина заряда, проходящего через проводник, возрастает с течением времени согласно графику. Чему равна сила тока в проводнике?



2. Рассчитайте общее сопротивление электрической цепи, представленной на рисунке.



3. На рисунке изображен проволочный виток, по которому течет электрический ток в направлении, указанном стрелкой. Виток расположен в плоскости чертежа. В центре витка вектор индукции магнитного поля тока направлен



- 1) от нас перпендикулярно плоскости чертежа
- 2) к нам перпендикулярно плоскости чертежа
- 3) влево
- 4) вправо

4. Прямой проводник длиной  $L$  с током  $I$  помещен в однородное магнитное поле так, что направление вектора магнитной индукции  $B$  перпендикулярно проводнику. Если силу тока уменьшить в 2 раза, а индукцию магнитного поля увеличить в 4 раза, то действующая на проводник сила Ампера

- 1) увеличится в 2 раза
- 2) уменьшится в 4 раза
- 3) не изменится
- 4) уменьшится в 2 раза

5. По катушке индуктивности  $4 \text{ мГн}$  протекает постоянный ток  $3 \text{ А}$ . Чему равна энергия магнитного поля катушки?

6. Чтобы увеличить частоту электромагнитных колебаний в идеальном колебательном контуре в 2 раза, достаточно индуктивность катушки в контуре

- 1) увеличить в 2 раза
- 2) уменьшить в 2 раза
- 3) увеличить в 4 раза
- 4) уменьшить в 4 раза

7. Частица массой  $m$ , несущая заряд  $q$ , движется в однородном магнитном поле с индукцией  $B$  по окружности радиусом  $R$  со скоростью  $V$ . Как изменится радиус траектории, период обращения и кинетическая энергия частицы при уменьшении скорости ее движения?

Для каждой величины определите соответствующий характер изменения:

- 1) увеличится;
- 2) уменьшится;
- 3) не изменится.

Запишите в таблицу выбранные цифры для каждой физической величины. Цифры в ответе могут повторяться.

Радиус траектории	Период обращения	Кинетическая энергия
?	?	?

8. Установите соответствие между формулами для вычисления физических величин в схемах постоянного тока и названиями этих величин.

В формулах использованы обозначения:  $I$  — сила тока;  $U$  — напряжение;  $R$  — сопротивление резистора. К каждой позиции первого столбца подберите соответствующую позицию второго и запишите в таблицу выбранные цифры под соответствующими буквами.

ФОРМУЛЫ

А)  $\frac{U}{R}$

Б)  $I^2 R$

ФИЗИЧЕСКИЕ ВЕЛИЧИНЫ

1) мощность тока, выделяющаяся на резисторе

2) напряжение на резисторе

3) сила тока через резистор

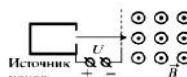
4) заряд, протекший через резистор

А	Б
?	?

### Часть 2

При выполнении заданий части 2 запишите номер выполняемого задания, а затем полное обоснованное решение и ответ.

9. Ион ускоряется в электрическом поле с разностью потенциалов  $U$  и попадает в однородное магнитное поле перпендикулярно к вектору его индукции  $\vec{B}$  (см. рисунок). Радиус траектории движения иона в магнитном поле  $B=0,2 \text{ Тл}$ , индукция магнитного поля  $B=0,5 \text{ Тл}$ , отношение электрического заряда иона к его массе  $\frac{q}{m}=5 \cdot 10^6 \text{ Кл/кг}$ . Определите численное значение  $U$ . Кинетической энергией иона при его вылете из источника пренебрегите.

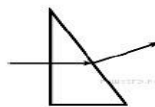


### 3 контрольная работа

#### Часть 1

При выполнении заданий части 1 запишите номер выполняемого задания, а затем номер выбранного ответа или ответ. Единицы физических величин писать не нужно.

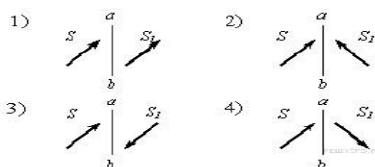
1. Ученик выполнил задание: «Нарисовать ход луча света, падающего из воздуха перпендикулярно поверхности стеклянной призмы треугольного сечения» (см. рисунок). При построении он



- 1) ошибся при изображении хода луча только при переходе из воздуха в стекло
- 2) правильно изобразил ход луча на обеих границах раздела сред
- 3) ошибся при изображении хода луча на обеих границах раздела сред
- 4) ошибся при изображении хода луча только при переходе из стекла в воздух

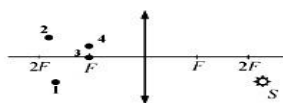
2. Предмет  $S$  отражается в плоском зеркале  $ab$ . Изображение предмета  $S_1$  верно показано на рисунке

- 1) 1
- 2) 2
- 3) 3
- 4) 4



3. Изображением точки  $S$  (см. рисунок), даваемым тонкой собирающей линзой с фокусным расстоянием  $F$ , является точка

- 1) 1
- 2) 2
- 3) 3
- 4) 4



4. После прохождения белого света через красное стекло свет становится красным. Это происходит из-за того, что световые волны других цветов в основном

- 1) отражаются
- 2) рассеиваются
- 3) поглощаются
- 4) преломляются

5. Период полураспада ядер радиоактивного изотопа висмута 19 мин. Через какое время распадется 75% ядер висмута в исследуемом образце? Ответ запишите в минутах.

6. Длина волны рентгеновского излучения равна  $10^{-10}$  м. Во сколько раз энергия одного фотона этого излучения превосходит энергию фотона видимого света длиной волны  $4 \cdot 10^{-7}$  м?

7. Пучок света переходит из стекла в воздух. Частота световой волны равна  $\nu$ , скорость света в стекле равна  $v$ , показатель преломления стекла относительно воздуха равен  $n$ . Установите соответствие между физическими величинами и формулами, по которым их можно рассчитать.

К каждой позиции первого столбца подберите соответствующую позицию второго и запишите в таблицу выбранные цифры под соответствующими буквами.

ФИЗИЧЕСКИЕ ВЕЛИЧИНЫ	ФОРМУЛЫ
А) Длина волны света в стекле	1) $\frac{v}{n\nu}$
Б) Длина волны света в воздухе	2) $\frac{v}{n\nu}$
	3) $\frac{\nu}{v}$
	4) $\frac{v}{\nu}$

А	Б
?	?

8. Установите соответствие между названиями постулатов и их формулировками. К каждой позиции первого столбца подберите нужную позицию второго и запишите в таблицу выбранные цифры под соответствующими буквами.

#### ПОСТУЛАТЫ БОРА

- А) первый
- Б) второй

#### ИХ ФОРМУЛИРОВКИ

- 1) переходя из одного состояния в другое, атом излучает (поглощает) половину разности энергий в начальном и конечном состояниях
- 2) переходя из одного состояния в другое, атом излучает (поглощает) квант энергии, равный разности энергий в начальном и конечном состояниях
- 3) атом может находиться только в одном из двух возможных состояний
- 4) атом может находиться только в одном из состояний с определенным значением энергии

А	Б
?	?

#### Часть 2

При выполнении заданий части 2 запишите номер выполняемого задания, а затем полное обоснованное решение и ответ.

9. Красная граница фотоэффекта для вещества фотокатода  $\lambda_0 = 290$  нм. При облучении катода светом с длиной волны  $\lambda$  фототок прекращается при напряжении между анодом и катодом  $U = 1,5$  В. Определите длину волны  $\lambda$ .

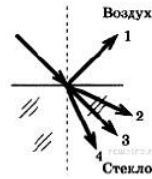


**Часть 1**

При выполнении заданий части 1 запишите номер выполняемого задания, а затем номер выбранного ответа или ответ. Единицы физических величин писать не нужно.

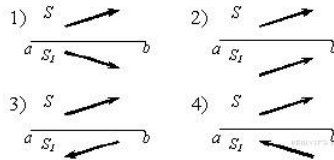
1. Световой луч падает на границу раздела двух сред: воздух — стекло. Какое направление — 1, 2, 3, или 4 — правильно указывает ход преломленного луча?

- 1) 1
- 2) 2
- 3) 3
- 4) 4



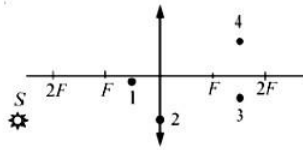
2. Предмет  $S$  отражается в плоском зеркале  $ab$ . Изображение предмета  $S_1$  верно показано на рисунке

- 1) 1
- 2) 2
- 3) 3
- 4) 4



3. Изображением точки  $S$ , которое даёт тонкая собирающая линза с фокусным расстоянием  $F$  (см. рисунок), является точка

- 1) 1
- 2) 2
- 3) 3
- 4) 4



4. Сложение в пространстве когерентных волн, при котором образуется постоянное во времени пространственное распределение амплитуд результирующих колебаний, называется

- 1) дисперсией
- 2) поляризацией
- 3) интерференцией
- 4) преломление

5. Период полураспада изотопа натрия  $Na$  равен 2,6 года. Если изначально было 104 г этого изотопа, то сколько примерно его будет через 5,2 года? Ответ запишите в граммах.

6. Модуль импульса фотона в первом пучке света в 2 раза больше, чем во втором пучке. Чему равно отношение частоты света первого пучка к частоте второго?

7. Пучок света переходит из воды в воздух. Частота световой волны равна  $\nu$ , скорость света в воздухе равна  $c$ , показатель преломления воды относительно воздуха равен  $n$ . К каждой позиции первого столбца подберите соответствующую позицию второго и запишите в таблицу выбранные цифры под соответствующими буквами.

ФИЗИЧЕСКИЕ ВЕЛИЧИНЫ	ФОРМУЛЫ	
А) Длина волны света в воздухе	$\frac{c}{n\nu}$	3) $\frac{nc}{\nu}$
Б) Длина волны света в воде	1) $\frac{n\nu}{c}$	4) $\frac{c}{\nu}$
	2) $\frac{\nu}{c}$	

А	Б
?	?

8. Установите соответствие между описанием приборов (устройств) и их названиями. К каждому элементу левого столбца подберите соответствующий элемент из правого и внесите в строку ответов выбранные цифры под соответствующими буквами.

**ПРИБОР**

- А) Устройство, в котором осуществляется управляемая ядерная реакция.
- Б) Устройство для измерения доз ионизирующих излучений и их мощностей.

**НАЗВАНИЕ ПРИБОРА**

- 1) фотоэлемент
- 2) ядерный реактор
- 3) лазер
- 4) дозиметр

А	Б
?	?

**Часть 2**

При выполнении заданий части 2 запишите номер выполняемого задания, а затем полное обоснованное решение и ответ.

9. Красная граница фотоэффекта для вещества фотокатода  $\lambda_0 = 290$  нм. Фотокатод облучают светом с длиной волны  $\lambda = 220$  нм. При каком напряжении между анодом и катодом фототок прекращается?