

МИНИСТЕРСТВО ПРОСВЕЩЕНИЯ РОССИЙСКОЙ ФЕДЕРАЦИИ
АДМИНИСТРАЦИЯ ГОРОДА ТОМСКА
ДЕПАРТАМЕНТ ОБРАЗОВАНИЯ
МУНИЦИПАЛЬНО АВТОНОМНОЕ ОБЩЕОБРАЗОВАТЕЛЬНОЕ УЧРЕЖДЕНИЕ
СРЕДНЯЯ ОБЩЕОБРАЗОВАТЕЛЬНАЯ ШКОЛА № 65 г. Томск

СОГЛАСОВАНО

Методическом совете
школы

пр. № 4 от 28.06.24

УТВЕРЖДЕНО

Директор школы

О.В. Малышева

пр. № 258 от 28.06.24

РАБОЧАЯ ПРОГРАММА

учебного предмета «Геометрия. Углубленный уровень»

для обучающихся 10 – 11 классов

ПОЯСНИТЕЛЬНАЯ ЗАПИСКА

Геометрия является одним из базовых курсов на уровне среднего общего образования, так как обеспечивает возможность изучения дисциплин естественно-научной направленности и предметов гуманитарного цикла. Поскольку логическое мышление, формируемое при изучении обучающимися понятийных основ геометрии, при доказательстве теорем и построении цепочки логических утверждений при решении геометрических задач, умение выдвигать и опровергать гипотезы непосредственно используются при решении задач естественно-научного цикла, в частности физических задач.

Цель освоения программы учебного курса «Геометрия» на углублённом уровне – развитие индивидуальных способностей обучающихся при изучении геометрии, как составляющей предметной области «Математика и информатика» через обеспечение возможности приобретения и использования более глубоких геометрических знаний и действий, специфичных геометрии, и необходимых для успешного профессионального образования, связанного с использованием математики.

Приоритетными задачами курса геометрии на углублённом уровне, расширяющими и усиливающими курс базового уровня, являются:

расширение представления о геометрии как части мировой культуры и формирование осознания взаимосвязи геометрии с окружающим миром;

формирование представления о пространственных фигурах как о важнейших математических моделях, позволяющих описывать и изучать разные явления окружающего мира, знание понятийного аппарата по разделу «Стереометрия» учебного курса геометрии;

формирование умения владеть основными понятиями о пространственных фигурах и их основными свойствами, знание теорем, формул и умение их применять, умения доказывать теоремы и находить нестандартные способы решения задач;

формирование умения распознавать на чертежах, моделях и в реальном мире многогранники и тела вращения, конструировать геометрические модели;

формирование понимания возможности аксиоматического построения математических теорий, формирование понимания роли аксиоматики при проведении рассуждений;

формирование умения владеть методами доказательств и алгоритмов решения, умения их применять, проводить доказательные рассуждения в ходе решения стереометрических задач и задач с практическим содержанием, формирование представления о необходимости доказательств при

обосновании математических утверждений и роли аксиоматики в проведении дедуктивных рассуждений;

развитие и совершенствование интеллектуальных и творческих способностей обучающихся, познавательной активности, исследовательских умений, критичности мышления, интереса к изучению геометрии;

формирование функциональной грамотности, релевантной геометрии: умения распознавать проявления геометрических понятий, объектов и закономерностей в реальных жизненных ситуациях и при изучении других учебных предметов, проявления зависимостей и закономерностей, моделирования реальных ситуаций, исследования построенных моделей, интерпретации полученных результатов.

Основными содержательными линиями учебного курса «Геометрия» в 10–11 классах являются: «Прямые и плоскости в пространстве», «Многогранники», «Тела вращения», «Векторы и координаты в пространстве», «Движения в пространстве».

Сформулированное во ФГОС СОО требование «уметь оперировать понятиями», релевантными геометрии на углублённом уровне обучения в 10–11 классах, относится ко всем содержательным линиям учебного курса, а формирование логических умений распределяется не только по содержательным линиям, но и по годам обучения. Содержание образования, соответствующее предметным результатам освоения Федеральной рабочей программы, распределённым по годам обучения, структурировано таким образом, чтобы ко всем основным, принципиальным вопросам обучающиеся обращались неоднократно. Это позволяет организовать овладение геометрическими понятиями и навыками последовательно и поступательно, с соблюдением принципа преемственности, а новые знания включать в общую систему геометрических представлений обучающихся, расширяя и углубляя её, образуя прочные множественные связи.

Переход к изучению геометрии на углублённом уровне позволяет:

создать условия для дифференциации обучения, построения индивидуальных образовательных программ, обеспечить углублённое изучение геометрии как составляющей учебного предмета «Математика»;

подготовить обучающихся к продолжению изучения математики с учётом выбора будущей профессии, обеспечивая преемственность между общим и профессиональным образованием.

На изучение учебного курса «Геометрия» на углублённом уровне отводится 204 часа: в 10 классе – 102 часа (3 часа в неделю), в 11 классе – 102 часа (3 часа в неделю).

СОДЕРЖАНИЕ ОБУЧЕНИЯ

10 КЛАСС

Прямые и плоскости в пространстве

Основные понятия стереометрии. Точка, прямая, плоскость, пространство. Понятие об аксиоматическом построении стереометрии: аксиомы стереометрии и следствия из них.

Взаимное расположение прямых в пространстве: пересекающиеся, параллельные и скрещивающиеся прямые. Признаки скрещивающихся прямых. Параллельность прямых и плоскостей в пространстве: параллельные прямые в пространстве, параллельность трёх прямых, параллельность прямой и плоскости. Параллельное и центральное проектирование, изображение фигур. Основные свойства параллельного проектирования. Изображение фигур в параллельной проекции. Углы с сонаправленными сторонами, угол между прямыми в пространстве. Параллельность плоскостей: параллельные плоскости, свойства параллельных плоскостей. Простейшие пространственные фигуры на плоскости: тетраэдр, параллелепипед, построение сечений.

Перпендикулярность прямой и плоскости: перпендикулярные прямые в пространстве, прямые параллельные и перпендикулярные к плоскости, признак перпендикулярности прямой и плоскости, теорема о прямой перпендикулярной плоскости. Ортогональное проектирование. Перпендикуляр и наклонные: расстояние от точки до плоскости, расстояние от прямой до плоскости, проекция фигуры на плоскость. Перпендикулярность плоскостей: признак перпендикулярности двух плоскостей. Теорема о трёх перпендикулярах.

Углы в пространстве: угол между прямой и плоскостью, двугранный угол, линейный угол двугранного угла. Трёхгранный и многогранные углы. Свойства плоских углов многогранного угла. Свойства плоских и двугранных углов трёхгранного угла. Теоремы косинусов и синусов для трёхгранного угла.

Многогранники

Виды многогранников, развёртка многогранника. Призма: n -угольная призма, прямая и наклонная призмы, боковая и полная поверхность призмы. Параллелепипед, прямоугольный параллелепипед и его свойства. Кратчайшие пути на поверхности многогранника. Теорема Эйлера. Пространственная теорема Пифагора. Пирамида: n -угольная пирамида, правильная и усечённая пирамиды. Свойства рёбер и боковых граней правильной пирамиды. Правильные многогранники: правильная призма и

правильная пирамида, правильная треугольная пирамида и правильный тетраэдр, куб. Представление о правильных многогранниках: октаэдр, додекаэдр и икосаэдр.

Вычисление элементов многогранников: рёбра, диагонали, углы. Площадь боковой поверхности и полной поверхности прямой призмы, площадь оснований, теорема о боковой поверхности прямой призмы. Площадь боковой поверхности и поверхности правильной пирамиды, теорема о площади усечённой пирамиды.

Симметрия в пространстве. Элементы симметрии правильных многогранников. Симметрия в правильном многограннике: симметрия параллелепипеда, симметрия правильных призм, симметрия правильной пирамиды.

Векторы и координаты в пространстве

Понятия: вектор в пространстве, нулевой вектор, длина ненулевого вектора, векторы коллинеарные, сонаправленные и противоположно направленные векторы. Равенство векторов. Действия с векторами: сложение и вычитание векторов, сумма нескольких векторов, умножение вектора на число. Свойства сложения векторов. Свойства умножения вектора на число. Понятие компланарные векторы. Признак компланарности трёх векторов. Правило параллелепипеда. Теорема о разложении вектора по трём некомпланарным векторам. Прямоугольная система координат в пространстве. Координаты вектора. Связь между координатами вектора и координатами точек. Угол между векторами. Скалярное произведение векторов.

11 КЛАСС

Тела вращения

Понятия: цилиндрическая поверхность, коническая поверхность, сферическая поверхность, образующие поверхностей. Тела вращения: цилиндр, конус, усечённый конус, сфера, шар. Взаимное расположение сферы и плоскости, касательная плоскость к сфере. Изображение тел вращения на плоскости. Развёртка цилиндра и конуса. Симметрия сферы и шара.

Объём. Основные свойства объёмов тел. Теорема об объёме прямоугольного параллелепипеда и следствия из неё. Объём прямой и наклонной призмы, цилиндра, пирамиды и конуса. Объём шара и шарового сегмента.

Комбинации тел вращения и многогранников. Призма, вписанная в цилиндр, описанная около цилиндра. Пересечение сферы и шара с плоскостью. Касание шара и сферы плоскостью. Понятие многогранника,

описанного около сферы, сферы, вписанной в многогранник или тело вращения.

Площадь поверхности цилиндра, конуса, площадь сферы и её частей. Подобие в пространстве. Отношение объёмов, площадей поверхностей подобных фигур. Преобразование подобия, гомотетия. Решение задач на плоскости с использованием стереометрических методов.

Построение сечений многогранников и тел вращения: сечения цилиндра (параллельно и перпендикулярно оси), сечения конуса (параллельные основанию и проходящие через вершину), сечения шара, методы построения сечений: метод следов, метод внутреннего проектирования, метод переноса секущей плоскости.

Векторы и координаты в пространстве

Векторы в пространстве. Операции над векторами. Векторное умножение векторов. Свойства векторного умножения. Прямоугольная система координат в пространстве. Координаты вектора. Разложение вектора по базису. Координатно-векторный метод при решении геометрических задач.

Движения в пространстве

Движения пространства. Отображения. Движения и равенство фигур. Общие свойства движений. Виды движений: параллельный перенос, центральная симметрия, зеркальная симметрия, поворот вокруг прямой. Преобразования подобия. Прямая и сфера Эйлера.

ПЛАНИРУЕМЫЕ РЕЗУЛЬТАТЫ ОСВОЕНИЯ УЧЕБНОГО КУРСА «ГЕОМЕТРИЯ» (УГЛУБЛЕННЫЙ УРОВЕНЬ) НА УРОВНЕ СРЕДНЕГО ОБЩЕГО ОБРАЗОВАНИЯ

ЛИЧНОСТНЫЕ РЕЗУЛЬТАТЫ

1) гражданское воспитание:

сформированность гражданской позиции обучающегося как активного и ответственного члена российского общества, представление о математических основах функционирования различных структур, явлений, процедур гражданского общества (выборы, опросы и другое), умение взаимодействовать с социальными институтами в соответствии с их функциями и назначением;

2) патриотическое воспитание:

сформированность российской гражданской идентичности, уважения к прошлому и настоящему российской математики, ценностное отношение к достижениям российских математиков и российской математической школы, использование этих достижений в других науках, технологиях, сферах экономики;

3) духовно-нравственное воспитание:

осознание духовных ценностей российского народа, сформированность нравственного сознания, этического поведения, связанного с практическим применением достижений науки и деятельностью учёного, осознание личного вклада в построение устойчивого будущего;

4) эстетическое воспитание:

эстетическое отношение к миру, включая эстетику математических закономерностей, объектов, задач, решений, рассуждений, восприимчивость к математическим аспектам различных видов искусства;

5) физическое воспитание:

сформированность умения применять математические знания в интересах здорового и безопасного образа жизни, ответственное отношение к своему здоровью (здоровое питание, сбалансированный режим занятий и отдыха, регулярная физическая активность), физическое совершенствование при занятиях спортивно-оздоровительной деятельностью;

6) трудовое воспитание:

готовность к труду, осознание ценности трудолюбия, интерес к различным сферам профессиональной деятельности, связанным с математикой и её приложениями, умение совершать осознанный выбор будущей профессии и реализовывать собственные жизненные планы, готовность и способность к математическому образованию и

самообразованию на протяжении всей жизни, готовность к активному участию в решении практических задач математической направленности;

7) экологическое воспитание:

сформированность экологической культуры, понимание влияния социально-экономических процессов на состояние природной и социальной среды, осознание глобального характера экологических проблем, ориентация на применение математических знаний для решения задач в области окружающей среды, планирование поступков и оценки их возможных последствий для окружающей среды;

8) ценности научного познания:

сформированность мировоззрения, соответствующего современному уровню развития науки и общественной практики, понимание математической науки как сферы человеческой деятельности, этапов её развития и значимости для развития цивилизации, овладение языком математики и математической культурой как средством познания мира, готовность осуществлять проектную и исследовательскую деятельность индивидуально и в группе.

МЕТАПРЕДМЕТНЫЕ РЕЗУЛЬТАТЫ

Познавательные универсальные учебные действия

Базовые логические действия:

выявлять и характеризовать существенные признаки математических объектов, понятий, отношений между понятиями, формулировать определения понятий, устанавливать существенный признак классификации, основания для обобщения и сравнения, критерии проводимого анализа;

воспринимать, формулировать и преобразовывать суждения: утвердительные и отрицательные, единичные, частные и общие, условные;

выявлять математические закономерности, взаимосвязи и противоречия в фактах, данных, наблюдениях и утверждениях, предлагать критерии для выявления закономерностей и противоречий;

делать выводы с использованием законов логики, дедуктивных и индуктивных умозаключений, умозаключений по аналогии;

проводить самостоятельно доказательства математических утверждений (прямые и от противного), выстраивать аргументацию, приводить примеры и контрпримеры, обосновывать собственные суждения и выводы;

выбирать способ решения учебной задачи (сравнивать несколько вариантов решения, выбирать наиболее подходящий с учётом самостоятельно выделенных критериев).

Базовые исследовательские действия:

использовать вопросы как исследовательский инструмент познания, формулировать вопросы, фиксирующие противоречие, проблему, устанавливать искомое и данное, формировать гипотезу, аргументировать свою позицию, мнение;

проводить самостоятельно спланированный эксперимент, исследование по установлению особенностей математического объекта, явления, процесса, выявлению зависимостей между объектами, явлениями, процессами;

самостоятельно формулировать обобщения и выводы по результатам проведённого наблюдения, исследования, оценивать достоверность полученных результатов, выводов и обобщений;

прогнозировать возможное развитие процесса, а также выдвигать предположения о его развитии в новых условиях.

Работа с информацией:

выявлять дефициты информации, данных, необходимых для ответа на вопрос и для решения задачи;

выбирать информацию из источников различных типов, анализировать, систематизировать и интерпретировать информацию различных видов и форм представления;

структурировать информацию, представлять её в различных формах, иллюстрировать графически;

оценивать надёжность информации по самостоятельно сформулированным критериям.

Коммуникативные универсальные учебные действия

Общение:

воспринимать и формулировать суждения в соответствии с условиями и целями общения, ясно, точно, грамотно выражать свою точку зрения в устных и письменных текстах, давать пояснения по ходу решения задачи, комментировать полученный результат;

в ходе обсуждения задавать вопросы по существу обсуждаемой темы, проблемы, решаемой задачи, высказывать идеи, нацеленные на поиск решения, сопоставлять свои суждения с суждениями других участников диалога, обнаруживать различие и сходство позиций, в корректной форме формулировать разногласия, свои возражения;

представлять результаты решения задачи, эксперимента, исследования, проекта, самостоятельно выбирать формат выступления с учётом задач презентации и особенностей аудитории.

Регулятивные универсальные учебные действия

Самоорганизация:

составлять план, алгоритм решения задачи, выбирать способ решения с учётом имеющихся ресурсов и собственных возможностей, аргументировать и корректировать варианты решений с учётом новой информации.

Самоконтроль, эмоциональный интеллект:

владеть навыками познавательной рефлексии как осознания совершаемых действий и мыслительных процессов, их результатов, владеть способами самопроверки, самоконтроля процесса и результата решения математической задачи;

предвидеть трудности, которые могут возникнуть при решении задачи, вносить коррективы в деятельность на основе новых обстоятельств, данных, найденных ошибок, выявленных трудностей;

оценивать соответствие результата цели и условиям, объяснять причины достижения или недостижения результатов деятельности, находить ошибку, давать оценку приобретённому опыту.

Совместная деятельность:

понимать и использовать преимущества командной и индивидуальной работы при решении учебных задач, принимать цель совместной деятельности, планировать организацию совместной работы, распределять виды работ, договариваться, обсуждать процесс и результат работы, обобщать мнения нескольких людей;

участвовать в групповых формах работы (обсуждения, обмен мнений, «мозговые штурмы» и иные), выполнять свою часть работы и координировать свои действия с другими членами команды, оценивать качество своего вклада в общий продукт по критериям, сформулированным участниками взаимодействия.

ПРЕДМЕТНЫЕ РЕЗУЛЬТАТЫ

К концу **10 класса** обучающийся научится:

- свободно оперировать основными понятиями стереометрии при решении задач и проведении математических рассуждений;
- применять аксиомы стереометрии и следствия из них при решении геометрических задач;
- классифицировать взаимное расположение прямых в пространстве, плоскостей в пространстве, прямых и плоскостей в пространстве;
- свободно оперировать понятиями, связанными с углами в пространстве: между прямыми в пространстве, между прямой и плоскостью;
- свободно оперировать понятиями, связанными с многогранниками;

- свободно распознавать основные виды многогранников (призма, пирамида, прямоугольный параллелепипед, куб);
- классифицировать многогранники, выбирая основания для классификации;
- свободно оперировать понятиями, связанными с сечением многогранников плоскостью;
- выполнять параллельное, центральное и ортогональное проектирование фигур на плоскость, выполнять изображения фигур на плоскости;
- строить сечения многогранников различными методами, выполнять (выносные) плоские чертежи из рисунков простых объёмных фигур: вид сверху, сбоку, снизу;
- вычислять площади поверхностей многогранников (призма, пирамида), геометрических тел с применением формул;
- свободно оперировать понятиями: симметрия в пространстве, центр, ось и плоскость симметрии, центр, ось и плоскость симметрии фигуры;
- свободно оперировать понятиями, соответствующими векторам и координатам в пространстве;
- выполнять действия над векторами;
- решать задачи на доказательство математических отношений и нахождение геометрических величин, применяя известные методы при решении математических задач повышенного и высокого уровня сложности;
- применять простейшие программные средства и электронно-коммуникационные системы при решении стереометрических задач;
- извлекать, преобразовывать и интерпретировать информацию о пространственных геометрических фигурах, представленную на чертежах и рисунках;
- применять полученные знания на практике: сравнивать и анализировать реальные ситуации, применять изученные понятия в процессе поиска решения математически сформулированной проблемы, моделировать реальные ситуации на языке геометрии, исследовать построенные модели с использованием геометрических понятий и теорем, аппарата алгебры, решать практические задачи, связанные с нахождением геометрических величин;
- иметь представления об основных этапах развития геометрии как составной части фундамента развития технологий.

К концу **11 класса** обучающийся научится:

- свободно оперировать понятиями, связанными с цилиндрической, конической и сферической поверхностями, объяснять способы получения;
- оперировать понятиями, связанными с телами вращения: цилиндром, конусом, сферой и шаром;
- распознавать тела вращения (цилиндр, конус, сфера и шар) и объяснять способы получения тел вращения;
- классифицировать взаимное расположение сферы и плоскости;
- вычислять величины элементов многогранников и тел вращения, объёмы и площади поверхностей многогранников и тел вращения, геометрических тел с применением формул;
- свободно оперировать понятиями, связанными с комбинациями тел вращения и многогранников: многогранник, вписанный в сферу и описанный около сферы, сфера, вписанная в многогранник или тело вращения;
- вычислять соотношения между площадями поверхностей и объёмами подобных тел;
- изображать изучаемые фигуры, выполнять (выносные) плоские чертежи из рисунков простых объёмных фигур: вид сверху, сбоку, снизу, строить сечения тел вращения;
- извлекать, интерпретировать и преобразовывать информацию о пространственных геометрических фигурах, представленную на чертежах и рисунках;
- свободно оперировать понятием вектор в пространстве;
- выполнять операции над векторами;
- задавать плоскость уравнением в декартовой системе координат;
- решать геометрические задачи на вычисление углов между прямыми и плоскостями, вычисление расстояний от точки до плоскости, в целом, на применение векторно-координатного метода при решении;
- свободно оперировать понятиями, связанными с движением в пространстве, знать свойства движений;
- выполнять изображения многогранников и тел вращения при параллельном переносе, центральной симметрии, зеркальной симметрии, при повороте вокруг прямой, преобразования подобия;
- строить сечения многогранников и тел вращения: сечения цилиндра (параллельно и перпендикулярно оси), сечения конуса (параллельные основанию и проходящие через вершину), сечения шара;
- использовать методы построения сечений: метод следов, метод внутреннего проектирования, метод переноса секущей плоскости;

- доказывать геометрические утверждения;
- применять геометрические факты для решения стереометрических задач, предполагающих несколько шагов решения, если условия применения заданы в явной и неявной форме;
- решать задачи на доказательство математических отношений и нахождение геометрических величин;
- применять программные средства и электронно-коммуникационные системы при решении стереометрических задач;
- применять полученные знания на практике: сравнивать, анализировать и оценивать реальные ситуации, применять изученные понятия, теоремы, свойства в процессе поиска решения математически сформулированной проблемы, моделировать реальные ситуации на языке геометрии, исследовать построенные модели с использованием геометрических понятий и теорем, аппарата алгебры, решать практические задачи, связанные с нахождением геометрических величин;
- иметь представления об основных этапах развития геометрии как составной части фундамента развития технологий.

**ТЕМАТИЧЕСКОЕ ПЛАНИРОВАНИЕ
10 КЛАСС**

№ п/п	Наименование разделов и тем программы	Количество часов			Электронные (цифровые) образовательные ресурсы
		Всего	Контрольные работы	Практические работы	
1	Введение в стереометрию	23	1		
2	Взаимное расположение прямых в пространстве	6	1		
3	Параллельность прямых и плоскостей в пространстве	8			
4	Перпендикулярность прямых и плоскостей в пространстве	25			
5	Углы и расстояния	16	1		
6	Многогранники	7	1		
7	Векторы в пространстве	12			
8	Повторение, обобщение и систематизация знаний	5	2		
ОБЩЕЕ КОЛИЧЕСТВО ЧАСОВ ПО ПРОГРАММЕ		102	6	0	

11 КЛАСС

№ п/п	Наименование разделов и тем программы	Количество часов			Электронные (цифровые) образовательные ресурсы
		Всего	Контрольные работы	Практические работы	
1	Аналитическая геометрия	15	1		
2	Повторение, обобщение и систематизация знаний	15	1		
3	Объём многогранника	17	1		
4	Тела вращения	24	1		
5	Площади поверхности и объёмы круглых тел	9	1		
6	Движения	5	1		
7	Повторение, обобщение и систематизация знаний	17	2		
ОБЩЕЕ КОЛИЧЕСТВО ЧАСОВ ПО ПРОГРАММЕ		102	8	0	

**УЧЕБНО-МЕТОДИЧЕСКОЕ ОБЕСПЕЧЕНИЕ
ОБРАЗОВАТЕЛЬНОГО ПРОЦЕССА
ОБЯЗАТЕЛЬНЫЕ УЧЕБНЫЕ МАТЕРИАЛЫ ДЛЯ УЧЕНИКА**

- Математика. Геометрия, 11 класс/ Мерзляк А.Г., Номировский Д.А., Поляков В.М.; под редакцией Подольского В.Е., Общество с ограниченной ответственностью Издательский центр «ВЕНТАНА-ГРАФ»; Акционерное общество «Издательство «Просвещение»
- Математика: Геометрия, 11 класс/ Потоскуев Е.В., Звавич Л.И., Общество с ограниченной ответственностью «ДРОФА»; Акционерное общество «Издательство «Просвещение»
- Математика: алгебра и начала математического анализа, геометрия. Геометрия, 11 класс/ Александров А.Д., Вернер А.Л., Рыжик В.И., Акционерное общество «Издательство «Просвещение»
- Математика: алгебра и начала математического анализа, геометрия. Геометрия, 10-11 классы/ Бутузов В.Ф., Прасолов В.В. под редакцией Садовниченко В.А., Акционерное общество «Издательство «Просвещение»
- Математика: алгебра и начала математического анализа, геометрия. Геометрия, 10-11 классы/ Погорелов А.В., Акционерное общество «Издательство «Просвещение»
- Математика: алгебра и начала математического анализа, геометрия. Геометрия, 11 класс/ Гусев В.А., Рубин А.Г., Общество с ограниченной ответственностью «Баласс»

ПРИЛОЖЕНИЕ 1

КОНТРОЛЬНЫЕ ИЗМЕРИТЕЛЬНЫЕ МАТЕРИАЛЫ (ДЕМО ВЕРСИЯ)

Вариант 1

- ▲ 1. Даны прямая a и точка K , которая не лежит на этой прямой. Через точку K проведены прямые m и l , пересекающие прямую a . Докажите, что прямые a , m и l лежат в одной плоскости.
- 2. а) Можно ли провести через середину стороны треугольника прямую, которая не имеет общих точек с другой его стороной?
- ◆ б) Поясните ответ.

Вариант 2

- ▲ 1 Прямая m пересекает лучи AB , AC и AD в точках K , P и T . Докажите, что точки A , K , P и T лежат в одной плоскости.
- 2. а) Можно ли провести через точку пересечения диагоналей прямоугольника прямую, которая не имеет с его сторонами общих точек?
- ◆ б) Поясните ответ.

Вариант 1

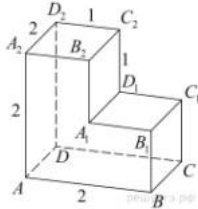
- ▲ 1. Основание AD трапеции $ABCD$ лежит в плоскости α . Вершина C не лежит в этой плоскости. Через середины боковых сторон трапеции проведена прямая m . Докажите, что прямая m параллельна плоскости α .
- 2. Дан треугольник MPK . Плоскость, параллельная прямой MK , пересекает сторону MP в точке M_1 , а сторону PK — в точке K_1 . Вычислите длину отрезка M_1K_1 , если $MK = 27$ см, $PK_1 : K_1K = 5 : 4$.
- ◆ 3. Точка O не лежит в плоскости параллелограмма $ABCD$. Как расположены прямые AB и p , проходящие через середины отрезков OC и OD ? Найдите угол между прямыми p и BC , если $\angle BAD = 130^\circ$.

Вариант 2

- ▲ 1. Вершины B и C треугольника ABC лежат в плоскости β . Вершина A ей не принадлежит. Докажите, что прямая, проходящая через середины отрезков AB и AC , параллельна плоскости β .
- 2. Дан треугольник ABC . Плоскость, параллельная прямой AC , пересекает сторону AB в точке A_1 , а сторону BC — в точке C_1 . Вычислите длину отрезка BC_1 , если $CC_1 = 20$ см, $A_1C_1 : AC = 3 : 7$.
- ◆ 3. Точка O не принадлежит плоскости равнобедренной трапеции $KMPT$ ($KT \parallel MP$). Как расположены прямые, одна из которых содержит среднюю линию трапеции, а другая — середины отрезков OM и OP ? Найдите угол между прямой MK и прямой, содержащей середины отрезков OM и OP , если $\angle MPT = 110^\circ$.

Часть №1

- 1.1 Дан прямоугольный треугольник ABC с гипотенузой $AC = 13$ см и катетом $BC = 5$ см. Отрезок $SA = 12$ см, — перпендикуляр к плоскости ABC . Найдите угол между прямой SB и плоскостью ABC .
- 1.2 Постройте сечение правильного тетраэдра $DABC$, проходящего через середины ребер AD и AB параллельно ребру AC .
- 1.3 Найдите расстояние между вершинами A и C_2 многогранника, изображенного на рисунке. Все двугранные углы многогранника прямые.

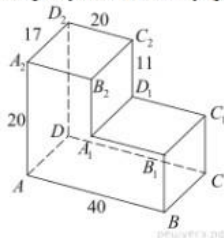


Часть №2

- 2.1 Диагонали ромба $ABCD$ пересекаются в точке O . SA — перпендикуляр к плоскости ромба $SO = 6$ см, $AB = 5$ см, $BD = 8$ см.
- Докажите, перпендикулярность плоскостей SBD и SAO ,
 - Найдите угол между прямой SO и плоскостью ABC .
- 2.2 На ребре AA_1 прямоугольного параллелепипеда $ABCD A_1 B_1 C_1 D_1$ взята точка E так, что $A_1 E : EA = 5 : 3$, на ребре BB_1 — точка F так, что $B_1 F : FB = 5 : 11$, а точка T — середина ребра $B_1 C_1$. Известно, что $AB = 6\sqrt{2}$, $AD = 10$, $AA_1 = 16$.
- Докажите, что плоскость EFT проходит через вершину D_1 .
 - Найдите площадь сечения параллелепипеда плоскостью EFT .

Часть №1

- 1.1 Дан прямоугольный треугольник ABC с гипотенузой $AC = 16$ см и катетом $BC = 12$ см. Отрезок $SC = 20$ см, — перпендикуляр к плоскости ABC . Найдите угол между прямой SA и плоскостью ABC .
- 1.2 Постройте сечение правильного тетраэдра $DABC$, проходящего через середины ребер AD и BC параллельно ребру DB .
- 1.3 Найдите расстояние между вершинами D и B_2 многогранника, изображенного на рисунке. Все двугранные углы многогранника прямые.



Часть №2

- 2.1 Диагонали ромба $ABCD$ пересекаются в точке O . SA — перпендикуляр к плоскости ромба. $SA = 3\sqrt{3}$ см, $AC = 6$ см.
- Докажите, что прямая BD перпендикулярна к плоскости SAO
 - Найдите двугранный угол $SDBA$.
- 2.2 На ребре AA_1 прямоугольного параллелепипеда $ABCD A_1 B_1 C_1 D_1$ взята точка E так, что $A_1 E = 6EA$. Точка T — середина ребра $B_1 C_1$. Известно, что $AB = 4\sqrt{2}$, $AD = 12$, $AA_1 = 14$.
- Докажите, что плоскость ETD_1 делит ребро BB_1 в отношении $4 : 3$.
 - Найдите площадь сечения параллелепипеда плоскостью ETD_1 .

Вариант 1

- ▲ 1. Через точку K , лежащую между параллельными плоскостями α и β , проведены прямые a и b . Первая прямая пересекает плоскости α и β в точках A_1 и B_1 соответственно, вторая — в точках A_2 и B_2 . Вычислите длину отрезка KB_2 , если $A_1A_2 : B_1B_2 = 3 : 5$, $A_2B_2 = 16$ см.
- 2. Дан параллелепипед $ABCD A_1 B_1 C_1 D_1$. Постройте сечение этого параллелепипеда плоскостью, проходящей через середину ребра AB и параллельной плоскости ACC_1 .
- ◆ 3. Верно ли утверждение, что прямая, лежащая в одной из параллельных плоскостей, параллельна другой плоскости? (Ответ обоснуйте).

Вариант 2

- ▲ 1. Луч KM пересекает параллельные плоскости α и β в точках M_1 и M_2 , а луч KP — в точках P_1 и P_2 соответственно. Вычислите длину отрезка M_1M_2 , если $KM_1 = 8$ см, $M_1P_1 : M_2P_2 = 4 : 9$.
- 2. Дан тетраэдр $ABCD$. Точка M — середина ребра DC , точка K — середина ребра AD . Постройте сечение тетраэдра плоскостью, содержащей точку K и параллельной плоскости AMB .
- ◆ 3. Прямые a и b расположены соответственно в параллельных плоскостях α и β . Верно ли, что эти прямые не имеют общих точек? (Ответ обоснуйте).

Вариант 1

- ▲ 1. Через середину M стороны AD квадрата $ABCD$ проведен к его плоскости перпендикуляр MK , равный $6\sqrt{3}$ см. Сторона квадрата равна 12 см. Вычислите:
 - а) расстояние от точки K до прямой BC ;
 - б) площади треугольника AKB и его проекции на плоскость квадрата;
 - в) расстояние между прямыми AK и BC .
- ◆ 2. Дан прямоугольный параллелепипед $ABCD A_1 B_1 C_1 D_1$. $AC = 13$ см, $DC = 5$ см, $AA_1 = 12\sqrt{3}$ см. Вычислите градусную меру двугранного угла $ADCA_1$.

Вариант 2

- ▲ 1. Через середину E гипотенузы AB прямоугольного треугольника ABC проведен к его плоскости перпендикуляр EM , равный $4\sqrt{5}$ см. $AB = BC = 16$ см, $\angle C = 90^\circ$. Вычислите:
 - а) расстояние от точки M до прямой AC ;
 - б) площади треугольника ACM и его проекции на плоскость данного треугольника;
 - в) расстояние между прямыми EM и BC .
- ◆ 2. Дан прямоугольный параллелепипед $ABCD A_1 B_1 C_1 D_1$, основание которого квадрат. $AC = 6\sqrt{2}$ см, $AB_1 = 4\sqrt{3}$ см. Вычислите градусную меру двугранного угла B_1ADB .

Вариант 1

- ▲ 1. Высота правильной призмы $ABCD_1B_1C_1D_1$ равна 10 см. Сторона ее основания — 12 см. Вычислите периметр сечения призмы плоскостью, содержащей прямую AB и середину ребра CC_1 .
2. Высота правильной треугольной пирамиды равна 6 см. Радиус окружности, описанной около ее основания, — $4\sqrt{3}$. Вычислите:
- а) длину бокового ребра пирамиды;
- б) площадь боковой поверхности пирамиды.
3. Основание пирамиды $MABCD$ — квадрат, сторона которого равна 12 см. Боковое ребро MD перпендикулярно плоскости основания пирамиды. Угол между плоскостями основания и грани MAB равен 30° . Вычислите:
- а) расстояние от вершины пирамиды до прямой AC ;
 - б) площадь полной поверхности пирамиды.

Вариант 2

- ▲ 1. Высота правильной призмы $KMPK_1M_1P_1$ равна 15 см. Сторона ее основания — $8\sqrt{3}$ см. Вычислите периметр сечения призмы плоскостью, содержащей прямую PP_1 и середину ребра KM .
2. Высота правильной четырехугольной пирамиды равна 8 см, сторона ее основания — 12 см. Вычислите:
- а) длину бокового ребра пирамиды;
- б) площадь боковой поверхности пирамиды.
3. Ребро MA пирамиды $MABC$ перпендикулярно плоскости ее основания. $AB = BC = 18$ см, $\angle BAC = 90^\circ$. Угол между плоскостями основания и грани MBC равен 45° . Вычислите:
- а) расстояние от вершины пирамиды до прямой BC ;
 - б) площадь полной поверхности пирамиды.

Вариант 1

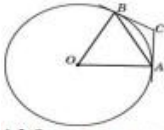
1. Высота правильной треугольной пирамиды равна 6 см. Сторона ее основания — $8\sqrt{3}$ см. Вычислите длину ребра этой пирамиды.
2. В прямоугольном параллелепипеде $ABCD_1A_1B_1C_1D_1$ проведено сечение плоскостью, содержащей прямую BD и вершину C_1 . Угол между плоскостями сечения и основания равен 60° . $AB = 8$ см, $BC = 6$ см. Вычислите площадь сечения.
3. Через центр O квадрата $ABCD$ проведен к его плоскости перпендикуляр KO . Угол между прямой KC и плоскостью квадрата равен 60° . $AB = 18$ см. Вычислите угол между плоскостями:
- а) AKC и DKB ;
 - б) ABC и BKC .

Вариант 2

1. Высота правильной четырехугольной пирамиды равна 16 см. Сторона основания пирамиды — 24 см. Вычислите расстояние от вершины пирамиды до:
- а) сторон основания;
 - б) до вершин основания.
2. Сторона основания правильной треугольной призмы $MPKM_1P_1K_1$ равна 12 см. Вычислите площадь сечения призмы плоскостью MPK , если угол между плоскостями сечения и основания равен 45° .
3. Через вершину D тупого угла ромба $ABCD$ проведен к его плоскости перпендикуляр DM , равный 9,6 дм. Диагонали ромба равны 12 дм и 16 дм. Вычислите величину угла между плоскостями:
- а) ABC и MDC ;
 - б) ABC и CBM .

Часть №1

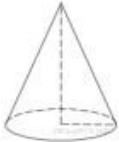
1.1 Через концы A, B дуги окружности в 112° проведены касательные AC и BC . Найдите угол ACB . Ответ дайте в градусах.



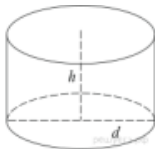
1.2 Основания равнобедренной трапеции равны 12 и 18, а ее площадь равна 60. Найдите периметр трапеции.

1.3 В треугольнике ABC угол C равен 90° , $\operatorname{tg} A = 0,75$, $BC = 9$. Найдите AC .

1.4 Радиус основания конуса равен 28, высота равна 21. Найдите площадь полной поверхности конуса, деленную на π .



1.5 Площадь боковой поверхности цилиндра равна 21π , а диаметр основания равен 7. Найдите высоту цилиндра.



Часть №2

2.1 Основание ABC правильной треугольной пирамиды $SABC$ вписано в нижнее основание цилиндра, а вершина S расположена на оси O_1O_2 цилиндра (точка O_1 — центр верхнего основания). Объем цилиндра равен 21π , а объем пирамиды $3\sqrt{3}$.

а) Докажите, что $SO_1 : SO_2 = 3 : 4$.

б) Найдите расстояние между прямыми AC и SB , если радиус основания цилиндра равен $2\sqrt{3}$.

2.2 Дана трапеция $ABCD$ с основаниями BC и AD . Точки M и N являются серединами сторон AB и CD соответственно. Окружность, проходящая через точки B и C , пересекает отрезки BM и CN в точках P и Q (отличных от концов отрезков).

а) Докажите, что точки M, N, P и Q лежат на одной окружности.

б) Найдите длину отрезка QN , если $BC = 4,5$, $AD = 21,5$, $AB = 26$, $CD = 25$, а угол CPD — прямой.